

Министерство образования Новосибирской области
Государственное автономное профессиональное образовательное учреждение
Новосибирской области
«НОВОСИБИРСКИЙ КОЛЛЕДЖ ПИЩЕВОЙ ПРОМЫШЛЕННОСТИ
И ПЕРЕРАБОТКИ»

СОГЛАСОВАНО:

Заместитель директора по учебно-
производственной работе

«__»____2021

_____ А.В. Чупина

Комплект контрольно-измерительных средств
по учебной дисциплине
ОП 01 «Инженерная графика»,
на промежуточной аттестации 2021 – 2022 учебного года
для обучающихся по специальности СПО
19.02.03 Технология хлеба, кондитерских и макаронных изделий

Новосибирск

2021 г.

Комплект контрольно-измерительных материалов разработан на основе Федерального государственного образовательного стандарта среднего профессионального образования по специальности 19.02.03 Технология хлеба, кондитерских и макаронных изделий, входящей в состав укрупненной группы специальностей 19.00.00 Промышленная экология и биотехнологии, программы учебной дисциплины ОП 01 «Инженерная графика».

Разработчик:

Государственное автономное профессиональное образовательное учреждение Новосибирской области «Новосибирский колледж пищевой промышленности и переработки», Гулин А.А., преподаватель

Одобрено на заседании предметно-цикловой комиссии комиссии
Общих гуманитарных и социально-экономических дисциплин,
Профессионального цикла по профессиям 19.01.09, 19.01.14 и
специальностям 19.02.07., 19.02.08.

Протокол №_1 от «31»_08_2021 г.

Председатель ПЦК _____ Л.М. Князькова

Содержание

1. Паспорт комплекта контрольно-измерительных материалов	с.3
1.1. Область применения	
1.2. Результаты освоения учебной дисциплины, подлежащие проверке...	с.3
1.3. Организация контроля и оценки освоения программы учебной дисциплины.....	с.3
1.4. Материально-техническое обеспечение контрольно-измерительных мероприятий.....	с.5
2. Комплект материалов для контроля и оценки освоения умений и усвоения знаний	
2.1 Задание для экзаменуемого	
2.2 Задание для экзаменатора	
3. Приложения:.....	с.10
Приложения 1. Тестовые задания для промежуточной аттестации	
Приложения 2. Перечень лабораторно-практических занятий	

1. Паспорт комплекта контрольно-измерительных материалов (ККИМ)

1.1 Область применения

Комплект контрольно-измерительных материалов предназначен для проверки результатов освоения учебной дисциплины ОП 01 «Инженерная графика» по специальности СПО 19.02.03 Технология хлеба, кондитерских и макаронных изделий, входящей в состав укрупненной группы специальностей 19.00.00 Промышленная экология и биотехнологии.

1.2 Результаты освоения учебной дисциплины, подлежащие проверке.

В результате освоения учебной дисциплины обучающийся должен уметь:

- читать конструкторскую и технологическую документацию по профилю специальности;
- выполнять комплексные чертежи геометрических тел и проекции точек, лежащих на их поверхности, в ручной и машинной графике; выполнять эскизы, технические рисунки и чертежи деталей, их элементов, узлов в ручной и машинной графике;
- выполнять графические изображения технологического оборудования и технологических схем и ручной и машинной графике;
- оформлять проектно-конструкторскую, технологическую и другую техническую документацию в соответствии с действующей нормативной базой.

В результате освоения дисциплины обучающийся должен знать:

- правила чтения конструкторской и технологической документации;
- способы графического представления объектов, пространственных образов, технологического оборудования и схем;
- законы, методы и приемы проекционного черчения; требования государственных стандартов Единой системы конструкторской документации (далее - ЕСКД) и Единой системы технологической документации (далее - ЕСТД);
- правила выполнения чертежей, технических рисунков, эскизов и схем;
- технику и принципы нанесения размеров;
- классы точности и их обозначение на чертежах;
- типы и назначение спецификаций, правила их чтения и составления

Общие компетенции:

ОК 1. Понимать сущность и социальную значимость своей будущей профессии, проявлять к ней устойчивый интерес.

ОК 2. Организовывать собственную деятельность, выбирать типовые методы и способы выполнения профессиональных задач, оценивать их эффективность и качество.

ОК 3. Принимать решения в стандартных и нестандартных ситуациях и нести за них ответственность.

ОК 4. Осуществлять поиск и использование информации, необходимой для эффективного выполнения профессиональных задач, профессионального и личностного развития.

ОК 5. Использовать информационно-коммуникационные технологии в профессиональной деятельности.

ОК 6. Работать в коллективе и команде, эффективно общаться с коллегами, руководством, потребителями.

ОК 7. Брать на себя ответственность за работу членов команды (подчиненных), результат выполнения заданий.

ОК 8. Самостоятельно определять задачи профессионального и личностного развития, заниматься самообразованием, осознанно планировать повышение квалификации.

ОК 9. Ориентироваться в условиях частой смены технологий в профессиональной деятельности.

Основные виды профессиональной деятельности и профессиональные компетенции:

ПК 1.1. Организовывать и производить приемку сырья.

ПК 1.2. Контролировать качество поступившего сырья.

ПК 1.3. Организовывать и осуществлять хранение сырья.

ПК 1.4. Организовывать и осуществлять подготовку сырья к переработке.

ПК 2.1. Контролировать соблюдение требований к сырью при производстве хлеба и хлебобулочных изделий.

ПК 2.2. Организовывать и осуществлять технологический процесс изготовления полуфабрикатов при производстве хлеба и хлебобулочных изделий.

ПК 2.3. Организовывать и осуществлять технологический процесс производства хлеба и хлебобулочных изделий.

ПК 2.4. Обеспечивать эксплуатацию технологического оборудования хлебопекарного производства.

ПК 3.2. Организовывать и осуществлять технологический процесс производства сахаристых кондитерских изделий.

ПК 3.3. Организовывать и осуществлять технологический процесс производства мучных кондитерских изделий.

ПК 3.4. Обеспечивать эксплуатацию технологического оборудования при производстве кондитерских изделий.

ПК 4.2. Организовывать и осуществлять технологический процесс производства различных видов макаронных изделий.

ПК 4.3. Обеспечивать эксплуатацию технологического оборудования при производстве различных видов макаронных изделий.

ПК 5.5. Вести утвержденную учетно-отчетную документацию.

Формой аттестации по учебной дисциплине является дифференцированный зачет.

1.3 Организация контроля и оценки освоения программы учебной дисциплины

В результате аттестации по учебной дисциплине осуществляется комплексная проверка следующих умений и знаний, а также динамика формирования общих компетенций:

Таблица 1

Результаты обучения (освоенные умения, усвоенные знания)	Формы и методы контроля и оценки результатов обучения
В результате освоения дисциплины обучающийся должен уметь:	
читать конструкторскую и технологическую документацию по профилю специальности;	практические работы № 1-5, 11-20
выполнять комплексные чертежи геометрических тел и проекции точек, лежащих на их поверхности, в ручной и машинной графике; выполнять эскизы, технические рисунки и чертежи деталей, их элементов, узлов в ручной и машинной графике;	практические работы №18-20, 15,27, 46-49
выполнять графические изображения технологического оборудования и технологических схем и ручной и машинной графике;	практические работы № 32,50
оформлять проектно-конструкторскую, технологическую и другую техническую документацию в соответствии с действующей нормативной базой.	практические работы №33,34,50
В результате освоения дисциплины обучающийся должен знать:	
правила чтения конструкторской и технологической документации;	практические работы №31-37
способы графического представления объектов, пространственных образов, технологического оборудования и схем;	практические работы №38-47, 21-26
законы, методы и приемы проекционного черчения; требования государственных стандартов Единой системы конструкторской документации	Наблюдение, опрос, практическая работа № 9-13 ,

(далее - ЕСКД) и Единой системы технологической документации (далее - ЕСТД);	
правила выполнения чертежей, технических рисунков, эскизов и схем;	практические работы №12-15, 27
технику и принципы нанесения размеров;	практическая работа №2
классы точности и их обозначение на чертежах;	Опрос, практическая работа №5
типы и назначение спецификаций, правила их чтения и составления;	Наблюдение, опрос, практические работы №29,33,50,51
Итоговая аттестация	Дифференцированный зачет

Контроль и оценка осуществляются с использованием следующих форм и методов: наблюдение, опрос, тестирование, собеседование, защита самостоятельных и практических работ. Оценка освоения дисциплины предусматривает использование бально-рейтинговой системы оценки успеваемости обучающихся (оценка производится в соответствии с рейтинг-планом) и проведения экзамена.

Рейтинг – план по учебной дисциплине ОП 01 «Инженерная графика» :

№п/п	Учебная деятельность студента в семестре	Баллы	Штрафные баллы
I. Посещаемость (max - 60 баллов)			
1.	<i>Посещение учебных занятий (отсутствие пропусков)</i>	60	
2.	Посетил все теоретические занятия	нет	
3.	Посетил все практические занятия	60	
4.	Пропуски по уважительной причине	0	
5.	Пропуски без уважительных причин (за 1 пропущенное занятие)		- 1
6.	Опоздание на учебное занятие (за 1 опоздание)		- 0,5
II. Освоение ППСЗ (max – 185 баллов)			

7.	Своевременное выполнение домашнего задания (за 1)	3 - 5	
8.	Несвоевременное выполнение домашнего задания (за 1)		- 1
9.	Своевременно сданные контрольные точки (за 1 тест, контрольную работу, опрос)	3 - 5	
10.	Своевременное выполнение всех видов самостоятельной работы (за 1 СР)	3 - 5	
11.	Несвоевременное выполнение всех видов самостоятельной работы (за 1 СР)		- 1
12.	Своевременная отработка пропущенных учебных занятий	1	
III. Внеаудиторная работа по дисциплине /ПМ (max - 25 баллов)			
	Выступление с докладом на научно-практических конференциях:		
	- внутри колледжа	3	
	- городских;	5	
	- окружных, региональных, областных;	6	
	- межрегиональных;	8	
	- международных	10	
13.	Очное участие в конкурсах, олимпиадах по дисциплине		
	- внутри колледжа	3	
	- городских;	5	
	- окружных, региональных, областных;	6	
	- межрегиональных;	8	
	- международных	10	
14.	Участие в олимпиадах, конкурсах профессионального мастерства		
	- внутри колледжа	3	
	- городских;	5	
	- окружных, региональных, областных;	6	

	- межрегиональных;	8	
	- международных	10	
15.	Дистанционное участие в конференциях и конкурсах различного уровня	5	
16.	Публикации:		
	- на уровне округа, области, региона	6	
	- межрегиональные;	8	
	- международные	10	
17.	Написание и защита учебно-исследовательского проекта	10	
18.	Участие в подготовке и проведении научно-практических конференций, профессиональных конкурсов и т.п.	5	
19.	Изготовление учебных таблиц, фильмов, наглядных пособий, составление комплектов информационных материалов (объектов) по дисциплине / ПМ.	10	
	ИТОГО:	270	

Пересчет полученной суммы баллов по дисциплине в оценку

Сумма баллов	Оценка
204 - 165	«удовлетворительно»
244 - 205	«хорошо»
270 - 245	«отлично»
менее 164	«неудовлетворительно»

1.4. Материально-техническое обеспечение контрольно-измерительных занятий

Контрольно-оценочные мероприятия проводятся в учебном кабинете №212. Оборудование и технологическое оснащение рабочих мест учебного кабинета:

- рабочие столы;
- компьютер с программой компьютерного черчения и проектирования
- комплект учебно-методической документации;
- комплект практических заданий по темам;
- комплект моделей деталей;
- электронные учебники.

Технические средства обучения: компьютер, проектор.

2. Комплект материалов для контроля и оценки освоения умений и усвоения знаний

2.1 ЗАДАНИЕ ДЛЯ зачета

Список вопросов для подготовки

Тренировочные задачи (задания) для подготовки к зачету

Вопросы к зачету по инженерной графике

1. Как определяются размеры форматов листов оригиналов?
2. Какой формат принимается за основной?
3. На какие чертежи не распространяются градации масштабов, предусмотренных стандартом?
4. Что называется масштабом чертежа?
5. Какие основные масштабы уменьшения и увеличения установлены стандартом?
6. Как обозначаются масштабы в графе основной надписи и на поле чертежа?
7. Какие основные типы линий употребляются в черчении?
8. Что такое размер шрифта?
9. Как определяется высота строчных букв?
10. Какие основные размеры шрифта установлены ГОСТ?
11. Плоские кривые линии. Эллипс. Построение касательной и нормали в произвольной точке.
12. Плоские кривые линии. Парабола, циклоида, эвольвента, синусоида, эллипс. Построение касательной и нормали в произвольной точке.
13. Сопряжения и их элементы.
14. Изображение на какой плоскости проекций принимается на чертеже в качестве главного?
15. Что такое вид? Что следует использовать для уменьшения числа видов?
16. Что такое разрез? Что показывают на разрезе?
17. Что такое сечение?
18. Как отмечают виды, не находящиеся в непосредственной проекционной связи, как указывают и обозначают направление проецирования?
19. В каких случаях применяют дополнительные виды?
20. Как разделяют разрезы в зависимости от числа секущих плоскостей?
21. Какие разрезы называются фронтальными и профильными?
22. Какой разрез называют ступенчатым, а какой - ломаным?
23. Как указывается на чертежах положение секущей плоскости?
24. Какой разрез называется местным?
25. В каких случаях допускается соединять часть вида и часть разреза?
26. В каких случаях строят не сечение, а разрез?

27. Что называется выносным элементом, и какие подробности о деталях он может содержать?
28. Как отмечают на виде разрезе или сечении место применения выносного элемента?
29. Где располагают на чертеже выносной элемент?
30. В каких случаях изображается условно или не показывается плавный переход от одной поверхности к другой?
31. Какова особенность вычерчивания в продольных разрезах: винтов, заклепок, шпонок, не пустотелых валов, шпинделей и т.п.?
32. Какие предметы допускается вычерчивать с разрывом?
33. Какое общее количество размеров должно быть на чертеже?
34. Какие размеры называются справочными и как они обозначаются?
35. Какие размеры не допускается повторять на разных изображениях?
36. Как допускается изображать конусность и уклон?
37. Как наносят размеры криволинейного контура?
38. Как и в каких случаях проводят размерные линии с обрывом?
39. Как указывают размеры толщины или длины детали, изображенной в одной проекции?
40. Как изображают резьбу на стержне: при изображении на плоскости, параллельной оси стержня и на видах, полученных на плоскости, перпендикулярной оси стержня?
41. Как изображают резьбу в отверстии? Как изображают резьбу на разрезах, параллельных оси отверстия и на плоскость, перпендикулярную оси отверстия?
42. Как изображают шлицы на головках крепежных деталей?
43. Какие детали на сборочном чертеже показываются не рассеченными?
44. Виды изделий. Деталь. Сборочная единица. Комплекс. Комплект. Дайте определение каждому.
45. Стадии разработки конструкторской документации. Виды конструкторских документов, разрабатываемых на каждой стадии.
46. Содержание чертежа общего вида и на каких стадиях проектирования он разрабатывается.
47. Содержание и назначение сборочного чертежа.
48. Какие размеры проставляют на сборочном чертеже?
49. Как на сборочном чертеже изображаются уклоны, конусности отверстия и т.п. размерами менее 2 мм?
50. Содержание рабочего чертежа. Стадия разработки.
51. Что такое спецификация изделия? Основные разделы спецификации в порядке их заполнения.
52. Виды соединений. Какие соединения относятся к разъемным?
53. Какие соединения относятся к неразъемным?
54. Какова структура обозначения швов сварных соединений?
55. В чем отличие изображений видимого и невидимого сварного шва?
56. В чем отличие обозначения клеевого соединения от соединения пайкой?
57. Резьба. Определение. Основные параметры. Виды поверхностей,

- ограничивающих резьбу.
58. Классификация резьб.
 59. Изображение и обозначение резьб на чертежах.
 60. Особенности обозначения многозаходных резьб.
 61. Порядок расчета дины болта, шпильки и винта в соответствующих соединениях.
 62. Упрощенные и условные изображения резьбовых соединений.
 63. Что такое чертеж детали?
 64. Что такое эскиз детали?
 65. Последовательность составления эскиза детали.
 66. Порядок чтения чертежа общего вида.
 67. Порядок составления эскиза при детализации по чертежу общего вида.
 68. Условности и упрощения при выполнении сборочных чертежей.
 69. Назначение САПР. Уровни САПР и их возможности.
 70. Виды соединений. Какие соединения относятся к разъемным?
 71. Какие соединения относятся к неразъемным?
 72. Какова структура обозначения швов сварных соединений?
 73. В чем отличие изображений видимого и невидимого сварного шва?

ЗАДАЧИ ПО ИНЖЕНЕРНОЙ ГРАФИКЕ

Задание 1.

Вопрос 1. Какими размерами определяются форматы чертежных листов?

- 1) Любыми произвольными размерами, по которым вырезан лист;
- 2) Обрамляющей линией (рамкой формата), выполняемой сплошной основной линией;
- 3) Размерами листа по длине;
- 4) Размерами внешней рамки, выполняемой сплошной тонкой линией;
- 5) Размерами листа по высоте.

Вопрос 2. Где располагается основная надпись чертежа по форме 1 на чертежном листе?

- 1) Посередине чертежного листа;
- 2) В левом верхнем углу, примыкая к рамке формата;
- 3) В правом нижнем углу;
- 4) В левом нижнем углу;
- 5) В правом нижнем углу, примыкая к рамке формата.

Вопрос 3. Толщина сплошной основной линии в зависимости от сплошности изображения и формата чертежа лежит в следующих пределах?

- 1) 0,5 2,0 мм.;
- 2) 1,0 1,5 мм.;
- 3) 0,5 1,4 мм.;
- 4) 0,5 1,0 мм.;
- 5) 0,5 1,5 мм.

Вопрос 4. По отношению к толщине основной линии толщина разомкнутой линии составляет?

- 1) (0,5 1,0) S;
- 2) (1,0 2,0) S;
- 3) (1,0 2,5) S;
- 4) (0,8 1,5) S;
- 5) (1,0 1,5) S.

Вопрос 5. Масштабы изображений на чертежах должны выбираться из следующего ряда?

- 1) 1:1; 1:2; 1:2,5; 1:3; 1:4; 1:5; 2:1; 2,5:1; 3:1; 4:1; 5:1.....
- 2) 1:1; 1:2; 1:2,5; 1:4; 1:5; 2:1; 2,5:1; 4:1; 5:1.....
- 3) 1:1; 1:2; 1:4; 1:5; 2:1; 4:1; 5:1.....
- 4) 1:2; 1:2,5; 1:4; 1:5; 2:1; 2,5:1; 4:1; 5:1.....
- 5) 1:1; 1:2,5; 1:5; 2:1; 2,5:1; 5:1.....

Задание 2.

Вопрос 1. Размер шрифта h определяется следующими элементами?

- 1) Высотой строчных букв;
- 2) Высотой прописных букв в миллиметрах;
- 3) Толщиной линии шрифта;
- 4) Шириной прописной буквы А, в миллиметрах;
- 5) Расстоянием между буквами.

Вопрос 2. ГОСТ устанавливает следующие размеры шрифтов в миллиметрах?

- 1) 1; 2; 3; 4; 5; 6; 7; 8; 9; 10.....
- 2) 1,5; 2,5; 3,5; 4,5; 5,5; 6,5.....
- 3) 2; 4; 6; 8; 10; 12.....
- 4) 1,8; 2,5; 3,5; 5; 7; 10; 14; 20.....
- 5) 1; 3; 5; 7; 9; 11; 13.....

Вопрос 3. Толщина линии шрифта d зависит от?

- 1) От толщины сплошной основной линии S;
- 2) От высоты строчных букв шрифта;
- 3) От типа и высоты шрифта;
- 4) От угла наклона шрифта;
- 5) Не зависит ни от каких параметров и выполняется произвольно.

Вопрос 4. В соответствии с ГОСТ 2.304-81 шрифты типа А и Б выполняются?

- 1) Без наклона и с наклоном 600;
- 2) Без наклона и с наклоном около 750;
- 3) Только без наклона;
- 4) Без наклона и с наклоном около 1150;
- 5) Только с наклоном около 750.

Вопрос 5. Какой может быть ширина букв и цифр стандартных шрифтов?

- 1) Ширина букв и цифр одинакова;
- 2) Ширина всех букв одинакова, а всех цифр другая;
- 3) Ширина абсолютно всех букв и цифр произвольная;
- 4) Ширина букв и цифр определяются высотой строчных букв;
- 5) Ширина букв и цифр определяются размером шрифта.

Задание 3.

Вопрос 1. В каких единицах измерения указываются линейные и угловые размеры на чертежах?

- 1) В сотых долях метра и градусах;
- 2) В микронах и секундах;
- 3) В метрах, минутах и секундах;
- 4) В дюймах, градусах и минутах;
- 5) В миллиметрах, градусах минутах и секундах.

Вопрос 2. При нанесении размера дуги окружности (части окружности) используют следующий знак?

- 1) R;
- 2) Æ ;
- 3) $\text{Æ}\varnothing 2$;
- 4) Нет специального обозначения;
- 5) Сфера.

Вопрос 3. На (Рис. С3-1) показаны шрифты правильных и ошибочных расположений размерных линий. Определите, под каким номером обозначен правильный чертеж?

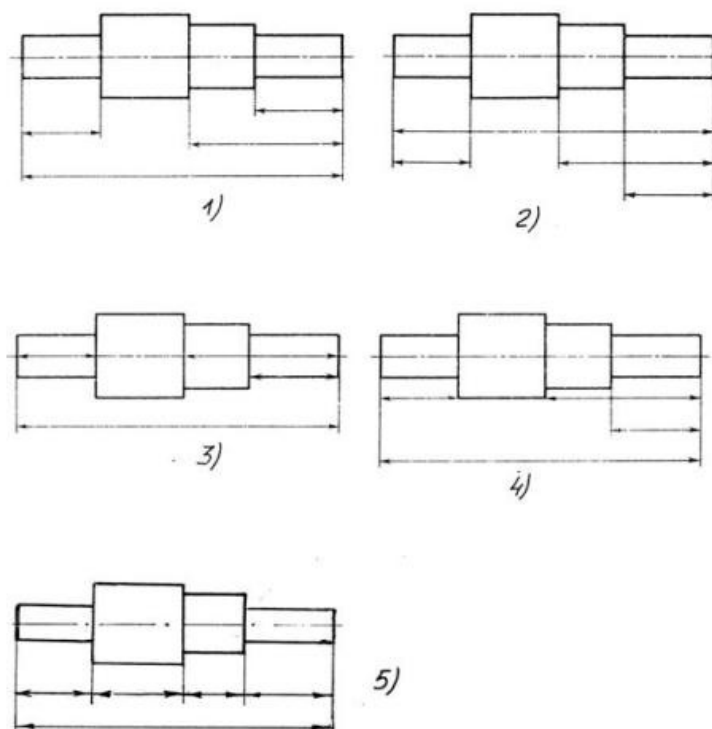


Рис. С3-1.

- 1) Правильный вариант ответа №1;
- 2) Правильный вариант ответа №2;
- 3) Правильный вариант ответа №3;
- 4) Правильный вариант ответа №4;
- 5) Правильный вариант ответа №5;

Вопрос 4. Определите, на каком чертеже правильно записаны размерные числа (см. Рис. СЗ-2)?

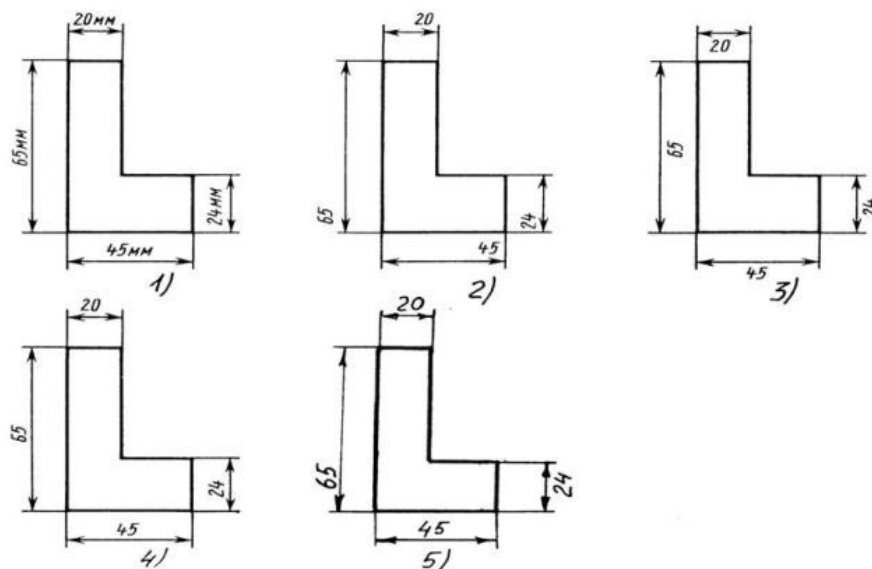


Рис. СЗ-2.

- 1) Правильный вариант ответа №1;
- 2) Правильный вариант ответа №2;
- 3) Правильный вариант ответа №3;
- 4) Правильный вариант ответа №4;
- 5) Правильный вариант ответа №5;

Вопрос 5. На каком чертеже правильно нанесены величины диаметра и квадрата (см. Рис. СЗ-3)?

- 1) Правильный вариант ответа №1;
- 2) Правильный вариант ответа №2;
- 3) Правильный вариант ответа №3;
- 4) Правильный вариант ответа №4;
- 5) Правильный вариант ответа №5;

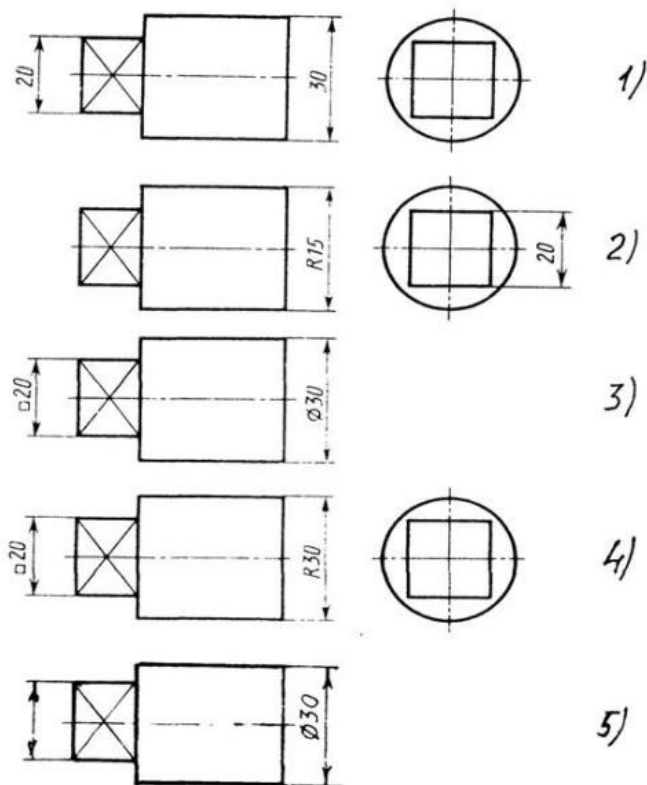


Рис. СЗ-3

Задание 4.

Вопрос 1. Какими линиями выполняют вспомогательные построения при выполнении элементов геометрических построений?

- 1) Сплошными основными;
- 2) Сплошными тонкими;
- 3) Штрих-пунктирными;
- 4) Штриховыми;
- 5) Сплошной волнистой.

Вопрос 2. На каком расстоянии от контура рекомендуется проводить размерные линии?

- 1) Не более 10 мм;
- 2) От 7 до 10 мм;
- 3) От 6 до 10 мм;
- 4) От 1 до 5 мм;
- 5) Не более 15 мм.

Вопрос 3. На каком расстоянии друг от друга должны быть параллельные размерные линии?

- 1) Не более 7 мм;
- 2) Не более 10 мм;
- 3) От 7 до 10 мм;
- 4) От 6 до 10 мм;
- 5) Не менее 17 мм.

Вопрос 4. Чему должен быть равен раствор циркуля при делении окружности на шесть равных частей?

- 1) Диаметру окружности.
- 2) Половине радиуса окружности.
- 3) Двум радиусам окружности.
- 4) Двум диаметрам окружности.
- 5) Радиусу окружности.

Вопрос 5. В каком случае показано правильное расположение центровых линий окружностей (см. Рис. СЗ-4)?

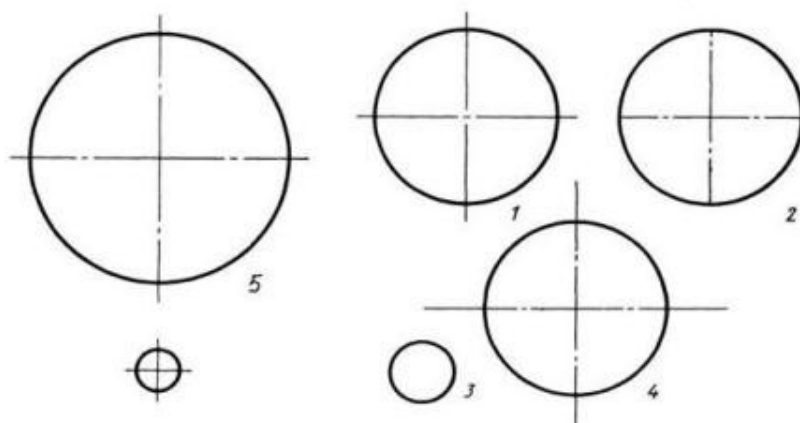


Рис. СЗ-4.

- 1) Правильный вариант ответа №1;
- 2) Правильный вариант ответа №2;
- 3) Правильный вариант ответа №3;
- 4) Правильный вариант ответа №4;
- 5) Правильный вариант ответа №5;

Задание 5.

Вопрос 1. В каком месте должна находиться точка сопряжения дуги с дугой?

- 1) В центре дуги окружности большего радиуса;
- 2) На линии, соединяющей центры сопряжений дуг;
- 3) В центре дуги окружности меньшего радиуса;
- 4) В любой точке дуги окружности большего радиуса;
- 5) Это место определить невозможно.

Вопрос 2. Уклон 1:5 означает, что длина одного катета прямоугольного треугольника равна?

- 1) Одной единице, а другого четыре;
- 2) Пяти единицам, а другого тоже пяти;
- 3) Пяти единицам, а другого десяти;
- 4) Двум единицам, а другого восьми;
- 5) Одной единице, а другого пяти.

Вопрос 3. Какие проставляются размеры при выполнении чертежа в масштабе, отличном от 1:1?

- 1) Те размеры, которые имеет изображение на чертеже;
- 2) Увеличение в два раза;
- 3) Уменьшение в четыре раза;
- 4) Независимо от масштаба изображения ставятся реальные размеры изделия;
- 5) Размеры должны быть увеличены или уменьшены в соответствии с масштабом.

Вопрос 4. Конусность 1:4 означает, что?

- 1) Диаметр основания составляет 1 часть, а высота 4 части;
- 2) Диаметр основания составляет 4 части, а высота 1 часть;
- 3) Диаметр основания составляет 1 часть, а высота 5 частей;
- 4) Соотношение величин диаметра и высоты конуса одинакова;
- 5) Диаметр составляет третью часть от высоты конуса.

Вопрос 5. На каком чертеже (см. Рис. СЗ-5) рационально нанесены величины радиусов, диаметров, толщины деталей и размеры, определяющие расположение отверстий?

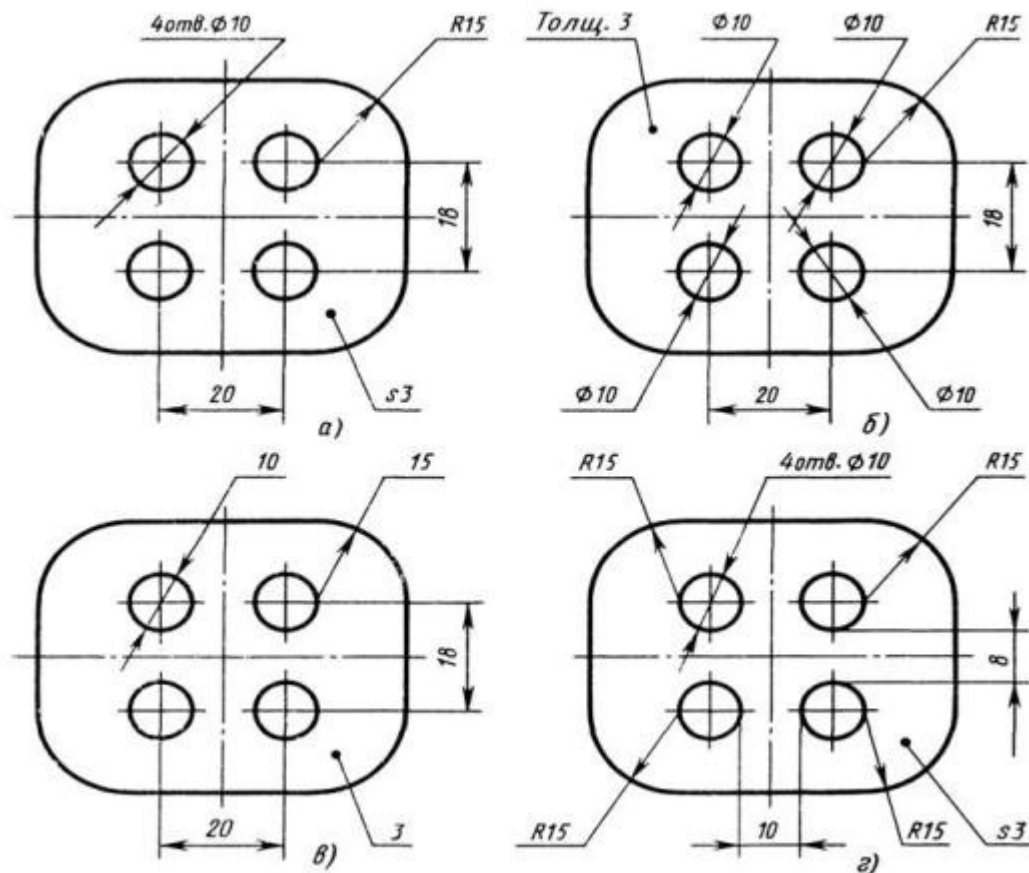


Рис. СЗ-5.

- 1) На первом чертеже;
- 2) На втором чертеже;
- 3) На третьем чертеже;

- 4) На четвертом чертеже;
- 5) Нет правильного ответа.

Задание 6.

Вопрос 1. Точка может быть однозначно определена в пространстве, если она спроецирована?

- 1) На две плоскости проекций;
- 2) На одну плоскость проекций;
- 3) На ось x ;
- 4) На три плоскости проекций;
- 5) На плоскость проекций V .

Вопрос 2. Как расположена в пространстве горизонтальная плоскость проекций? Координатного треугольника?

- 1) Параллельно оси x ;
- 2) Перпендикулярно оси y ;
- 3) Параллельно угловой линии горизонта;
- 4) Параллельно плоскости V ;
- 5) Параллельно оси z .

Вопрос 3. Профильная плоскость проекций для координатного трехгранника вводится?

- 1) Параллельно плоскости V ;
- 2) Параллельно плоскости H ;
- 3) Перпендикулярно оси y ;
- 4) Перпендикулярно оси z ;
- 5) Перпендикулярно плоскостям H и V .

Вопрос 4. Трехгранный комплексный чертеж образуется?

- 1) Поворотом плоскости H вверх, а плоскости W вправо;
- 2) Поворотом плоскости H вниз, а плоскости W влево;
- 3) Поворотом плоскости H вниз, а плоскости W вправо на 90° ;
- 4) Поворотом плоскости H вниз, а плоскости W вправо на 180° ;
- 5) Поворотом только плоскости W вправо на 90° .

Вопрос 5. Линия связи на трехкартинном комплексном чертеже, соединяющая горизонтальную и фронтальную проекции точек, проходит?

- 1) Параллельно оси x ;
- 2) Под углом 60° к оси z ;
- 3) Под углом 75° к оси x ;
- 4) Под углом 90° к оси x ;
- 5) Под углом 90° к оси y .

Задание 7.

Вопрос 1. Отрезок общего положения в пространстве расположен?

- 1) Перпендикулярно оси z ;
- 2) Под углом 30° к оси z , 60° к оси y ;
- 3) Параллельно оси x ;
- 4) Под углом 90° к плоскости W ;
- 5) Под углом 60° к плоскости H .

Вопрос 2. Фронтально-проецирующая прямая - это прямая, которая?

- 1) Параллельно оси x ;
- 2) Перпендикулярно плоскости V ;
- 3) Перпендикулярно плоскости H ;
- 4) Параллельно оси z ;
- 5) Параллельно плоскости V .

Вопрос 3. Горизонтальная прямая или сокращенно горизонталь расположена?

- 1) Параллельно плоскости H ;
- 2) Перпендикулярно плоскости H ;
- 3) Перпендикулярно оси x ;
- 4) Параллельно плоскости V ;
- 5) Перпендикулярно плоскости W .

Вопрос 4. Сколько Вы знаете вариантов задания проекций плоскостей на комплексном чертеже?

- 1) Два;
- 2) Три и четыре дополнительных;
- 3) Семь;
- 4) Пять;
- 5) Шесть основных и три дополнительных.

Вопрос 5. Может ли фронтально-проецирующая плоскость одновременно быть профильной плоскостью?

- 1) Нет, никогда;
- 2) Может, если она наклонена к плоскости W под углом 60° ;
- 3) Может, если она наклонена к плоскости H под углом 75° ;
- 4) Может, если она параллельна профильной плоскости проекций W ;
- 5) Является профильной плоскостью в любом случае.

Задание 8.

Вопрос 1. Для построения проекции точки в прямоугольной приведенной изометрии пользуются следующим правилом?

- 1) Откладывают по всем осям отрезки, равные натуральным величинам координат;
- 2) По осям x и z откладывают натуральные величины координат, но y - в 3 раза меньше;
- 3) По осям x и y откладывают натуральные величины координат, но z - в 2 раза меньше;
- 4) По осям x и z откладывают натуральные величины координат, но y - в 2 раза меньше;
- 5) По x , y и z откладывают величины, в 2 раза меньше, чем натуральная величина.

Вопрос 2. В прямоугольной приведенной изометрии проекции окружности в плоскостях, параллельных трем плоскостям координатного трехгранника будут?

- 1) Все три разные;
- 2) В плоскостях $хоу$ и $уоз$ одинаковые, а в плоскости $хоз$ – другая;
- 3) Все три одинаковые;
- 4) В плоскостях $хоу$ и $хоз$ одинаковые, а в плоскости $уоз$ – другая;
- 5) В плоскостях $хоу$ и $уоз$ одинаковые, а в плоскости $хоз$ - в 2 раза меньше.

Вопрос 3. Как располагаются координатные оси в прямоугольной изометрии относительно друг друга?

- 1) Произвольно все три оси;
- 2) x и y под углами 180° , а z под углами 90° к ним;
- 3) x и y под углами 90° , а z под углами 135° к ним;
- 4) Под углами 120° друг к другу;
- 5) x и y под углом 120° друг к другу, а z под углом 90° к оси x .

Вопрос 4. Как располагаются оси в прямоугольной диметрии по отношению к горизонтальной прямой?

- 1) z вертикально; x и y под углами 30° ;
- 2) z вертикально; x под углом $\approx 70^\circ$, ось y под углом $\approx 41^\circ$.
- 3) x вертикально; z под углом $\approx 70^\circ$, ось y под углом $\approx 41^\circ$.
- 4) z вертикально; x и y горизонтально, соответственно, влево и вправо;
- 5) x вертикально; z и y горизонтально, соответственно, влево и вправо.

Вопрос 5. Каковы приведенные коэффициенты искажения по осям в приведенной прямоугольной диметрии?

- 1) По осям x и y по 0,94 по оси z - 0,47;
- 2) По осям x и y по 0,47 по оси z - 0,94;
- 3) По осям x и z по 0,94 по оси y - 0,47;
- 4) По осям x и z по 1,0 по оси y - 0,5;
- 5) По осям x и y по 0,5 по оси z - 1,0.

Задание 9.

Вопрос 1. Для прямой призмы число боковых сторон будет равно?

- 1) Пяти;
- 2) Восьми;
- 3) Числу сторон многоугольника в основании плюс 2;
- 4) Числу сторон многоугольника в основании;
- 5) Площади многоугольника в основании.

Вопрос 2. Чему равно расстояние между центрами эллипсов (по высоте) для прямоугольной изометрии прямого кругового цилиндра?

- 1) Диаметру окружности основания цилиндра;
- 2) Высоте образующей цилиндра;
- 3) Радиусу окружности основания цилиндра;
- 4) Диаметру окружности, увеличенному в 1,22 раза;
- 5) Диаметру окружности, уменьшенному в 1,22 раза.

Вопрос 3. Боковые стороны пирамиды представляют собой?

- 1) Четырехугольники;
- 2) Пятиугольники;
- 3) Квадраты;
- 4) Параллелограммы;
- 5) Треугольники.

Вопрос 4. Для определения недостающей проекции точки, принадлежащей поверхности конуса, через известную проекцию точки можно провести?

- 1) Образующую или окружность, параллельную основанию;
- 2) Две образующих;
- 3) Две окружности, параллельные основанию;
- 4) Образующую или эллипс;
- 5) Окружность или параболу.

Вопрос 5. Высота конуса (расстояние от центра эллипса до вершины) в прямоугольной изометрии равна?

- 1) Диаметру окружности, увеличенному в 1,22 раза;
- 2) Диаметру окружности;
- 3) Высоте конуса (расстоянию от центра окружности до вершины) на комплексном чертеже;
- 4) Длине образующей;
- 5) Длине образующей, увеличенной в 1,22 раза.

Задание 10.

Вопрос 1. Какое максимальное количество видов может быть на чертеже детали?

- 1) Две;
- 2) Четыре;
- 3) Три;
- 4) Один;
- 5) Шесть.

Вопрос 2. Сколько видов должно содержать изображение какой-либо конкретной детали?

- 1) Один;
- 2) Три;
- 3) Минимальное, но достаточное для однозначного уяснения конфигурации;
- 4) Максимальное число видов;
- 5) Шесть.

Вопрос 3. Какой вид называется дополнительным?

- 1) Вид справа;
- 2) Вид снизу;
- 3) Вид сзади;
- 4) Полученный проецированием на плоскость, не параллельную ни одной из плоскостей проекций;
- 5) Полученный проецированием на плоскость W .

Вопрос 4. Что называется местным видом?

- 1) Изображение только ограниченного места детали;
- 2) Изображение детали на дополнительную плоскость;
- 3) Изображение детали на плоскость W ;
- 4) Вид справа детали;
- 5) Вид снизу.

Вопрос 5. Какой вид детали и на какую плоскость проекций называется ее главным видом?

- 1) Вид сверху, на плоскость H ;
- 2) Вид спереди, на плоскость V ;
- 3) Вид слева, на плоскость W ;
- 4) Вид сзади, на плоскость H ;
- 5) Дополнительный вид, на дополнительную плоскость.

Задание 11.

Вопрос 1. Даны два вида деталей: главный вид и вид слева. Определите вид сверху из предложенных вариантов.

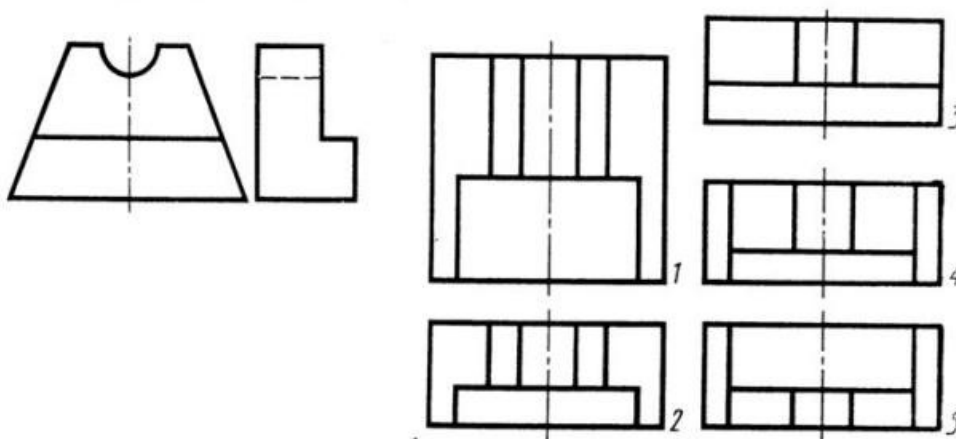


Рис. С3-6

- 1) Правильный вариант ответа №1;
- 2) Правильный вариант ответа №2;
- 3) Правильный вариант ответа №3;
- 4) Правильный вариант ответа №4;
- 5) Правильный вариант ответа №5.

Вопрос 2. Определить вид слева детали по заданным главному виду и виду сверху. (см. Рис. С3-7)

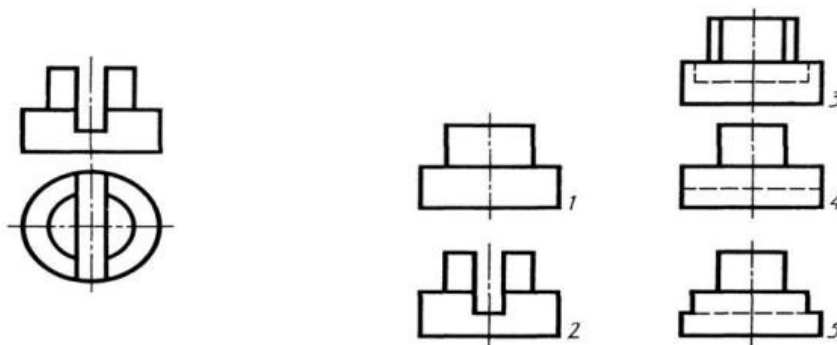


Рис. С3-7.

- 1) Правильный вариант ответа №1;
- 2) Правильный вариант ответа №2;
- 3) Правильный вариант ответа №3;
- 4) Правильный вариант ответа №4;
- 5) Правильный вариант ответа №5.

Вопрос 3. По главному виду и виду сверху определить, какой из пяти видов будет для этой детали видом слева (Рис. С3-8).

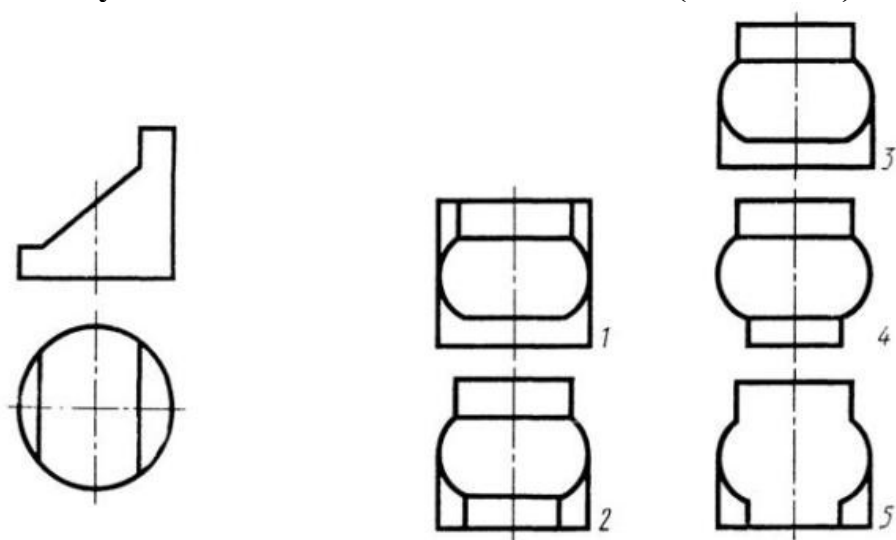


Рис. С3-8.

- 1) Правильный вариант ответа №1;
- 2) Правильный вариант ответа №2;
- 3) Правильный вариант ответа №3;
- 4) Правильный вариант ответа №4;
- 5) Правильный вариант ответа №5;

Вопрос 4. Когда на чертеже делают надписи названий основных видов?

- 1) Всегда делают;
- 2) Когда виды сверху, слева, справа, снизу, сзади смещены относительно главного изображения;
- 3) Никогда не делают;
- 4) Когда нужно показать дополнительный вид;
- 5) Только когда нужно показать вид сверху.

Вопрос 5. Возможно ли выполнение дополнительных видов повёрнутыми?

- 1) Нет, ни в коем случае;
- 2) Обязательно, всегда выполняются повёрнутыми;
- 3) Возможно, но дополнительный вид при этом никак не выделяется и не обозначается;
- 4) Возможно, но с сохранением положения, принятого для данного предмета на главном виде и с добавлением слова «Повёрнуто»;
- 5) Возможно, но дополнительный вид выполняется только в проекционной связи по отношению к главному.

Задание 12.

Вопрос 1. Разрез получается при мысленном рассечении предмета секущей плоскостью. При этом на разрезе показывается то, что:

- 1) Получится только в секущей плоскости;
- 2) Находится перед секущей плоскостью;
- 3) Находится за секущей плоскостью;
- 4) Находится под секущей плоскостью;
- 5) Находится в секущей плоскости, и что расположено за ней.

Вопрос 2. Для какой цели применяются разрезы?

- 1) Показать внутренние очертания и форму изображаемых предметов;
- 2) Показать внешнюю конфигурацию и форму изображаемых предметов;
- 3) Применяются при выполнении чертежей любых деталей;
- 4) Применяются только по желанию конструктора;
- 5) Чтобы выделить главный вид по отношению к остальным.

Вопрос 3. Какие разрезы называются горизонтальными?

- 1) Когда секущая плоскость перпендикулярна горизонтальной плоскости проекций;
- 2) Когда секущая плоскость параллельна горизонтальной плоскости проекций;
- 3) Когда секущая плоскость перпендикулярна оси X;
- 4) Когда секущая плоскость параллельна фронтальной плоскости проекций;
- 5) Когда секущая плоскость параллельна профильной плоскости проекций.

Вопрос 4. Вертикальными называются разрезы, получающиеся, когда секущая плоскость:

- 1) Перпендикулярна оси Z;
- 2) Перпендикулярна фронтальной плоскости проекций;
- 3) Перпендикулярна горизонтальной плоскости проекций;
- 4) Параллельна горизонтальной плоскости проекций;
- 5) Параллельна направлению стрелки дополнительного вида.

Вопрос 5. Какие вы знаете вертикальные разрезы?

- 1) Горизонтальный и фронтальный;
- 2) Горизонтальный и профильный;
- 3) Горизонтальный и наклонный;
- 4) Наклонный и фронтальный;
- 5) Фронтальный и профильный.

Задание 13.

Вопрос 1. Простой разрез получается при числе секущих плоскостей, равных:

- 1) Одной;
- 2) Двум;
- 3) Двум и более;
- 4) Трём;
- 5) Трём и более.

Вопрос 2. Сложный разрез получается при сечении предмета:

- 1) Тремя секущими плоскостями;
- 2) Двумя и более секущими плоскостями;
- 3) Плоскостью, параллельной горизонтальной плоскости проекций;
- 4) Одной секущей плоскостью;
- 5) Плоскостями, параллельными фронтальной плоскости проекций.

Вопрос 3. Сложные разрезы делятся на ступенчатые и ломаные. При этом ступенчатые - это разрезы, секущие плоскости которых располагаются:

- 1) Параллельно друг другу;
- 2) Перпендикулярно друг другу;
- 3) Под углом 75 градусов друг к другу;
- 4) Под углом 30 градусов друг к другу;
- 5) Под любым, отличным от 90 градусов углом друг к другу.

Вопрос 4. Всегда ли нужно обозначать простые разрезы линией сечения?

- 1) Да, обязательно;
- 2) Никогда не нужно обозначать;
- 3) Не нужно, когда секущая плоскость совпадает с плоскостью симметрии детали;
- 4) Не нужно, когда секущая плоскость параллельна горизонтальной плоскости проекций;
- 5) Не нужно, когда секущая плоскость параллельна оси Z.

Вопрос 5. В каком случае можно соединять половину вида с половиной соответствующего разреза?

- 1) Всегда можно;
- 2) Никогда нельзя;
- 3) Если деталь несимметрична;
- 4) Если вид и разрез являются симметричными фигурами;
- 5) Если вид и разрез являются несимметричными фигурами.

Задание 14.

Вопрос 1. Если вид и разрез являются симметричными фигурами, то какая линия служит осью симметрии, разделяющей их половины?

- 1) Сплошная тонкая;
- 2) Сплошная основная;
- 3) Штриховая;
- 4) Разомкнутая;
- 5) Штрих-пунктирная тонкая.

Вопрос 2. Как изображаются на разрезе элементы тонких стенок типа рёбер жесткости, зубчатых колёс?

- 1) Никак на разрезе не выделяются;
- 2) Выделяются и штрихуются полностью;
- 3) Показываются рассечёнными, но не штрихуются;
- 4) Показываются рассечёнными, но штрихуются в другом направлении по отношению к основной штриховке разреза;
- 5) Показываются рассечёнными и штрихуются под углом 60 градусов к горизонту.

Вопрос 3. Какого типа линией с перпендикулярной ей стрелкой обозначаются разрезы (тип линий сечения).

- 1) Сплошной тонкой линией;
- 2) Сплошной основной линией;
- 3) Волнистой линией;
- 4) Штрих-пунктирной тонкой линией;
- 5) Разомкнутой линией.

Вопрос 4. Как проводят секущие плоскости при образовании разрезов на аксонометрических изображениях, например, при выполнении выреза четверти детали.

- 1) Произвольно, как пожелает конструктор;
- 2) только параллельно координатным плоскостям;
- 3) Только перпендикулярно оси Z;
- 4) Только параллельно плоскости XOY;
- 5) Только параллельно плоскости XOZ;

Вопрос 5. Как направлены линии штриховки разрезов на аксонометрических проекциях?

- 1) Параллельно соответствующим осям X, Y и Z;
- 2) Перпендикулярно осям X, Y и Z;
- 3) Параллельно осям X и Y;
- 4) Параллельно одной из диагоналей квадратов, лежащих в соответствующих координатных плоскостях, стороны которых параллельны аксонометрическим осям.
- 5) Параллельно одной из диагоналей квадратов, лежащих в соответствующих координатных плоскостях, стороны которых расположены произвольно по отношению к аксонометрическим осям.

Задание 15.

Вопрос 1. На каком из пяти чертежей выполнен правильно разрез детали, показанной на изображении (см. Рис. С3-9).

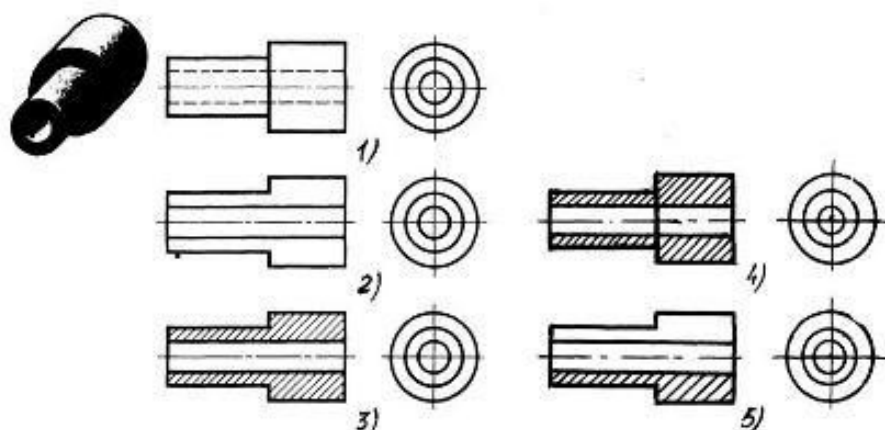
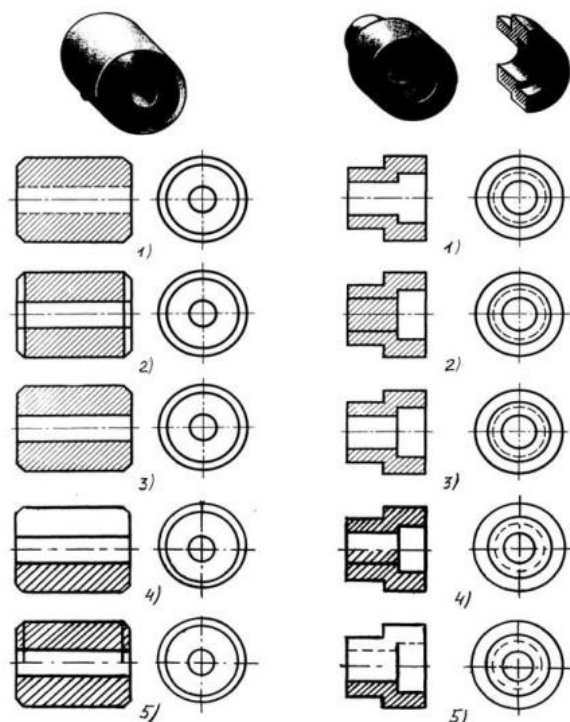


Рис. С3-9.

- 1) Правильный вариант ответа №1;
- 2) Правильный вариант ответа №2;
- 3) Правильный вариант ответа №3;
- 4) Правильный вариант ответа №4;
- 5) Правильный вариант ответа №5;

Вопрос 2. На каком из пяти чертежей втулки показан правильно её разрез (см. Рис. С3-10)?



С3-10

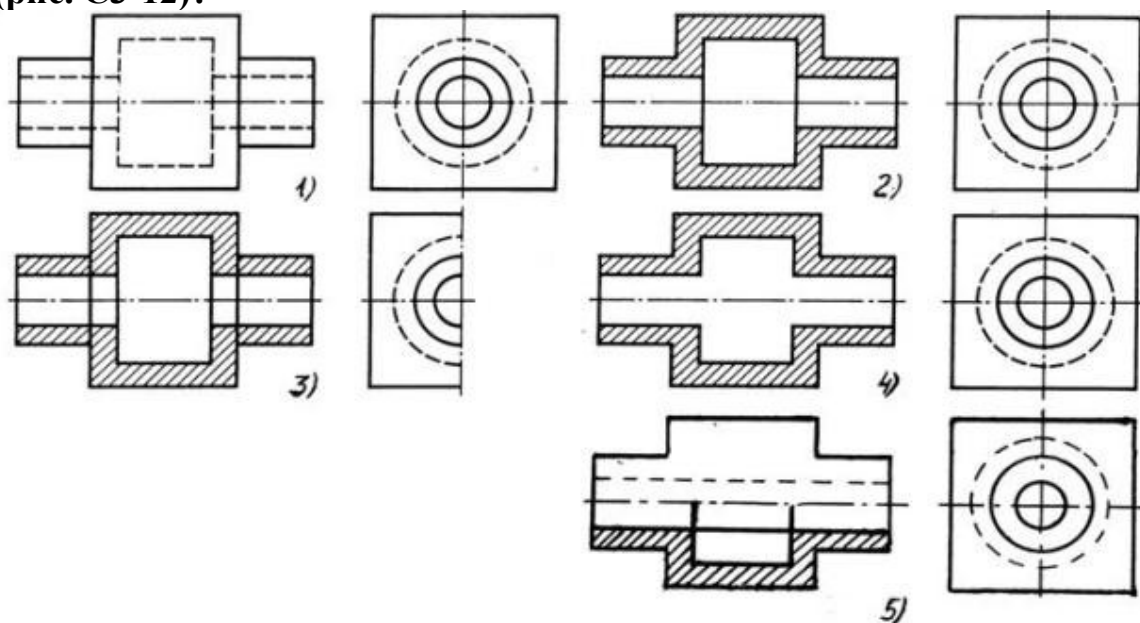
С3-11

- 1) На первом чертеже;
- 2) На втором чертеже;
- 3) На третьем чертеже;
- 4) На четвертом чертеже;
- 5) На пятом чертеже

Вопрос 3. На каком из пяти чертежей выполнен правильно разрез детали, показанной на изображении (рис.С3-11).?

- 1) На первом чертеже;
- 2) На втором чертеже;
- 3) На третьем чертеже;
- 4) На четвертом чертеже;
- 5) На пятом чертеже;

Вопрос 4. На каком изображении детали правильно выполнен её разрез (рис. С3-12)?



C3-12

- 1) На первом изображении;
- 2) На втором изображении;
- 3) На третьем изображении;
- 4) На четвертом изображении;
- 5) На пятом изображении.

Вопрос 5. Под каким углом осуществляется штриховка металлов (графическое изображение металлов) в разрезах?

- 1) Под углом 30 градусов к линии контура изображения, или к его оси или к линии рамки чертежа;
- 2) Под углом 60 градусов к линии контура изображения, или к его оси или к линии рамки чертежа;
- 3) Под любыми произвольными углами;
- 4) Под углом 45 градусов к линии контура изображения, или к его оси или к линии рамки чертежа;
- 5) Под углом 75 градусов к линии основной надписи чертежа;

Задание 16.

Вопрос 1. Местный разрез служит для уяснения устройства предмета в отдельном узко ограниченном месте. Граница местного разреза выделяется на виде:

- 1) Сплошной волнистой линией;
- 2) Сплошной тонкой линией;
- 3) Штрих-пунктирной линией;
- 4) Сплошной основной линией;
- 5) Штриховой линией.

Вопрос 2. При изображении предмета, в имеющих постоянные или закономерно изменяющиеся сечения, допускается изображать их с разрывами. В качестве линии обрыва используется:

- 1) Сплошная тонкая линия;
- 2) Сплошная основная линия;
- 3) Штрих-пунктирная линия;
- 4) Штриховая линия;
- 5) Сплошная волнистая или линия с изломами.

Вопрос 3. В каком случае правильно выполнено совмещение вида с разрезом (см. Рис. С3-13)?

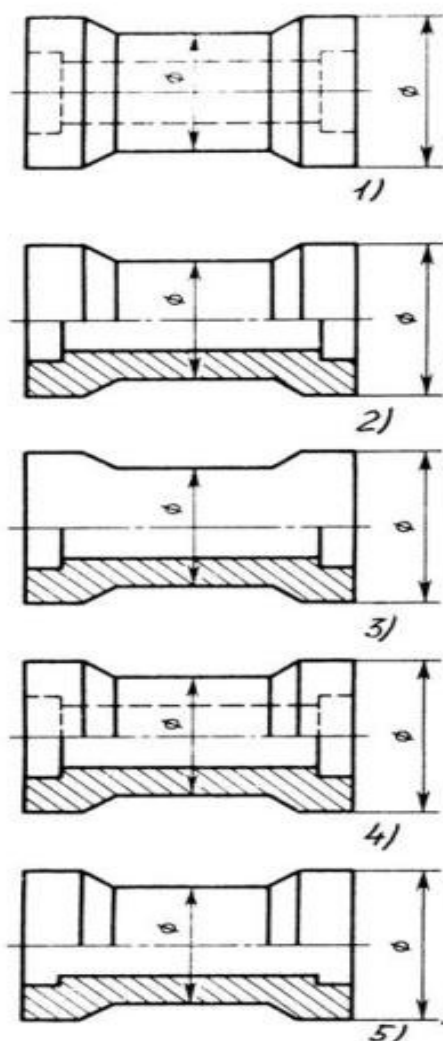


Рис. С3.-13

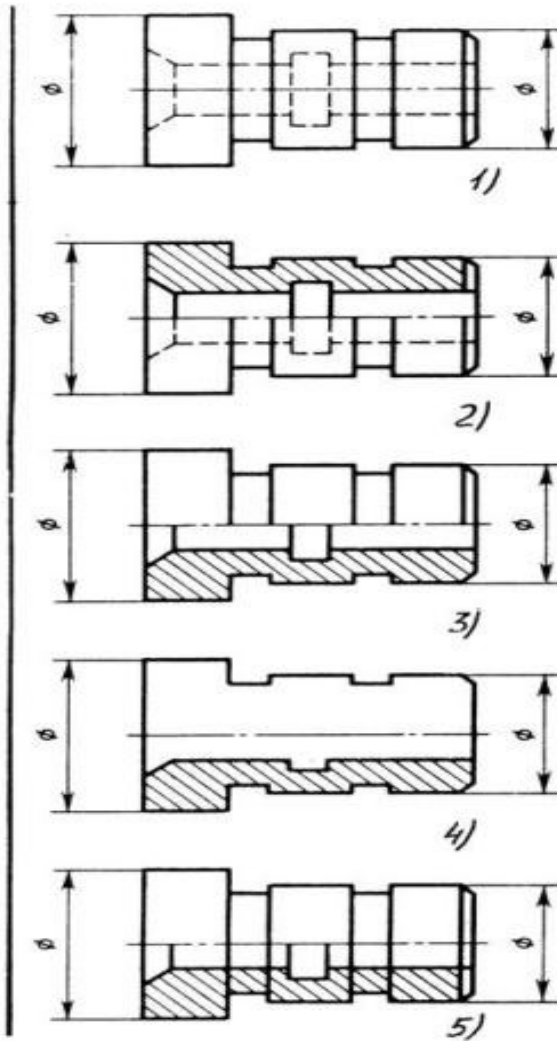


Рис. С3.-14

- 1) Правильный вариант ответа №1;
- 2) Правильный вариант ответа №2;
- 3) Правильный вариант ответа №3;
- 4) Правильный вариант ответа №4;
- 5) Правильный вариант ответа №5;

Вопрос 4. Определите, на каком чертеже правильно выполнено соединение половины вида и половины разреза для цилиндрической детали (рис. С3-14).

- 1) На первом чертеже;
- 2) На втором чертеже;
- 3) На третьем чертеже;
- 4) На четвертом чертеже;
- 5) На пятом чертеже;

Вопрос 5. Всегда ли обозначается положение секущих плоскостей при сложных разрезах?

- 1) Нет, не всегда;
- 2) Да, конечно, всегда;
- 3) Лишь когда не ясно, как проходят секущие плоскости разреза;
- 4) В редких случаях;
- 5) Не обозначаются никогда.

Задание 17.

Вопрос 1. В сечении показывается то, что:

- 1) Находится перед секущей плоскостью;
- 2) Находится за секущей плоскостью;
- 3) Попадает непосредственно в секущую плоскость;
- 4) Находится непосредственно в секущей плоскости и за ней;
- 5) Находится непосредственно перед секущей плоскостью и попадает в нее.

Вопрос 2. Контур вынесенного сечения выполняется:

- 1) Сплошной тонкой линией;
- 2) Сплошной основной линией;
- 3) Волнистой линией;
- 4) Штриховой линией;
- 5) Линией с изломами.

Вопрос 3. На рисунке С3-15 показана деталь и дано её сечение. Из нескольких вариантов сечения выберите правильный.

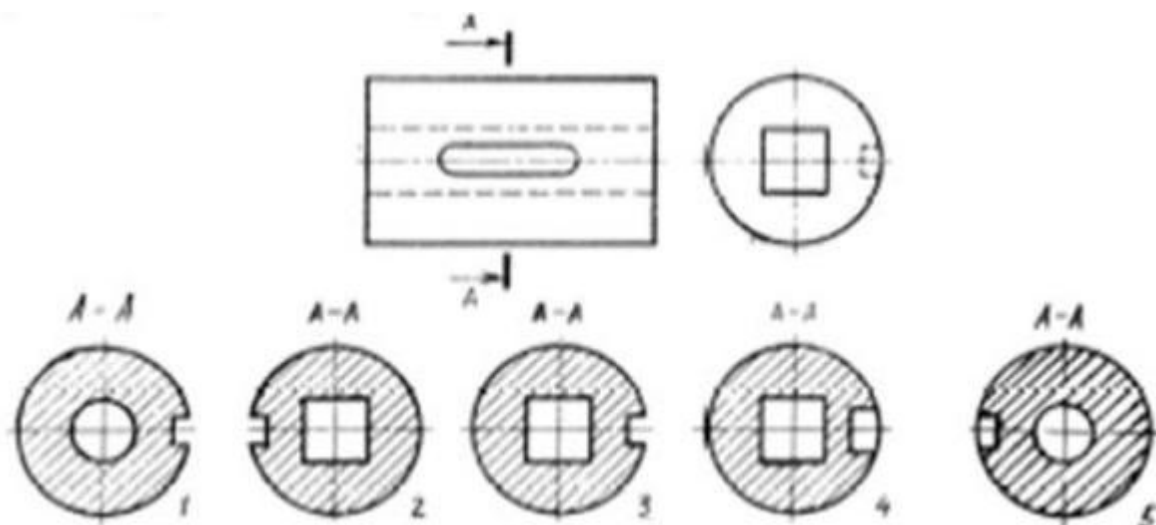


Рис. С3-15.

- 1) Правильный вариант ответа №1;
- 2) Правильный вариант ответа №2;
- 3) Правильный вариант ответа №3;
- 4) Правильный вариант ответа №4;
- 5) Правильный вариант ответа №5.

Вопрос 4. На рисунке С3-16 даны четыре сечения детали. Установите, какие из этих сечений выполнены правильно.

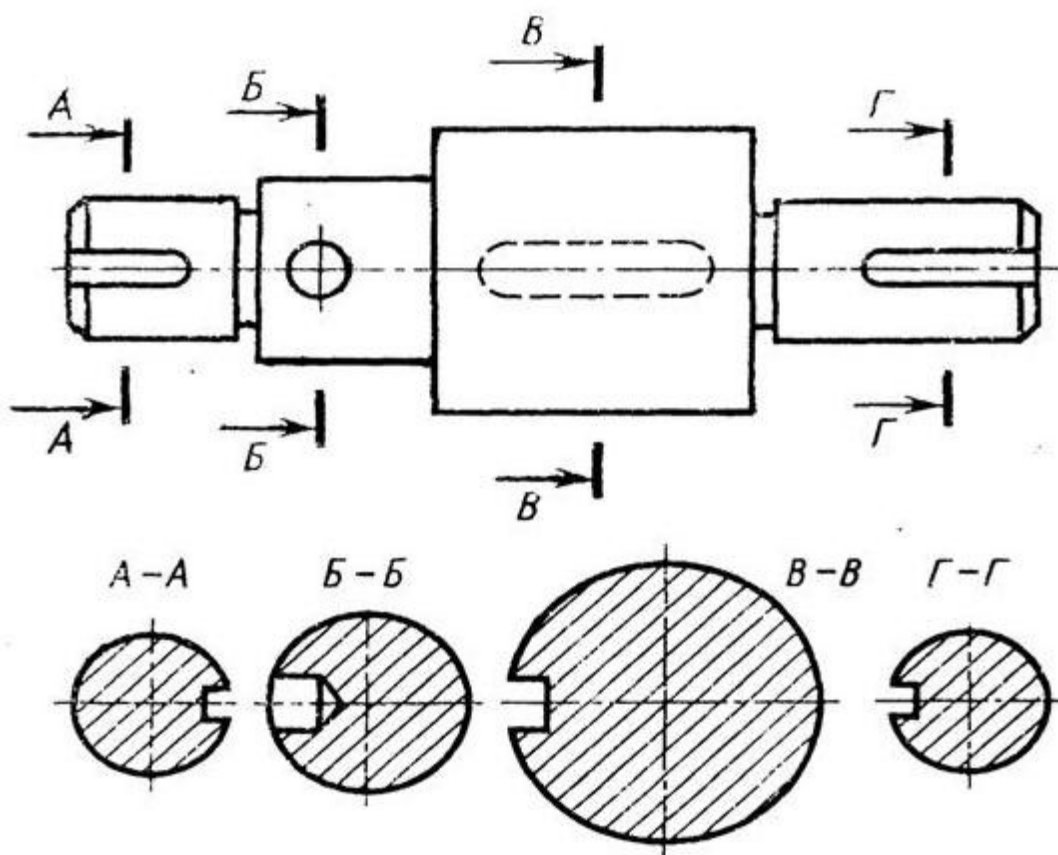


Рис. С3-16.

- 1) А-А и Б-Б;
- 2) А-А, Б-Б и Г-Г;
- 3) Б-Б, В-В;
- 4) А-А, Б-Б, В-В и Г-Г;
- 5) А-А и В-В.

Вопрос 5. Как обозначают несколько одинаковых сечений, относящихся к одному предмету?

- 1) Линии сечения обозначают одной и той же буквой и вычерчивают одно сечение;
- 2) Никак не обозначают;
- 3) Обозначают разными буквами линии сечений;
- 4) Обозначают линии сечений одной и той же буквой, но вычерчивают сечения несколько раз;
- 5) Линии сечений обозначают один раз и вычерчивают сечение несколько раз.

Задание 18.

Вопрос 1. Дана деталь и указано ее сечение А-А (рис.С3-17-а). Выбрать правильный вариант сечения.

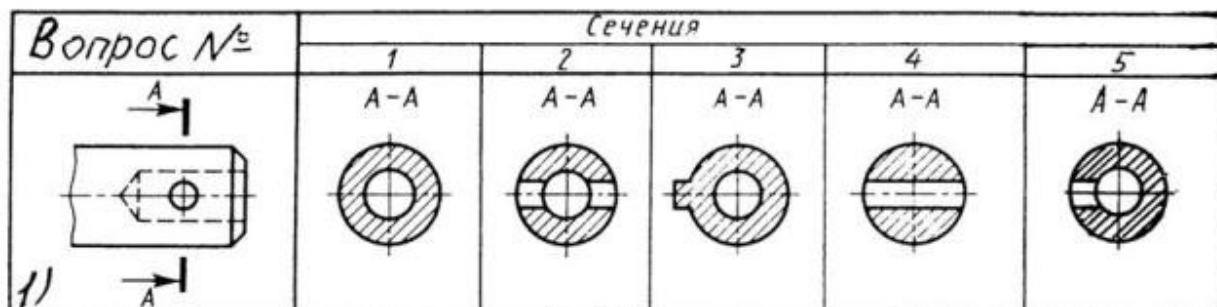


Рис.С3-17-а

- 1) Правильный вариант ответа №1;
- 2) Правильный вариант ответа №2;
- 3) Правильный вариант ответа №3;
- 4) Правильный вариант ответа №4;
- 5) Правильный вариант ответа №5;

Вопрос 2. Дана деталь и указано ее сечение А-А (рис.С3-17-б). Выбрать правильный вариант сечения.

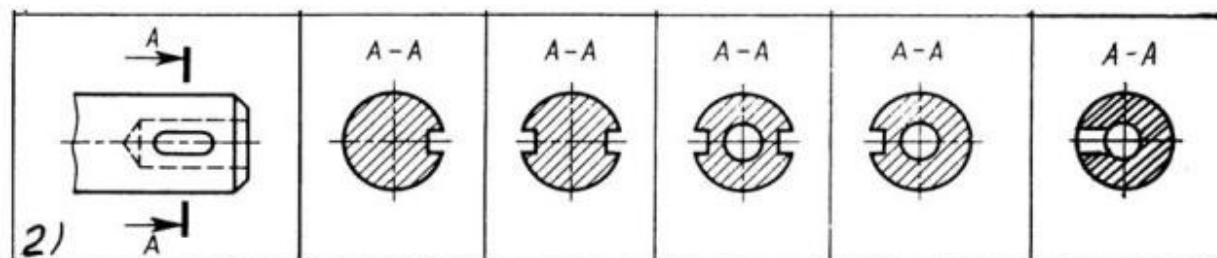


рис.С3-17-б

- 1) Правильный вариант ответа №1;
- 2) Правильный вариант ответа №2;
- 3) Правильный вариант ответа №3;
- 4) Правильный вариант ответа №4;
- 5) Правильный вариант ответа №5;

Вопрос 3. Дана деталь и указано ее сечение А-А (рис.С3-17-в). Выбрать правильный вариант сечения.

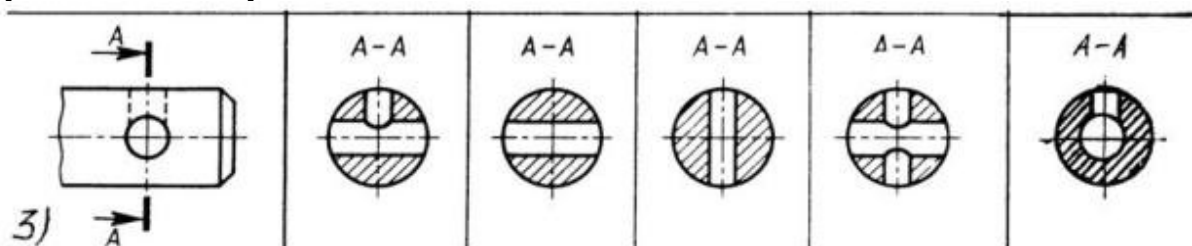


Рис.С3-17-в

- 1) Правильный вариант ответа №1;
- 2) Правильный вариант ответа №2;
- 3) Правильный вариант ответа №3;
- 4) Правильный вариант ответа №4;
- 5) Правильный вариант ответа №5;

Вопрос 4. Дана деталь и указано ее сечение А-А (рис.С3-17-г). Выбрать правильный вариант сечения.

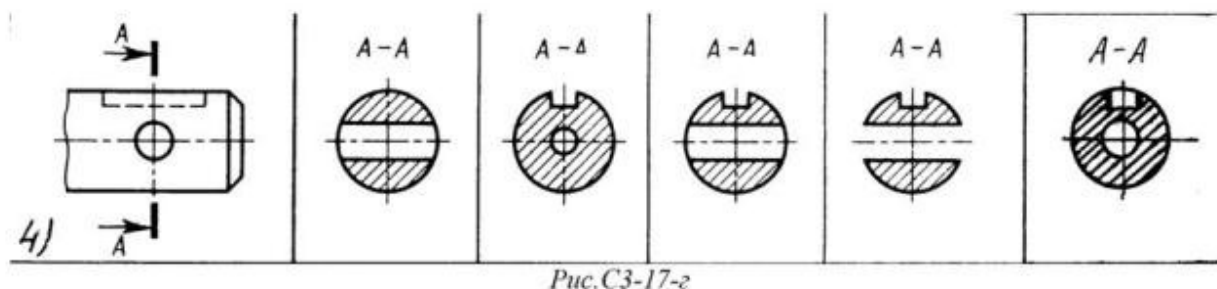
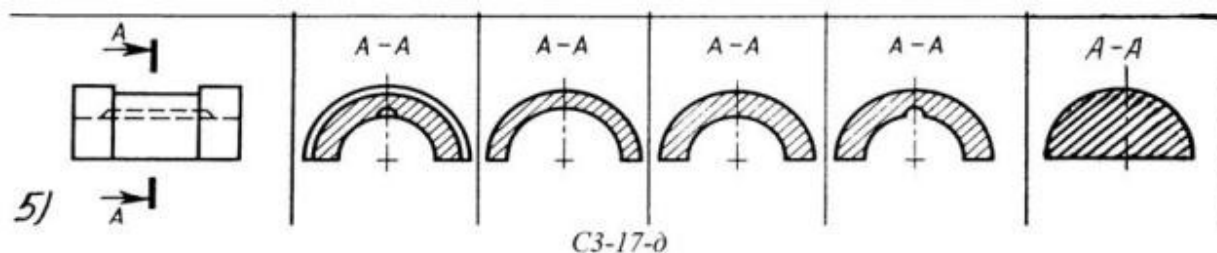


Рис.С3-17-г

- 1) Правильный вариант ответа №1;
- 2) Правильный вариант ответа №2;
- 3) Правильный вариант ответа №3;
- 4) Правильный вариант ответа №4;
- 5) Правильный вариант ответа №5;

Вопрос 5. Дана деталь и указано ее сечение А-А (рис.С3-17-д).Выбрать правильный вариант сечения.



С3-17-д

- 1) Правильный вариант ответа №1;
- 2) Правильный вариант ответа №2;
- 3) Правильный вариант ответа №3;
- 4) Правильный вариант ответа №4;
- 5) Правильный вариант ответа №5;

Задание 19.

Вопрос 1. Определите правильное сечение А-А для детали рис. С3-18.

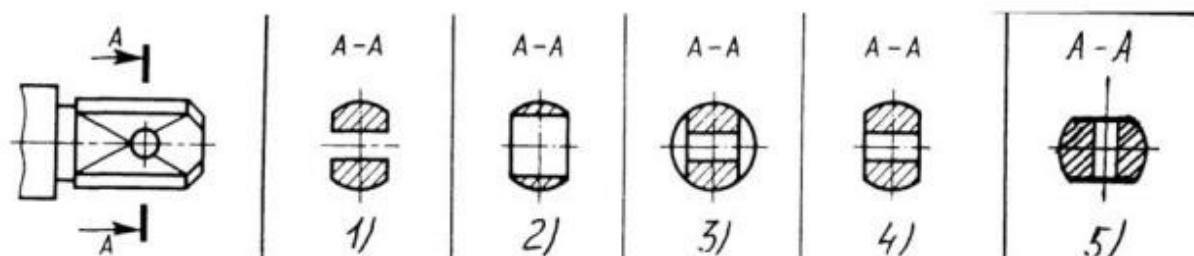
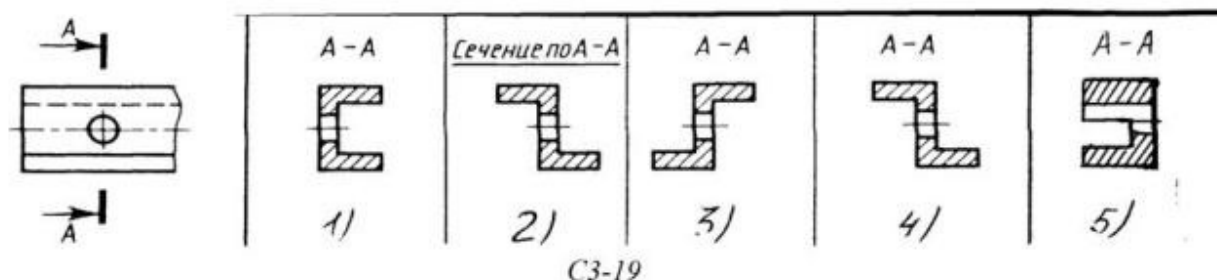


Рис. С3-18.

- 1) Правильный вариант ответа №1;
- 2) Правильный вариант ответа №2;
- 3) Правильный вариант ответа №3;
- 4) Правильный вариант ответа №4;
- 5) Правильный вариант ответа №5;

Вопрос 2. Определите правильный вариант сечения для Z-образного профиля с отверстием (рис. С3-19).



- 1) Правильный вариант ответа №1;
- 2) Правильный вариант ответа №2;
- 3) Правильный вариант ответа №3;
- 4) Правильный вариант ответа №4;
- 5) Правильный вариант ответа №5;

Вопрос 3. Как изображается резьба на цилиндрическом стержне и на его виде слева?

- 1) Наружный диаметр резьбы - сплошная основная, внутренний диаметр - сплошная тонкая, на виде слева - сплошная тонкая линия на $3/4$ длины окружности для внутреннего диаметра;
- 2) Наружный диаметр резьбы - сплошная основная, внутренний диаметр - сплошная тонкая, на виде слева - тонкая линия на 360 градусов;
- 3) Наружный и внутренний диаметры резьбы - сплошная основная, на виде слева - сплошная тонкая линия на $3/4$ длины окружности для внутреннего диаметра;
- 4) Наружный и внутренний диаметры - сплошная тонкая линия;
- 5) Все линии выполняются сплошной основной.

Вопрос 4. При резьбовом соединении двух деталей:

- 1) Полностью показывается деталь, в которую ввинчивается другая;
- 2) Ввинчиваемая деталь;
- 3) Нет никакого выделения;
- 4) Место соединения штрихуется полностью и для одной и для другой деталей;
- 5) Место соединения резьб не штрихуется совсем.

Вопрос 5. Какой линией показывается граница нарезанного участка резьбы?

- 1) Волнистой линией;
- 2) Сплошной тонкой линией;
- 3) Сплошной основной линией;
- 4) Штриховой линией;
- 5) Штрих-пунктирной линией.

Задание 20.

Вопрос 1. Расшифруйте условное обозначение резьбы M20*0.75LH.

- 1) Резьба метрическая, номинальный диаметр 20мм, шаг 0,75мм, левая;
- 2) Резьба упорная, номинальный диаметр 20мм, шаг 0,75, правая.
- 3) Резьба метрическая, номинальный диаметр 0,75мм, шаг 20мм, правая;
- 4) Резьба трубная, номинальный диаметр 0,75мм, шаг 20мм, левая;
- 5) Резьба метрическая, номинальный диаметр 0,75мм, шаг 20мм, левая.

Вопрос 2. Шаг резьбы - это расстояние:

- 1) Между соседними выступом и впадиной витка, измеренные вдоль оси детали;
- 2) Между двумя смежными витками;
- 3) На которое перемещается ввинчиваемая деталь за один полный оборот в неподвижную деталь;
- 4) От начала нарезания резьбы до её границы нарезания;
- 5) От выступа резьбы до её впадины, измеренное перпендикулярно оси детали.

Вопрос 3. Как понимать обозначение S40*4(p2)LH?

- 1) Резьба метрическая, диаметр 40мм, шаг 4мм, левая;
- 2) Резьба упорная, диаметр 40мм, шаг 4мм, левая;
- 3) Резьба трапецеидальная, диаметр 40мм, шаг 2мм, двухзаходная, левая;
- 4) Резьба упорная, диаметр 40мм, двухзаходная, шаг 2мм, правая;
- 5) Резьба упорная, диаметр 40мм, двухзаходная, шаг 2мм, левая.

Вопрос 4. От какого диаметра следует проводить выносные линии для обозначения резьбы, выполненной в отверстии?

- 1) От диаметра впадин резьбы, выполняемого сплошной основной линией;
- 2) От диаметра фаски на резьбе;
- 3) От внутреннего диаметра резьбы, выполняется сплошной тонкой линией;
- 4) От наружного диаметра резьбы, выполненного сплошной тонкой линией;
- 5) От наружного диаметра резьбы, выполненного сплошной основной линией.

Вопрос 5. Как выполняется фаска на видах, перпендикулярных оси стержня или отверстия?

- 1) Выполняется сплошной основной линией;
- 2) Не показывается совсем;
- 3) Выполняется сплошной основной линией на 3/4 окружности;
- 4) Выполняется сплошной тонкой линией;
- 5) Выполняется сплошной тонкой линией; на 3/4 окружности.

Задание 21.

Вопрос 1. Чем отличается обозначение метрической резьбы с крупным шагом от её обозначения с мелким шагом?

- 1) Не отличается ничем;
- 2) К обозначению резьбы добавляется величина крупного шага;
- 3) К обозначению резьбы добавляется величина мелкого шага;
- 4) К обозначению резьбы добавляется приписка LH;
- 5) Перед условным обозначением резьбы ставится величина мелкого шага.

Вопрос 2. Как наносится обозначение трубных и конических резьб?

- 1) Также как и метрическая резьба;
- 2) Также как и упорная резьба;
- 3) При помощи линии выноски со стрелкой и полкой;
- 4) Показывается внутренний диаметр резьбы;
- 5) Показывается только наружный диаметр резьбы с условным обозначением.

Вопрос 3. В каких случаях на чертежах показывают профиль резьбы?

- 1) Профиль резьбы показывают всегда;
- 2) Никогда не показывают;
- 3) Когда конструктор считает это необходимым;
- 4) Когда необходимо показать резьбу с нестандартным профилем со всеми необходимыми размерами;
- 5) Когда выполняется упорная или трапецеидальная резьба.

Вопрос 4. Как показываются крепления детали типа болтов, шпилек, гаек, шайб и винтов при попадании в продольный разрез на главном виде?

- 1) Условно показываются не рассеченными и не штрихуются;
- 2) Разрезаются и штрихуются с разным направлением штриховки;
- 3) Гайки и шайбы показываются рассеченными, а болты, винты и шпильки - не рассеченными;
- 4) Болты и гайки показываются рассеченными и штрихуются;
- 5) Рассеченными показываются только гайки, шайбы и винты.

Вопрос 5. В каком случае правильно сформулировано применение болтовых и шпилечных соединений?

- 1) Болтовое соединение применяется, когда имеется двусторонний доступ к соединяемым деталям, шпилечное - односторонний;
- 2) Болтовое соединение применяется, когда имеется односторонний доступ к соединяемым деталям, шпилечное - двусторонний;
- 3) Применение этих соединений ничем не отличается и взаимозаменяемо;
- 4) Удобнее применять всегда болтовые соединения;
- 5) Удобнее всегда применять шпилечные соединения.

Задание 22.

Вопрос 1. В каком случае правильно перечислены разъёмные и неразъёмные соединения?

- 1) Разъёмные: болтовое, шпилечное, винтовое, паяное, шпоночное. Неразъёмные: клеевое, сварное, шовное, заклёпочное.
- 2) Разъёмные: болтовое, шпилечное, винтовое, шпоночное, шлицевое. Неразъёмные: клеевое, сварное, паяное, шовное, заклёпочное.
- 3) Разъёмные: болтовое, шпилечное, винтовое, шпоночное, шовное, сварное. Неразъёмные: клеевое, паяное, шлицевое, заклёпочное.
- 4) Разъёмные: болтовое, шпилечное, винтовое, шпоночное, шовное. Неразъёмные: клеевое, паяное, шлицевое, заклёпочное.
- 5) Разъёмные: болтовое, шпилечное. Неразъёмные: винтовое, шпоночное, шлицевое.

Вопрос 2. Сварное соединение условно обозначается:

- 1) Утолщенной стрелкой;
- 2) Стрелкой с буквой «С» на 20мм от стрелки;
- 3) Стрелкой с буквой «Св.» на 25мм от стрелки;
- 4) Половиной стрелки с обозначением и расшифровкой типа сварки;
- 5) Половиной стрелки с обозначением буквой «С».

Вопрос 3. Чем отличается шлицевое соединение от шпоночного?

- 1) Только размерами деталей;
- 2) У шлицевого чередуются выступы и впадины по окружности, а у шпоночного вставляется еще одна деталь - шпонка;
- 3) Шлицы выполняются монолитно на детали, а шпонка выполняется монолитно с валом;
- 4) Ничем не отличаются;
- 5) Диаметром вала, передающего крутящий момент.

Вопрос 4. Паяное соединение условно обозначается на чертеже:

- 1) Утолщённой стрелкой;
- 2) Стрелкой с надписью «Пайка»;
- 3) Утолщённой линией, стрелкой и знаком полуокружности;
- 4) Утолщённой линией и полустрелкой;
- 5) Стрелкой и обозначением «П».

Вопрос 5. Как обозначается на чертеже клеевое соединение:

- 1) Стрелкой и надписью «Клей»;
- 2) Утолщённой линией, стрелкой и надписью «Клеевое соединение»;
- 3) Утолщённой линией, полустрелкой и знаком «К»;
- 4) Утолщённой линией, стрелкой и знаком «К»;
- 5) Сплошной основной линией, стрелкой и знаком «К».

Задание 23.

Вопрос 1. Чем отличается эскиз от рабочего чертежа детали?

- 1) Эскиз выполняется в меньшем масштабе;
- 2) Эскиз выполняется в большем масштабе, чем рабочий чертёж;
- 3) Эскиз выполняется с помощью чертёжных инструментов, а рабочий чертёж - от руки;
- 4) Эскиз ничем не отличается от рабочего чертежа;
- 5) Эскиз выполняется от руки; а рабочий чертёж - с помощью чертёжных инструментов.

Вопрос 2. В каком масштабе выполняется эскиз детали?

- 1) В глазомерном масштабе;
- 2) Обычно в масштабе 1:1;
- 3) Обычно в масштабе увеличения;
- 4) Всегда в масштабе уменьшения;
- 5) Всегда в масштабе увеличения;

Вопрос 3. Сколько видов должен содержать рабочий чертёж детали?

- 1) Всегда три вида;
- 2) Шесть видов;
- 3) Минимальное, но достаточное для представления форм детали;
- 4) Максимально возможное число видов;
- 5) Только один вид.

Вопрос 4. Нужны ли все размеры на рабочих чертежах детали?

- 1) Ставятся только габаритные размеры;
- 2) Ставятся размеры, необходимые для изготовления и контроля изготовления детали;
- 3) Ставятся только линейные размеры;
- 4) Ставятся линейные размеры и габаритные;
- 5) Ставятся размеры диаметров.

Вопрос 5. Для чего служит спецификация к сборочным чертежам?

- 1) Спецификация определяет состав сборочной единицы;
- 2) В спецификации указываются габаритные размеры деталей;
- 3) В спецификации указываются габариты сборочной единицы;
- 4) Спецификация содержит информацию о взаимодействии деталей;
- 5) В спецификации указывается вес деталей.

Задание 24.

Вопрос 1. В каком масштабе предпочтительнее делать сборочный чертёж?

- 1) 2:1;
- 2) 1:1;
- 3) 1:2;
- 4) 5:1;
- 5) 4:1.

Вопрос 2. Применяются ли упрощения на сборочных чертежах?

- 1) Нет;
- 2) Только для крепёжных деталей;
- 3) Применяются для всех деталей;
- 4) Применяются только для болтов и гаек;
- 5) Применяются только для нестандартных деталей.

Вопрос 3. Для каких деталей наносят номера позиций на сборочных чертежах?

- 1) Для всех деталей, входящих в сборочную единицу;
- 2) Только для нестандартных деталей;
- 3) Только для стандартных деталей;
- 4) Для крепёжных деталей;
- 5) Только для основных деталей.

Вопрос 4. Какие размеры наносят на сборочных чертежах?

- 1) Все размеры;
- 2) Основные размеры корпусной детали;
- 3) Габаритные, подсоединительные, установочные, крепёжные, определяющие работу устройства.
- 4) Только размеры крепёжных деталей;
- 5) Только габаритные размеры.

Вопрос 5. Как штрихуются в разрезе соприкасающиеся детали?

- 1) Одинаково;
- 2) С разной толщиной линий штриховки;
- 3) Одна деталь не штрихуется, а другая штрихуется;
- 4) С разным наклоном штриховых линий;
- 5) С разным расстоянием между штриховыми линиями, со смещением штриховых линий, с разным наклоном штриховых линий.

Задание 25.

Вопрос 1. Откуда замеряются размеры при детализации сборочного чертежа?

- 1) Замеряются со сборочного чертежа;
- 2) Определяются по спецификации;
- 3) Замеряются со сборочного чертежа и увеличиваются в три раза;
- 4) Замеряются со сборочного чертежа и уменьшаются в три раза;
- 5) Определяются произвольно, в глазомерном масштабе.

Вопрос 2. Должно ли соответствовать количество изображений детали на сборочном чертеже количеству изображений детали на рабочем чертеже?

- 1) Да, обязательно;
- 2) Нет, никогда;
- 3) Может соответствовать, может нет;
- 4) Количество изображений на рабочем чертеже должно быть в два раза меньше;
- 5) Количество изображений на рабочем чертеже должно быть на одно меньше.

Вопрос 3. На каких форматах выполняется спецификация?

- 1) На дополнительных;
- 2) На А2;
- 3) На А3;
- 4) На А5;
- 5) На А4.

Вопрос 4. Какие изображения сечений деталей зачерняют?

- 1) Детали толщиной до 1мм;
- 2) Детали толщиной или диаметром 2мм и менее;
- 3) Детали типа тонких спиц;
- 4) Маленькие шарики диаметром от 1 до 5 мм;
- 5) Детали толщиной от 1 до 4 мм.

Вопрос 5. Нужно ли соблюдать масштаб при вычерчивании элементов электрических схем?

- 1) Нет;
- 2) Нужно, но только в масштабе 2:1;
- 3) Нужно;
- 4) Нужно, но только в масштабе 1:1;
- 5) Нужно, но только в масштабе 1:2.

2.2 ПАКЕТ ЭКЗАМЕНАТОРА

Тесты по инженерной графике

Приложения 1. Тестовые задания для промежуточной аттестации

Контрольные задания составлены в виде теста. По каждому заданию предлагается выбрать верный ответ в задании 50 вопросов.

46-50 правильных ответов – оценка «5»

45- 31 правильных ответ -- оценка «4»

26- 30 правильных ответов – оценка «3»

Менее 25 правильных ответов – оценка «2»

Вариант №1

1. Какой способ проецирования используется при построении чертежа?

- 1) центральное;
- 2) параллельное;
- 3) прямоугольное.

2. Всегда ли достаточно одной проекции предмета?

- 1) всегда
- 2) иногда
- 3) не всегда

3. Где правильно обозначены плоскости проекций?

- 1) V W
H
- 2) H W
V

4. Какие основные три вида вы знаете?

- 1) Главный вид, фронтальный, прямоугольный;
- 2) Главный вид, вид сверху, слева;
- 3) Главный вид, слева, вид справа,

5 Изображение отдельного ограниченного места поверхности предмета называется.....

- 1) Главным видом
- 2) Местным видом
- 3) Видом

6. Как штрихуют неметаллические детали на разрезах:

- 1) широкими параллельными линиями
- 2) узкими параллельными линиями
- 3) ромбической сеткой
- 4) сплошным закрашиванием

7. Какими не бывают разрезы:

- 1) горизонтальные 2) вертикальные
- 3) наклонные 4) параллельные

8. Каков угол наклона штриховки в изометрии на сечениях, расположенных на плоскостях ZOХ, ZOУ

- 1) 30 2) 45 3) 60 4) 90

9. Толщина сплошной основной линии лежит в следующих пределах?

- 1) 0,5 2,0 мм.;
- 2) 1,0 1,5 мм.;
- 3) 0,5 1,0 мм.;
- 4) 0,5 1,5 мм.

10. На основе какого формата получают другие основные форматы

- 1) А5 2) А4 3) А3 4) А0

11. Сколько типов линий применяют при выполнении чертежей

- 1) 6 типов линий 2) 7 типов линий
- 3) 8 типов линий 4) 9 типов линий

12. В каком году принята ГОСТом конструкция последнего чертежного шрифта

- 1) 1959 г. 2) 1968
- 3) 1981 г. 4) 1988 г.

13. Сколько основных видов существует для выполнения чертежа

- 1) 6 видов 2) 5 видов
- 3) 4 вида 4) 3 вида

14. Сколько видов аксонометрических проекций применяются в графике

- 1) 2 вида
- 2) 3 вида
- 3) 4 вида
- 4) 5 видов

15. В каких случаях образуется цилиндрическая зубчатая передача

- 1) когда оси валов пересекаются
- 2) когда оси валов скрещиваются
- 3) когда оси валов параллельны друг другу
- 4) когда присутствует специальная надпись

16. Всегда ли совпадают положение детали на главном виде на рабочем чертеже с

положением детали на сборочном чертеже

- 1) всегда совпадают
- 2) никогда не совпадают
- 3) совпадают не всегда
- 4) иногда совпадают

17. Всегда ли совпадает количество изображений детали на рабочем чертеже с количеством изображений на сборочном чертеже

- 1) совпадают не всегда
- 2) зависит от мнения разработчика
- 3) совпадают всегда
- 4) зависит от пожелания заказчика

18. Для чего служит спецификация к сборочным чертежам?

- 1) Спецификация определяет состав сборочной единицы;
- 2) В спецификации указываются габаритные размеры деталей;
- 3) В спецификации указываются габариты сборочной единицы;
- 4) Спецификация содержит информацию о взаимодействии деталей;

19. Какое изображение называется «эскиз» - это:

- 1) чертеж, содержащий габаритные размеры детали
- 2) чертеж, дающий представление о габаритах детали
- 3) чертеж детали, выполненный от руки и позволяющий изготовить деталь
- 4) объемное изображение детали

20. Для чего предназначен эскиз:

- 1) для изготовления детали
- 2) для определения возможности транспортировки детали
- 3) для определения способов крепления детали в конструкции
- 4) для выявления внешней отделки детали

21. Какие условные обозначения проставляют на эскизе:

- 1) координаты центров отверстий
- 2) необходимые размеры для изготовления детали
- 3) габаритные размеры
- 4) толщины покрытий

22. Как штрихуются в разрезе соприкасающиеся детали?

- 1) Одинаково;
- 2) С разным наклоном штриховых линий;
- 3) С разным расстоянием между штриховыми линиями, со смещением штриховых линий, с разным наклоном штриховых линий.

23. Какие упрощения допускаются на эскизе:

- 1) опускание скруглений и проточек
- 2) опускание вмятин, царапин, неравномерностей стенок
- 3) опускание шпоночных отверстий
- 4) опускание ребер жесткости.

24. Каково название процесса мысленного расчленения предмета на геометрические тела, образующие его поверхность:

- 1) деление на геометрические тела
- 2) анализ геометрической формы
- 3) выделение отдельных геометрических тел
- 4) разделение детали на части

25. Каковы названия основных плоскостей проекций:

- 1) фронтальная, горизонтальная, профильная
- 2) центральная, нижняя, боковая
- 3) передняя, левая, верхняя
- 4) передняя, левая боковая, верхняя

26. С чего начинают чтение сборочного чертежа:

- 1) изучение видов соединений и креплений сборочных единиц и деталей изделия
- 2) чтение основной надписи, изучение спецификации изделия и основными составными частями изделия и принципом его работы
- 3) изучение соединений сборочных единиц изделия.

27. Что такое «Деталирование»:

- 1) процесс составления рабочих чертежей деталей по сборочным чертежам
- 2) процесс сборки изделия по отдельным чертежам деталей
- 3) процесс создания рабочих чертежей
- 4) процесс составления спецификации сборочного чертежа

28. Какой знак, позволяющий сократить число изображений, применяют на простых чертежах:

- 1) знак шероховатости поверхности;
- 2) знак осевого биения;
- 3) знак радиуса.
- 4) знак диаметра;

29. Что означает «Изометрия»

- 1) двойное измерение по осям
- 2) прямое измерение осей
- 3) равное измерение по осям
- 3) технический рисунок

30. Расшифруйте условное обозначение резьбы M20×0.75LH.

- 1) Резьба метрическая, номинальный диаметр 20мм, шаг 0,75мм, левая;
- 2) Резьба метрическая, номинальный диаметр 0,75мм, шаг 20мм, правая;
- 3) Резьба трубная, номинальный диаметр 0,75мм, шаг 20мм, левая;
- 4) Резьба метрическая, номинальный диаметр 0,75мм, шаг 20мм, левая.

31. Нужны ли все размеры на рабочих чертежах детали?

- 1) Ставятся только габаритные размеры;
- 2) Ставятся размеры, необходимые для изготовления и контроля детали;
- 3) Ставятся только линейные размеры;
- 4) Ставятся линейные размеры и габаритные;

32. Как штрихуют неметаллические детали на разрезах:

- 1) широкими параллельными линиями
- 2) узкими параллельными линиями
- 3) ромбической сеткой
- 4) сплошным закрашиванием

33. Какими не бывают разрезы:

- 1) горизонтальные
- 2) вертикальные
- 3) наклонные
- 4) параллельные

34. Какими линиями выполняют вспомогательные построения при выполнении элементов геометрических построений?

- 1) Сплошными основными;
- 2) Сплошными тонкими;
- 3) Штрих-пунктирными;
- 4) Штриховыми;

35. На каком расстоянии от контура рекомендуется проводить размерные линии?

- 1) Не более 10 мм;
- 2) От 7 до 10 мм;
- 3) Не менее 10 мм;

4) От 1 до 5 мм;

36. На каком расстоянии друг от друга должны быть параллельные размерные линии?

- 1) Не более 7 мм;
- 2) Не более 10 мм;
- 3) От 7 до 10 мм;
- 4) Не менее 7 мм;

37. Чему должен быть равен раствор циркуля при делении окружности на шесть равных частей?

- 1) Диаметру окружности.
- 2) Половине радиуса окружности.
- 3) Двум радиусам окружности.
- 4) Радиусу окружности.

38. В каком месте должна находиться точка сопряжения дуги с дугой?

- 1) В центре дуги окружности большего радиуса;
- 2) На линии, соединяющей центры сопряжений дуг;
- 3) В центре дуги окружности меньшего радиуса;
- 4) В любой точке дуги окружности большего радиуса;

39. Какие проставляются размеры при выполнении чертежа в масштабе, отличном от 1:1?

- 1) Те размеры, которые имеет изображение на чертеже;
- 2) Независимо от масштаба изображения ставятся реальные размеры изделия;
- 3) Размеры должны быть увеличены или уменьшены в соответствии с масштабом.

40. Какой линией показывается граница нарезанного участка резьбы?

- 1) Волнистой линией;
- 2) Сплошной тонкой линией;
- 3) Сплошной основной линией;
- 4) Штриховой линией;

41. Сколько типов линий применяют при выполнении чертежей

- 1) 6 типов линий
- 2) 7 типов линий
- 3) 8 типов линий
- 4) 9 типов линий

42. Какой ряд масштабов увеличения устанавливается ЕСКД

- 1) 2:1; 3.5:1; 10:1
- 2) 2:1; 3:1; 6:1
- 3) 2:1; 2.5:1; 4:1
- 4) 1:2; 1:3; 1:5

43. Как правильно проставить размеры 4 одинаковых отверстий?

1) 4отв $\emptyset 10$ 2) $\emptyset 10\text{мм} - 4\text{отв}$ 3) $\emptyset 10 \times 4$

44. Какому виду сечения отдается предпочтение

- 1) вынесенному
- 2) наложенному
- 3) комбинированному
- 4) продольному

45. Как правильно проставить размер 4 одинаковых фасок размером 3мм?

- 1) $4 \times (3 \times 45)$
- 2) 4 фаски $3 \times 45^\circ$
- 3) $3 \times 45^\circ; \phi=4$

46. Рамку основной надписи на чертеже выполняют

- 1) основной тонкой линией
- 2) основной толстой линией
- 3) любой линией

47. Относительно толщины какой линии задаются толщины всех других линий чертежа?

- 1) основной сплошной толстой.
- 2) основной сплошной тонкой
- 3) штриховой

48. Толщина сплошной основной линии

- 1) 0,6 мм
- 2) 0,5...1,5 мм
- 3) ,5 мм

49. Назначение штрихпунктирной линии с одной точкой

- 1) линия видимого контура
- 2) линия сгиба
- 3) осевая
- 4) выносная

50. Масштабом называется

- 1) расстояние между двумя точками на плоскости
- 2) пропорциональное уменьшение размеров предмета на чертеж
- 3) отношение линейных размеров на чертеже к действительным размерам

Вариант №2

1. Каковы названия основных плоскостей проекций:

- 1) фронтальная, горизонтальная, профильная
- 2) центральная, нижняя, боковая
- 3) передняя, левая, верхняя
- 4) передняя, левая боковая, верхняя

2. С чего начинают чтение сборочного чертежа:

- 1) изучение видов соединений и креплений сборочных единиц и деталей изделия
- 2) чтение спецификации изделия
- 3) ознакомление со спецификацией и основными составными частями изделия и принципом его работы
- 4) изучение соединений сборочных единиц изделия.

3. Что такое «Деталирование»:

- 1) процесс составления рабочих чертежей деталей по сборочным чертежам
- 2) процесс сборки изделия по отдельным чертежам деталей
- 3) процесс создания рабочих чертежей
- 4) процесс составления спецификации сборочного чертежа

4. Какой знак, позволяющий сократить число изображений, применяют на простых чертежах:

- 1) знак диаметра;
- 2) знак шероховатости поверхности;
- 3) знак осевого биения;
- 4) знак радиуса.

5. Что означает «Изометрия»

- 1) двойное измерение по осям 2) прямое измерение осям
- 3) равное измерение по осям 3) технический рисунок

6. Какого масштаба нет в стандартах ЕСКД

- 1) 2.5:1
- 2) 3: 1
- 3) 5:1

7. Как штрихуют неметаллические детали на разрезах:

- 1) широкими параллельными линиями
- 2) узкими параллельными линиями
- 3) ромбической сеткой
- 4) сплошным закрашиванием

8. Какими не бывают разрезы:

- 1) горизонтальные 2) вертикальные
- 3) наклонные 4) параллельные

9. Где проставляется размер?

- 1) над размерной линией;
- 2) под размерной линией;
- 3) на размерной линии.

10. Какой размер между штрихами штрих пунктирной линии?

- 1) 1.5- 2 мм

- 2) 3 мм
- 3) 1- 1.5 мм

11. Что означают эти цифры 2.5; 5; 7; 10; 14...?

- 1) масштаб
- 2) шрифт
- 3) номера формата

12. Для чего предназначена тонкая сплошная линия?

- 1) для размерных и выносных линий;
- 2) для центровых линий;
- 3) линии симметрии.

13. Как правильно проставить размеры 4 одинаковых отверстий?

- 1) 4_{ОТВ} Ø10
- 2) Ø10мм – 4_{ОТВ}
- 3) Ø10 × 4

14. На каком расстоянии от контура рекомендуется проводить размерные линии?

- 1) Не более 10 мм;
- 2) От 7 до 10 мм;
- 3) Не менее 10 мм;
- 4) От 1 до 5 мм;

15. На основе какого формата получаются другие основные форматы

- 1) A5
- 2) A4
- 3) A3
- 4) A0

16. Какой ряд масштабов увеличения устанавливается ЕСКД

- 1) 2:1; 3.5:1; 10:1
- 2) 2:1; 3:1; 6:1
- 3) 2:1; 2.5:1; 4:1
- 3) 1:2; 1:3; 1:5

17. Какому виду сечения отдается предпочтение

- 1) вынесенному
- 2) наложенному
- 3) комбинированному
- 4) продольному

18. Как правильно проставить размер 4 одинаковых фасок размером 3мм?

- 1) 4 × (3 × 45)
- 2) 4 фаски 3 × 45°
- 3) 3 × 45°; ф=4

19. Рамку основной надписи на чертеже выполняют

- 1) основной тонкой линией

- 2) основной толстой линией
- 3) любой линией

20. Относительно толщины какой линии задаются толщину всех других линий чертежа?

- 1) основной сплошной толстой.
- 2) основной сплошной тонкой
- 3) штриховой

21. Толщина сплошной основной линии

- 1) 0,5 мм
- 2) 0,5...1,5 мм
- 3) ,5 мм

22. Назначение штрихпунктирной линии с одной точкой

- 1) линия видимого контура
- 2) линия сгиба
- 3) осевая
- 4) выносная

23. Масштабом называется

- 1) расстояние между двумя точками на плоскости
- 2) пропорциональное уменьшение размеров предмета на чертеж
- 3) отношение линейных размеров на чертеже к действительным размерам

24. Какой способ проецирования используется при построении чертежа?

- 1) центральное;
- 2) параллельное;
- 3) прямоугольное.

25. Всегда ли достаточно одной проекции предмета?

- 1) всегда
- 2) иногда
- 3) не всегда

26. Где правильно обозначены плоскости проекций?

- 1) V W
- 2) H W
- Н V

27. Какие основные три вида вы знаете?

- 1) Главный вид, фронтальный, прямоугольный;
- 2) Главный вид, вид слева, вид сверху
- 3) Главный вид, вид слева, профильный.

28. Изображение отдельного ограниченного места поверхности предмета называется.....

- 1) Главным видом
- 2) Местным видом
- 3) Видом

29. Как штрихуют неметаллические детали на разрезах:

- 1) широкими параллельными линиями

- 2) узкими параллельными линиями
- 3) ромбической сеткой
- 4) сплошным закрашиванием

30. Какими не бывают разрезы:

- 1) горизонтальные 2) вертикальные
- 3) наклонные 4) параллельные

31. Какому виду сечения отдается предпочтение

- 1) вынесенному 2) наложенному
- 3) комбинированному 4) продольному

32. Где располагается основная надпись чертежа по форме 1 на чертежном листе?

- 1) Посередине чертежного листа;
- 2) В правом нижнем углу;
- 3) В левом нижнем углу;
- 4) В правом нижнем углу, примыкая к рамке формата.

33. По отношению к толщине основной линии толщина разомкнутой линии составляет?

- 1) (0,5 1,0) S;
- 2) (1,0 2,0) S;
- 3) (1,0 2,5) S;
- 4) (0,8 1,5) S;

34. На основе какого формата получают другие основные форматы

- 1) A5; 2) A4; 3) A3; 4) A0

35. Сколько типов линий применяют при выполнении чертежей

- 1) 6 типов линий 2) 7 типов линий
- 3) 8 типов линий 4) 9 типов линий

36. В каком году принята ГОСТом конструкция последнего чертежного шрифта

- 1) 1959 г. 2) 1968
- 3) 1981 г. 4) 1988 г.

37. Сколько основных видов существует для выполнения чертежа

- 1) 6 видов 2) 5 видов
- 3) 4 вида 4) 3 вида

38. Сколько видов аксонометрических проекций применяются в графике

- 1) 2 вида 2) 3 вида 3) 4 вида 4) 5 видов

39. В каких случаях образуется цилиндрическая зубчатая передача

- 1) когда оси валов пересекаются

- 2) когда оси валов скрещиваются
- 3) когда оси валов параллельны друг другу
- 4) когда присутствует специальная надпись

40. Всегда ли совпадают положение детали на главном виде на рабочем чертеже с положением детали на сборочном чертеже

- 1) всегда совпадают
- 2) никогда не совпадают
- 3) совпадают не всегда

41. Всегда ли совпадает количество изображений детали на рабочем чертеже с количеством изображений на сборочном чертеже

- 1) совпадают не всегда
- 2) зависит от мнения разработчика
- 3) совпадают всегда

42. Простой разрез получается при числе секущих плоскостей, равных:

- 1) Одной;
- 2) Двум;
- 3) Двум и более;
- 4) Трём;

43. Какое изображение называется «эскиз» - это:

- 1) чертеж детали, выполненный от руки и позволяющий изготовить деталь
- 2) объемное изображение детали
- 3) чертеж, содержащий габаритные размеры детали
- 4) чертеж, дающий представление о габаритах детали

44. Для чего предназначен эскиз:

- 1) для изготовления детали
- 2) для определения возможности транспортировки детали
- 3) для определения способов крепления детали в конструкции
- 4) для выявления внешней отделки детали

45. При нанесении размера дуги окружности (части окружности) используют следующий знак?

- 1) Нет специального обозначения;
- 2) Сфера.
- 3) R;

46. Размер шрифта h определяется следующими элементами?

- 1) Высотой строчных букв;
- 2) Высотой прописных букв в миллиметрах;
- 3) Толщиной линии шрифта;
- 4) Шириной прописной буквы А, в миллиметрах;

47. Масштабы изображений на чертежах должны выбираться из следующего ряда?

- 1) 1:1; 1:2; 1:2,5; 1:3; 1:4; 1:5; 2:1; 2,5:1; 3:1; 4:1; 5:1.....

- 2) 1:1; 1:2; 1:2,5; 1:4; 1:5; 2:1; 2,5:1; 4:1; 5:1.....
- 3) 1:1; 1:2; 1:4; 1:5; 2:1; 4:1; 5:1.....
- 4) 1:2; 1:2,5; 1:4; 1:5; 2:1; 2,5:1; 4:1; 5:1.....

48. Все ли детали на сборочных чертежах подлежат детализованию?

- 1) все;
- 2) все кроме стандартных;
- 3) основные

49. Как изображаются в разрезе детали с тонкими стенками?

- 1) тонкими стенками;
- 2) штрихуют
- 3) не штрихуют

50. Какой линией ограничивают местный разрез?

- 1) основной тонкой;
- 2) штрихпунктирной;
- 3) тонкой волнистой.

Вариант №3

1. Где располагается основная надпись чертежа по форме 1 на чертежном листе?

- 1) Посередине чертежного листа;
- 2) В правом нижнем углу;
- 3) В левом нижнем углу;
- 4) В правом нижнем углу, примыкая к рамке формата.

2. Толщина сплошной основной линии лежит в следующих пределах?

- 1) 0,5 2,0 мм.;
- 2) 1,0 1,5 мм.;
- 3) 0,5 1,0 мм.;
- 4) 0,5 1,5 мм.

3. По отношению к толщине основной линии толщина разомкнутой линии составляет?

- 1) (0,5 1,0) S;
- 2) (1,0 2,0) S;
- 3) (1,0 2,5) S;
- 4) (0,8 1,5) S;

4. Масштабы изображений на чертежах должны выбираться из следующего ряда?

- 1) 1:1; 1:2; 1:2,5; 1:3; 1:4; 1:5; 2:1; 2,5:1; 3:1; 4:1; 5:1.....

- 2) 1:1; 1:2; 1:2,5; 1:4; 1:5; 2:1; 2,5:1; 4:1; 5:1.....
- 3) 1:1; 1:2; 1:4; 1:5; 2:1; 4:1; 5:1.....
- 4) 1:2; 1:2,5; 1:4; 1:5; 2:1; 2,5:1; 4:1; 5:1.....

5. Размер шрифта h определяется следующими элементами?

- 1) Высотой строчных букв;
- 2) Высотой прописных букв в миллиметрах;
- 3) Толщиной линии шрифта;
- 4) Шириной прописной буквы А, в миллиметрах;

6. ГОСТ устанавливает следующие размеры шрифтов в миллиметрах?

- 1) 1; 2; 3; 4; 5; 6; 7; 8; 9; 10.....
- 2) 1,5; 2,5; 3,5; 4,5; 5,5; 6,5.....
- 3) 2; 4; 6; 8; 10; 12.....
- 4) 1,8; 2,5; 3,5; 5; 7; 10; 14; 20.....

7. Толщина линии шрифта d зависит от?

- 1) От толщины сплошной основной линии S;
- 2) От высоты строчных букв шрифта;
- 3) От типа и высоты шрифта;
- 4) От угла наклона шрифта;

8. В каких единицах измерения указываются линейные и угловые размеры на чертежах?

- 1) В сотых долях метра и градусах;
- 2) В микронах и секундах;
- 3) В метрах, минутах и секундах;
- 4) В миллиметрах, градусах минутах и секундах.

9. При нанесении размера дуги окружности (части окружности) используют следующий знак?

- 1) R;
- 2) Нет специального обозначения;
- 3) Сфера.

10. Какими линиями выполняют вспомогательные построения при выполнении элементов геометрических построений?

- 1) Сплошными основными;
- 2) Сплошными тонкими;
- 3) Штрих-пунктирными;
- 4) Штриховыми;

11. На каком расстоянии от контура рекомендуется проводить размерные линии?

- 1) Не более 10 мм;
- 2) От 7 до 10 мм;
- 3) Не менее 10 мм;
- 4) От 1 до 5 мм;

12. На каком расстоянии друг от друга должны быть параллельные размерные линии?

- 1) Не более 7 мм;
- 2) Не более 10 мм;
- 3) От 7 до 10 мм;
- 4) Не менее 7 мм;

13. Чему должен быть равен раствор циркуля при делении окружности на шесть равных частей?

- 1) Диаметру окружности.
- 2) Половине радиуса окружности.
- 3) Двум радиусам окружности.
- 4) Радиусу окружности.

14. В каком месте должна находиться точка сопряжения дуги с дугой?

- 1) В центре дуги окружности большего радиуса;
- 2) На линии, соединяющей центры сопряжений дуг;
- 3) В центре дуги окружности меньшего радиуса;
- 4) В любой точке дуги окружности большего радиуса;

15. Какие проставляются размеры при выполнении чертежа в масштабе, отличном от 1:1?

- 1) Те размеры, которые имеет изображение на чертеже;
- 2) Независимо от масштаба изображения ставятся реальные размеры изделия;
- 3) Размеры должны быть увеличены или уменьшены в соответствии с масштабом.

16. Какие виды сечения вы знаете?

- 1) вынесенные, наложенные
- 2) выносное, накладное;
- 3) центральное и параллельное.

17. Какое максимальное количество видов может быть на чертеже детали?

- 1) Четыре;
- 2) Три;
- 3) Один;
- 4) Шесть.

18. Сколько видов должно содержать изображение какой-либо конкретной детали?

- 1) Один;
- 2) Три;
- 3) Минимальное, но достаточное для однозначного уяснения конфигурации;
- 4) Максимальное число видов;

19. Какой вид называется дополнительным?

- 1) Вид снизу;
- 2) Вид сзади;
- 3) Полученный проецированием на плоскость, не параллельную ни одной из плоскостей проекций;
- 4) Полученный проецированием на плоскость W .

20. Что называется местным видом?

- 1) Изображение только ограниченного места детали;
- 2) Изображение детали на дополнительную плоскость;
- 3) Изображение детали на плоскость W ;
- 4) Вид справа детали;

21. Какой вид детали и на какую плоскость проекций называется ее главным видом?

- 1) Вид сверху, на плоскость H ;
- 2) Вид спереди, на плоскость V ;
- 3) Вид слева, на плоскость W ;
- 4) Вид сзади, на плоскость H ;

22. Возможно ли выполнение дополнительных видов повернутыми?

- 1) Нет, ни в коем случае;
- 2) Обязательно, всегда выполняются повернутыми;
- 3) Возможно, но дополнительный вид при этом никак не выделяется и не обозначается;
- 4) Возможно, но с сохранением положения, принятого для данного предмета на главном виде и с добавлением слова «Повернуто»;

23. Разрез получается при мысленном рассечении предмета секущей плоскостью. При этом на разрезе показывается то, что:

- 1) Получится только в секущей плоскости;
- 2) Находится перед секущей плоскостью;
- 3) Находится за секущей плоскостью;
- 4) Находится в секущей плоскости, и что расположено за ней.

24. Для какой цели применяются разрезы?

- 1) Показать внутренние очертания и форму изображаемых предметов;
- 2) Показать внешнюю конфигурацию и форму изображаемых предметов;
- 3) Применяются при выполнении чертежей любых деталей;
- 4) Применяются только по желанию конструктора;

25. Какие разрезы называются горизонтальными?

- 1) Когда секущая плоскость перпендикулярна горизонтальной плоскости проекций;
- 2) Когда секущая плоскость параллельна горизонтальной плоскости проекций;
- 3) Когда секущая плоскость перпендикулярна оси X;
- 4) Когда секущая плоскость параллельна фронтальной плоскости проекций;

26. Простой разрез получается при числе секущих плоскостей, равных:

- 1) Одной;
- 2) Двум;
- 3) Двум и более;
- 4) Трём;

27 Сложный разрез получается при сечении

- 1) Тремя секущими плоскостями;
- 2) Двумя и более секущими плоскостями;
- 3) Плоскостью, параллельной горизонтальной плоскости проекций;
- 4) Одной секущей плоскостью;

28. Всегда ли нужно обозначать простые разрезы линией сечения?

- 1) Да, обязательно;
- 2) Никогда не нужно обозначать;
- 3) Не нужно, когда секущая плоскость совпадает с плоскостью симметрии детали;
- 4) Не нужно, когда секущая плоскость параллельна горизонтальной плоскости проекций;

29. В каком случае можно соединять половину вида с половиной соответствующего разреза?

- 1) Всегда можно;
- 2) Никогда нельзя;
- 3) Если вид и разрез являются симметричными фигурами;
- 4) Если вид и разрез являются несимметричными фигурами.

30. Если вид и разрез являются симметричными фигурами, то какая линия служит осью симметрии, разделяющей их половины?

- 1) Сплошная тонкая;
- 2) Сплошная основная;
- 3) Штриховая;
- 4) Штрих-пунктирная тонкая.

31. Как изображаются на разрезе элементы тонких стенок типа рёбер жесткости.

- 1) Никак на разрезе не выделяются;
- 2) Выделяются и штрихуются полностью;
- 3) Показываются рассечёнными, но не штрихуются;
- 4) Показываются рассечёнными, но штрихуются в другом направлении по отношению к основной штриховке разреза;

32. Под каким углом осуществляется штриховка металлов (графическое изображение металлов) в разрезах?

- 1) Под углом 30 градусов к линии контура изображения, или к его оси или к линии рамки чертежа;
- 2) Под углом 60 градусов к линии контура изображения, или к его оси или к линии рамки чертежа;
- 3) Под любыми произвольными углами;
- 4) Под углом 45 градусов к линии контура изображения, или к его оси или к линии рамки чертежа;

33. Местный разрез служит для уяснения устройства предмета в отдельном узко ограниченном месте. Граница местного разреза выделяется на виде:

- 1) Сплошной волнистой линией;
- 2) Сплошной тонкой линией;
- 3) Сплошной основной линией;
- 4) Штриховой линией.

34. Всегда ли обозначается положение секущих плоскостей при сложных разрезах?

- 1) Нет, не всегда;
- 2) Да, конечно, всегда;
- 3) Лишь когда не ясно, как проходят секущие плоскости разреза;
- 4) В редких случаях;

35. В сечении показывается то, что:

- 1) Находится перед секущей плоскостью;
- 2) Находится за секущей плоскостью;
- 3) Попадает непосредственно в секущую плоскость;
- 4) Находится непосредственно в секущей плоскости и за ней⁴

36. Контур вынесенного сечения выполняется:

- 1) Сплошной тонкой линией;
- 2) Сплошной основной линией;
- 3) Штриховой линией;

37. Как изображается резьба вала на виде слева

- 1) Наружный диаметр резьбы - сплошная основная, внутренний диаметр - сплошная тонкая, на виде слева - сплошная тонкая линия на $3/4$ длины окружности;
- 2) Наружный диаметр резьбы - сплошная основная, внутренний диаметр - сплошная тонкая, на виде слева - тонкая линия на 360° градусов;
- 3) Наружный и внутренний диаметры резьбы - сплошная основная, на виде слева - сплошная тонкая
- 4) Наружный и внутренний диаметры - сплошная тонкая линия;

38. Какой линией показывается граница нарезанного участка резьбы?

- 1) Волнистой линией;
- 2) Сплошной тонкой линией;
- 3) Сплошной основной линией;
- 4) Штриховой линией;

39. Расшифруйте условное обозначение резьбы $M20 \times 0.75 LH$.

- 1) Резьба метрическая, номинальный диаметр 20мм, шаг 0,75мм, левая;
- 2) Резьба метрическая, номинальный диаметр 0,75мм, шаг 20мм, правая;
- 3) Резьба трубная, номинальный диаметр 0,75мм, шаг 20мм, левая;
- 4) Резьба метрическая, номинальный диаметр 0,75мм, шаг 20мм, левая.

40. От какого диаметра следует проводить выносные линии для обозначения резьбы, выполненной в отверстии?

- 1) От диаметра впадин резьбы, выполняемого сплошной основной линией;
- 2) От внутреннего диаметра резьбы, выполняется сплошной тонкой линией;
- 3) От наружного диаметра резьбы, выполненного сплошной тонкой линией;
- 4) От наружного диаметра резьбы, выполненного сплошной основной линией.

41. Чем отличается обозначение метрической резьбы с крупным шагом от её обозначения с мелким шагом?

- 1) Не отличается ничем;
- 2) К обозначению резьбы добавляется величина крупного шага;
- 3) К обозначению резьбы добавляется величина мелкого шага;
- 4) К обозначению резьбы добавляется приписка LH;

42. В каком случае правильно перечислены разъемные и неразъемные соединения?

- 1) Разъемные: болтовое, шпилечное, винтовое, паяное, шпоночное. Неразъемные: клеевое, сварное, шовное, заклёпочное.
- 2) Разъемные: болтовое, шпилечное, винтовое, шпоночное, шлицевое. Неразъемные: клеевое, сварное, паяное, шовное, заклёпочное.
- 3) Разъемные: болтовое, шпилечное, винтовое, шпоночное, шовное, сварное. Неразъемные: клеевое, паяное, шлицевое, заклёпочное.
- 4) Разъемные: болтовое, шпилечное, винтовое, шпоночное, шовное. Неразъемные: клеевое, паяное, шлицевое, заклёпочное.

43. Чем отличается эскиз от рабочего чертежа детали?

- 1) Эскиз выполняется в большем масштабе, чем рабочий чертёж;
- 2) Эскиз выполняется с помощью чертёжных инструментов, а рабочий чертёж - от руки;
- 3) Эскиз ничем не отличается от рабочего чертежа;
- 4) Эскиз выполняется от руки; а рабочий чертёж - с помощью чертёжных инструментов.

44. В каком масштабе выполняется эскиз детали?

- 1) В глазомерном масштабе;
- 2) Обычно в масштабе 1:1;
- 3) Обычно в масштабе увеличения;
- 4) Всегда в масштабе уменьшения;

45. Сколько видов должен содержать рабочий чертёж детали?

- 1) Всегда три вида;
- 2) Шесть видов;
- 3) Минимальное, но достаточное для представления форм детали;
- 4) Максимально возможное число видов;

46. Нужны ли все размеры на рабочих чертежах детали?

- 1) Ставятся только габаритные размеры;
- 2) Ставятся размеры, необходимые для изготовления и контроля изготовления детали;
- 3) Ставятся только линейные размеры;
- 4) Ставятся линейные размеры и габаритные;

47. Для чего служит спецификация к сборочным чертежам?

- 1) Спецификация определяет состав сборочной единицы;
- 2) В спецификации указываются габаритные размеры деталей;
- 3) В спецификации указываются габариты сборочной единицы;
- 4) Спецификация содержит информацию о взаимодействии деталей;

48. Для каких деталей наносят номера позиций на сборочных чертежах?

- 1) Для всех деталей, входящих в сборочную единицу;
- 2) Только для нестандартных деталей;
- 3) Только для стандартных деталей;
- 4) Для крепёжных деталей;

49. Какие размеры наносят на сборочных чертежах?

- 1) Все размеры;
- 2) Габаритные, присоединительные, установочные, крепёжные, определяющие работу устройства.
- 3) Только размеры крепёжных деталей;
- 4) Только габаритные размеры.

50. Как штрихуются в разрезе соприкасающиеся детали?

- 1) Одинаково;
- 2) Одна деталь не штрихуется, а другая штрихуется;
- 3) С разным наклоном штриховых линий;
- 4) С разным расстоянием между штриховыми линиями, со смещением штриховых линий, с разным наклоном штриховых линий.

ОТВЕТЫ

Вопросы	ОТВЕТЫ вариант №1	ОТВЕТЫ Вариант №2	ОТВЕТЫ Вариант №3
1	3	1	4
2	3	3	4
3	1	1	1
4	2	1	2
5	2	3	2
6	3	2	4
7	4	3	3
8	2	4	4
9	4	1	1
10	2	2	2
11	4	2	2
12	2	1	3
13	1	1	4
14	1	2	2
15	3	2	2
16	3	1	1
17	1	2	4
18	1	2	3
19	3	2	3
20	1	1	1
21	2	2	2
22	3	3	4
23	1	3	4
24	3	3	1
25	1	3	2
26	2	1	1
27	1	2	2
28	4	2	3

29	3	3	1
30	1	4	4
31	2	1	3
32	3	4	4
33	3	1	1
34	4	2	2
35	2	4	1
36	2	2	2
37	3	1	1
38	4	1	3
39	2	3	1
40	3	3	3
41	4	1	3
42	2	1	1
43	1	1	4
44	2	1	1
45	1	3	3
46	2	2	2
47	1	2	1
48	2	2	1
49	3	3	2
50	3	3	4

Приложения 2. Перечень лабораторно-практических занятий

1.	Краткая история развития чертежа. Общие сведения о стандартах в системе ЕСКД. Доведение КТП.
2.	Форматы и ГОСТы на них (ГОСТ 2.301-68) Выполнение практического задания по усвоению темы (в рабочей тетради) Масштабы и ГОСТы на них (ГОСТ 2.302-68) Правила нанесения размеров.
3.	Линии чертежа, ГОСТ 2.302-68, Задание по выполнению линий чертежа на листе формата А-4
4.	Шрифты чертежные, ГОСТ 2.304-81. Надписи на чертежах. Задание: Написание алфавита (чертежными шрифтами на листе формата А4)
5.	Основная надпись на чертежах. Чертежные форматы. Выполнение основной надписи на листе формата А4. Задание: выполнение надписи и выполнение титульного листа на формате А4;
6.	Деление отрезка прямой. Деление и построение углов. Деление окружности на равные части. Выполнение сопряжений прямых линий и окружностей и по заданным размерам.
7.	Способы и методы геометрических построений, сопряжений кривых, дуг и окружностей и делений окружностей на равные части. Пошагово на вычертить техническую деталь на листе А4.
8.	Алгоритм построения чертежа детали, представленного тремя видами. Изучить с обучающихся метод 3-х проекций и проекционных связей, а также порядок вычерчивания деталей на чертеже в 3-х проекциях и методом проекционных связей.
9.	Изучить методы проецирования в начертательной геометрии. Ортогональные проекции точки. Выполнение задания по построению проекций точки
10.	Геометрические тела. Метод прямоугольного проецирования. Прямоугольные проекции геометрических тел. Выполнение задания по построению прямоугольной проекции геометрического тела.
11.	Общие сведения о стандартах в системе ЕСКД на машиностроительное черчение. Общие правила. Выполнение индивидуальных заданий по использованию стандартов ЕСКД. Графические обозначения материалов и правила их нанесения на чертежах. Условности и упрощения на чертежах. Выполнение задания по обозначению материалов, условностей на чертеже.
12.	Основные виды. Классификация разрезов и сечений. Вычертить деталь на листе формата А-4 с тремя видами, разрезом и сечением.
13.	Алгоритм построения окружности в аксонометрии. Вычертить окружность в аксонометрии на листе формата А-4.
14.	Пошаговый алгоритм построения комплексного чертежа. Вычертить

	комплексный чертеж модели на листе формата А-4
15.	Виды технических рисунков. Алгоритм построения технического рисунка. Элементы технического рисования их использование в чертежах. Нарисовать технический рисунок на листе формата А4.
16.	Проецирование геометрических тел и точек на их поверхностях. Выполнение задания по построению проекций точек на поверхности тел .
17.	Построение развертки и аксонометрической проекции усеченного тела (призмы, цилиндра, пирамиды, конуса, тора, шара).Вычертить развертку и аксонометрическую проекцию усеченного тела (призмы) на листе формата А-4.
18.	Комплексный чертеж группы геометрических тел. Вычертить комплексный чертеж группы геометрических тел на листе А-4.
19.	Изображение группы тел в изометрии. Вычертить чертеж группы геометрических тел в изометрии на листе А-4.
20.	Алгоритм построения комплексного чертежа детали по аксонометрии. Вычертить комплексный чертеж детали по аксонометрии на листе А-4
21.	Классификация разрезов их обозначение. Вычертить деталь (в разрезе) на листе формата А-4 .
22.	Алгоритм построения чертежа детали в аксонометрии по 3-м проекциям. Вычертить чертеж детали в аксонометрии (по 3-м проекциям) на листе формата А-4.
23.	Алгоритм построения чертежа детали в аксонометрии по 3-м проекциям. Вычертить чертеж детали в аксонометрии (по 3-м проекциям) на листе формата А-4.
24.	Методика построения третьей проекции по 2-м заданным и аксонометрии. Вычертить чертеж с построением 3-й проекции по 2-м заданным и аксонометрии на листе формата А-4.
25.	Виды Аксонометрии. Алгоритм построения чертежа детали в аксонометрии. Вычертить чертеж заданной детали в аксонометрии на листе формата А-4.
26.	Алгоритм построения чертежа детали (симметричной фигуры) в аксонометрии. Алгоритм построения чертежа детали с вырезом 1/4 в аксонометрии.
27.	Понятие и предназначение эскиза. Алгоритм выполнения эскиза. Понятие и предназначение рабочего чертежа. Алгоритм выполнения рабочего чертежа. Выполнить эскиз и рабочий чертеж заданной детали.
28.	Понятие и предназначение сборочного чертежа. Порядок и алгоритм выполнения сборочного чертежа. Выполнить сборочный чертеж (по заданию) на листе формата А4.
29.	Спецификация на сборочном чертеже. Разрезы и детализирование на сборочных чертежах. Выполнить сборочный чертеж (по заданию) на листе формата А4.

30.	Понятие строительного чертежа, его виды и особенности. Стандарты в оформлении строительных чертежей.
31.	Модульная система построения и чтения чертежей. Условные графические обозначения. Сопровождающие тексты, таблицы, выноски, ссылки в строительных чертежах.
32.	Алгоритм выполнения плана здания. Требования к планам и специфика их вычерчивания.
33.	Понятие и предназначение спецификации. Правила их выполнения. Спецификации и экспликации в строительном черчении.
34.	Вычертить план цеха (пекарни) со спецификацией оборудования на листе А4.
35.	Назначение редактора AutoCad в построении чертежей и проектировании. Слои.
36.	Панели инструментов. Командная строка. Выполнение практического задания по усвоению темы на компьютере в программе Компас-3D .
37.	Методика и приемы работы с графической информацией. Выполнение практического задания по усвоению темы на компьютере в программе Компас-3D .
38.	Линии чертежа. Настройка слоев и типов линий. Выполнение практического задания по усвоению темы на компьютере в программе Компас-3D .
39.	Набор текста , слов в программе Компас-3D . Выбор стиля.
40.	Редактирование текста , слов в программе Компас-3D . Поворот. Вставка символов
41.	Нанесение размеров. Изменение размеров. Изменение стиля в программе Компас-3D .
42.	Настройка слоев. Приемы работы с графической информацией в программе Компас-3D .
43.	Линии чертежа. Методика настройки слоев в зависимости от типов линий. Выполнение практического задания по усвоению темы на компьютере в программе Компас-3D.
44.	Инструменты коррекции: копирование, перемещение, «зеркало», сопряжение, разрыв, масштаб, массив. Выполнение практического задания по усвоению темы на компьютере в программе Компас-3D .
45.	Алгоритм выполнения рамки и штампа чертежа на компьютере. Выполнение практического задания по усвоению темы на компьютере в программе Компас-3D.
46.	Алгоритм выполнения рамки чертежа в 3-х проекциях на компьютере. Выполнение практического задания по усвоению темы на компьютере в программе Компас-3D.
47.	Алгоритм построения вида детали в аксонометрии на компьютере. Выполнение практического задания по усвоению темы на компьютере в программе Компас-3D.

48.	Алгоритм построения разрезов детали в аксонометрических проекциях на компьютере. Выполнение практического задания по усвоению темы на компьютере в программе Компас-3D.
49.	Алгоритм вычерчивания контуров деталей с применением рациональных методов деления окружности на равные части на компьютере. Использование метода сопряжения дуг и окружностей для вычерчивания контуров деталей.
50.	Алгоритм вычерчивания плана цеха (кондитерских изделий). Алгоритм выполнения спецификации оборудования цеха . Выполнение практического задания по усвоению темы на компьютере в программе Компас-3D .
51.	Дифференцированный зачёт

Министерство образования Новосибирской области
Государственное автономное профессиональное образовательное учреждение
Новосибирской области
«НОВОСИБИРСКИЙ КОЛЛЕДЖ ПИЩЕВОЙ ПРОМЫШЛЕННОСТИ
И ПЕРЕРАБОТКИ»

СОГЛАСОВАНО:

Заместитель директора по учебно-
производственной работе

«__»____2022

_____ А.В. Чупина

Комплект контрольно-измерительных средств
по учебной дисциплине
ОП 01 «Инженерная графика»,
на промежуточной аттестации 2022 – 2023 учебного года
для обучающихся по специальности СПО
19.02.03 Технология хлеба, кондитерских и макаронных изделий

Новосибирск

2022 г.

Комплект контрольно-измерительных материалов разработан на основе Федерального государственного образовательного стандарта среднего профессионального образования по специальности 19.02.03 Технология хлеба, кондитерских и макаронных изделий, входящей в состав укрупненной группы специальностей 19.00.00 Промышленная экология и биотехнологии, программы учебной дисциплины ОП 01 «Инженерная графика».

Разработчик:

Государственное автономное профессиональное образовательное учреждение Новосибирской области «Новосибирский колледж пищевой промышленности и переработки», Гулин А.А., преподаватель

Одобрено на заседании предметно-цикловой комиссии комиссии
Общих гуманитарных и социально-экономических дисциплин,
Профессионального цикла по профессиям 19.01.09, 19.01.14 и
специальностям 19.02.07., 19.02.08.

Протокол №_1 от «31»_08_2022 г.

Председатель ПЦК _____ Л.М. Князькова

Содержание

1. Паспорт комплекта контрольно-измерительных материалов	с.3
1.1. Область применения	
1.2. Результаты освоения учебной дисциплины, подлежащие проверке...	с.3
1.3. Организация контроля и оценки освоения программы учебной дисциплины.....	с.3
1.4. Материально-техническое обеспечение контрольно-измерительных мероприятий.....	с.5
2. Комплект материалов для контроля и оценки освоения умений и усвоения знаний	
2.1 Задание для экзаменуемого	
2.2 Задание для экзаменатора	
3. Приложения:.....	с.10
Приложения 1. Тестовые задания для промежуточной аттестации	
Приложения 2. Перечень лабораторно-практических занятий	

1. Паспорт комплекта контрольно-измерительных материалов (ККИМ)

1.1 Область применения

Комплект контрольно-измерительных материалов предназначен для проверки результатов освоения учебной дисциплины ОП 01 «Инженерная графика» по специальности СПО 19.02.03 Технология хлеба, кондитерских и макаронных изделий, входящей в состав укрупненной группы специальностей 19.00.00 Промышленная экология и биотехнологии.

1.2 Результаты освоения учебной дисциплины, подлежащие проверке.

В результате освоения учебной дисциплины обучающийся должен уметь:

- читать конструкторскую и технологическую документацию по профилю специальности;
- выполнять комплексные чертежи геометрических тел и проекции точек, лежащих на их поверхности, в ручной и машинной графике; выполнять эскизы, технические рисунки и чертежи деталей, их элементов, узлов в ручной и машинной графике;
- выполнять графические изображения технологического оборудования и технологических схем и ручной и машинной графике;
- оформлять проектно-конструкторскую, технологическую и другую техническую документацию в соответствии с действующей нормативной базой.

В результате освоения дисциплины обучающийся должен знать:

- правила чтения конструкторской и технологической документации;
- способы графического представления объектов, пространственных образов, технологического оборудования и схем;
- законы, методы и приемы проекционного черчения; требования государственных стандартов Единой системы конструкторской документации (далее - ЕСКД) и Единой системы технологической документации (далее - ЕСТД);
- правила выполнения чертежей, технических рисунков, эскизов и схем;
- технику и принципы нанесения размеров;
- классы точности и их обозначение на чертежах;
- типы и назначение спецификаций, правила их чтения и составления

Общие компетенции:

ОК 1. Понимать сущность и социальную значимость своей будущей профессии, проявлять к ней устойчивый интерес.

ОК 2. Организовывать собственную деятельность, выбирать типовые методы и способы выполнения профессиональных задач, оценивать их эффективность и качество.

ОК 3. Принимать решения в стандартных и нестандартных ситуациях и нести за них ответственность.

ОК 4. Осуществлять поиск и использование информации, необходимой для эффективного выполнения профессиональных задач, профессионального и личностного развития.

ОК 5. Использовать информационно-коммуникационные технологии в профессиональной деятельности.

ОК 6. Работать в коллективе и команде, эффективно общаться с коллегами, руководством, потребителями.

ОК 7. Брать на себя ответственность за работу членов команды (подчиненных), результат выполнения заданий.

ОК 8. Самостоятельно определять задачи профессионального и личностного развития, заниматься самообразованием, осознанно планировать повышение квалификации.

ОК 9. Ориентироваться в условиях частой смены технологий в профессиональной деятельности.

Основные виды профессиональной деятельности и профессиональные компетенции:

ПК 1.1. Организовывать и производить приемку сырья.

ПК 1.2. Контролировать качество поступившего сырья.

ПК 1.3. Организовывать и осуществлять хранение сырья.

ПК 1.4. Организовывать и осуществлять подготовку сырья к переработке.

ПК 2.1. Контролировать соблюдение требований к сырью при производстве хлеба и хлебобулочных изделий.

ПК 2.2. Организовывать и осуществлять технологический процесс изготовления полуфабрикатов при производстве хлеба и хлебобулочных изделий.

ПК 2.3. Организовывать и осуществлять технологический процесс производства хлеба и хлебобулочных изделий.

ПК 2.4. Обеспечивать эксплуатацию технологического оборудования хлебопекарного производства.

ПК 3.2. Организовывать и осуществлять технологический процесс производства сахаристых кондитерских изделий.

ПК 3.3. Организовывать и осуществлять технологический процесс производства мучных кондитерских изделий.

ПК 3.4. Обеспечивать эксплуатацию технологического оборудования при производстве кондитерских изделий.

ПК 4.2. Организовывать и осуществлять технологический процесс производства различных видов макаронных изделий.

ПК 4.3. Обеспечивать эксплуатацию технологического оборудования при производстве различных видов макаронных изделий.

ПК 5.5. Вести утвержденную учетно-отчетную документацию.

Формой аттестации по учебной дисциплине является дифференцированный зачет.

1.3 Организация контроля и оценки освоения программы учебной дисциплины

В результате аттестации по учебной дисциплине осуществляется комплексная проверка следующих умений и знаний, а также динамика формирования общих компетенций:

Таблица 1

Результаты обучения (освоенные умения, усвоенные знания)	Формы и методы контроля и оценки результатов обучения
В результате освоения дисциплины обучающийся должен уметь:	
читать конструкторскую и технологическую документацию по профилю специальности;	практические работы № 1-5, 11-20
выполнять комплексные чертежи геометрических тел и проекции точек, лежащих на их поверхности, в ручной и машинной графике; выполнять эскизы, технические рисунки и чертежи деталей, их элементов, узлов в ручной и машинной графике;	практические работы №18-20, 15,27, 46-49
выполнять графические изображения технологического оборудования и технологических схем и ручной и машинной графике;	практические работы № 32,50
оформлять проектно-конструкторскую, технологическую и другую техническую документацию в соответствии с действующей нормативной базой.	практические работы №33,34,50
В результате освоения дисциплины обучающийся должен знать:	
правила чтения конструкторской и технологической документации;	практические работы №31-37
способы графического представления объектов, пространственных образов, технологического оборудования и схем;	практические работы №38-47, 21-26
законы, методы и приемы проекционного черчения; требования государственных стандартов Единой	Наблюдение, опрос, практическая работа № 9-13 ,

системы конструкторской документации (далее - ЕСКД) и Единой системы технологической документации (далее - ЕСТД);	
правила выполнения чертежей, технических рисунков, эскизов и схем;	практические работы №12-15, 27
технику и принципы нанесения размеров;	практическая работа №2
классы точности и их обозначение на чертежах;	Опрос, практическая работа №5
типы и назначение спецификаций, правила их чтения и составления;	Наблюдение, опрос, практические работы №29,33,50,51
Итоговая аттестация	Дифференцированный зачет

Контроль и оценка осуществляются с использованием следующих форм и методов: наблюдение, опрос, тестирование, собеседование, защита самостоятельных и практических работ. Оценка освоения дисциплины предусматривает использование бально-рейтинговой системы оценки успеваемости обучающихся (оценка производится в соответствии с рейтинг-планом) и проведения экзамена.

Рейтинг – план по учебной дисциплине ОП 01 «Инженерная графика» :

№п/п	Учебная деятельность студента в семестре	Баллы	Штрафные баллы
I. Посещаемость (max - 60 баллов)			
1.	<i>Посещение учебных занятий (отсутствие пропусков)</i>	60	
2.	Посетил все теоретические занятия	нет	
3.	Посетил все практические занятия	60	
4.	Пропуски по уважительной причине	0	
5.	Пропуски без уважительных причин (за 1 пропущенное занятие)		- 1
6.	Опоздание на учебное занятие (за 1 опоздание)		- 0,5

II. Освоение ППСЗ (max – 185 баллов)			
7.	Своевременное выполнение домашнего задания (за 1)	3 - 5	
8.	Несвоевременное выполнение домашнего задания (за 1)		- 1
9.	Своевременно сданные контрольные точки (за 1 тест, контрольную работу, опрос)	3 - 5	
10.	Своевременное выполнение всех видов самостоятельной работы (за 1 СР)	3 - 5	
11.	Несвоевременное выполнение всех видов самостоятельной работы (за 1 СР)		- 1
12.	Своевременная отработка пропущенных учебных занятий	1	
III. Внеаудиторная работа по дисциплине /ПМ (max - 25 баллов)			
	Выступление с докладом на научно-практических конференциях:		
	- внутри колледжа	3	
	- городских;	5	
	- окружных, региональных, областных;	6	
	- межрегиональных;	8	
	- международных	10	
13.	Очное участие в конкурсах, олимпиадах по дисциплине		
	- внутри колледжа	3	
	- городских;	5	
	- окружных, региональных, областных;	6	
	- межрегиональных;	8	
	- международных	10	
14.	Участие в олимпиадах, конкурсах профессионального мастерства		
	- внутри колледжа	3	
	- городских;	5	

	- окружных, региональных, областных;	6	
	- межрегиональных;	8	
	- международных	10	
15.	Дистанционное участие в конференциях и конкурсах различного уровня	5	
16.	Публикации:		
	- на уровне округа, области, региона	6	
	- межрегиональные;	8	
	- международные	10	
17.	Написание и защита учебно-исследовательского проекта	10	
18.	Участие в подготовке и проведении научно-практических конференций, профессиональных конкурсов и т.п.	5	
19.	Изготовление учебных таблиц, фильмов, наглядных пособий, составление комплектов информационных материалов (объектов) по дисциплине / ПМ.	10	
	ИТОГО:	270	

Пересчет полученной суммы баллов по дисциплине в оценку

Сумма баллов	Оценка
204 - 165	«удовлетворительно»
244 - 205	«хорошо»
270 - 245	«отлично»
менее 164	«неудовлетворительно»

1.4. Материально-техническое обеспечение контрольно-измерительных занятий

Контрольно-оценочные мероприятия проводятся в учебном кабинете №212
Оборудование и технологическое оснащение рабочих мест учебного кабинета:

- рабочие столы;
- компьютер с программой компьютерного черчения и проектирования
- комплект учебно-методической документации;
- комплект практических заданий по темам;
- комплект моделей деталей;

– электронные учебники.

Технические средства обучения: компьютер, проектор.

2. Комплект материалов для контроля и оценки освоения умений и усвоения знаний

2.1 ЗАДАНИЕ ДЛЯ зачета

Список вопросов для подготовки

Тренировочные задачи (задания) для подготовки к зачету

Вопросы к зачету по инженерной графике

1. Как определяются размеры форматов листов оригиналов?
2. Какой формат принимается за основной?
3. На какие чертежи не распространяются градации масштабов, предусмотренных стандартом?
4. Что называется масштабом чертежа?
5. Какие основные масштабы уменьшения и увеличения установлены стандартом?
6. Как обозначаются масштабы в графе основной надписи и на поле чертежа?
7. Какие основные типы линий употребляются в черчении?
8. Что такое размер шрифта?
9. Как определяется высота строчных букв?
10. Какие основные размеры шрифта установлены ГОСТ?
11. Плоские кривые линии. Эллипс. Построение касательной и нормали в произвольной точке.
12. Плоские кривые линии. Парабола, циклоида, эвольвента, синусоида, эллипс. Построение касательной и нормали в произвольной точке.
13. Сопряжения и их элементы.
14. Изображение на какой плоскости проекций принимается на чертеже в качестве главного?
15. Что такое вид? Что следует использовать для уменьшения числа видов?
16. Что такое разрез? Что показывают на разрезе?
17. Что такое сечение?
18. Как отмечают виды, не находящиеся в непосредственной проекционной связи, как указывают и обозначают направление проецирования?
19. В каких случаях применяют дополнительные виды?
20. Как разделяют разрезы в зависимости от числа секущих плоскостей?
21. Какие разрезы называются фронтальными и профильными?
22. Какой разрез называют ступенчатым, а какой - ломаным?
23. Как указывается на чертежах положение секущей плоскости?
24. Какой разрез называется местным?
25. В каких случаях допускается соединять часть вида и часть разреза?

26. В каких случаях строят не сечение, а разрез?
27. Что называется выносным элементом, и какие подробности о деталях он может содержать?
28. Как отмечают на виде разрезе или сечении место применения выносного элемента?
29. Где располагают на чертеже выносной элемент?
30. В каких случаях изображается условно или не показывается плавный переход от одной поверхности к другой?
31. Какова особенность вычерчивания в продольных разрезах: винтов, заклепок, шпонок, не пустотелых валов, шпинделей и т.п.?
32. Какие предметы допускается вычерчивать с разрывом?
33. Какое общее количество размеров должно быть на чертеже?
34. Какие размеры называются справочными и как они обозначаются?
35. Какие размеры не допускается повторять на разных изображениях?
36. Как допускается изображать конусность и уклон?
37. Как наносят размеры криволинейного контура?
38. Как и в каких случаях проводят размерные линии с обрывом?
39. Как указывают размеры толщины или длины детали, изображенной в одной проекции?
40. Как изображают резьбу на стержне: при изображении на плоскости, параллельной оси стержня и на видах, полученных на плоскости, перпендикулярной оси стержня?
41. Как изображают резьбу в отверстии? Как изображают резьбу на разрезах, параллельных оси отверстия и на плоскость, перпендикулярную оси отверстия?
42. Как изображают шлицы на головках крепежных деталей?
43. Какие детали на сборочном чертеже показываются не рассеченными?
44. Виды изделий. Деталь. Сборочная единица. Комплекс. Комплект. Дайте определение каждому.
45. Стадии разработки конструкторской документации. Виды конструкторских документов, разрабатываемых на каждой стадии.
46. Содержание чертежа общего вида и на каких стадиях проектирования он разрабатывается.
47. Содержание и назначение сборочного чертежа.
48. Какие размеры проставляют на сборочном чертеже?
49. Как на сборочном чертеже изображаются уклоны, конусности отверстия и т.п. размерами менее 2 мм?
50. Содержание рабочего чертежа. Стадия разработки.
51. Что такое спецификация изделия? Основные разделы спецификации в порядке их заполнения.
52. Виды соединений. Какие соединения относятся к разъемным?
53. Какие соединения относятся к неразъемным?
54. Какова структура обозначения швов сварных соединений?
55. В чем отличие изображений видимого и невидимого сварного шва?
56. В чем отличие обозначения клевого соединения от соединения пайкой?

57. Резьба. Определение. Основные параметры. Виды поверхностей, ограничивающих резьбу.
58. Классификация резьб.
59. Изображение и обозначение резьб на чертежах.
60. Особенности обозначения многозаходных резьб.
61. Порядок расчета дины болта, шпильки и винта в соответствующих соединениях.
62. Упрощенные и условные изображения резьбовых соединений.
63. Что такое чертеж детали?
64. Что такое эскиз детали?
65. Последовательность составления эскиза детали.
66. Порядок чтения чертежа общего вида.
67. Порядок составления эскиза при детализации по чертежу общего вида.
68. Условности и упрощения при выполнении сборочных чертежей.
69. Назначение САПР. Уровни САПР и их возможности.
70. Виды соединений. Какие соединения относятся к разъемным?
71. Какие соединения относятся к неразъемным?
72. Какова структура обозначения швов сварных соединений?
73. В чем отличие изображений видимого и невидимого сварного шва?

ЗАДАЧИ ПО ИНЖЕНЕРНОЙ ГРАФИКЕ

Задание 1.

Вопрос 1. Какими размерами определяются форматы чертежных листов?

- 1) Любыми произвольными размерами, по которым вырезан лист;
- 2) Обрамляющей линией (рамкой формата), выполняемой сплошной основной линией;
- 3) Размерами листа по длине;
- 4) Размерами внешней рамки, выполняемой сплошной тонкой линией;
- 5) Размерами листа по высоте.

Вопрос 2. Где располагается основная надпись чертежа по форме 1 на чертежном листе?

- 1) Посередине чертежного листа;
- 2) В левом верхнем углу, примыкая к рамке формата;
- 3) В правом нижнем углу;
- 4) В левом нижнем углу;
- 5) В правом нижнем углу, примыкая к рамке формата.

Вопрос 3. Толщина сплошной основной линии в зависимости от сплошности изображения и формата чертежа лежит в следующих пределах?

- 1) 0,5 2,0 мм.;
- 2) 1,0 1,5 мм.;
- 3) 0,5 1,4 мм.;
- 4) 0,5 1,0 мм.;

5) 0,5 1,5 мм.

Вопрос 4. По отношению к толщине основной линии толщина разомкнутой линии составляет?

- 1) (0,5 1,0) S;
- 2) (1,0 2,0) S;
- 3) (1,0 2,5) S;
- 4) (0,8 1,5) S;
- 5) (1,0 1,5) S.

Вопрос 5. Масштабы изображений на чертежах должны выбираться из следующего ряда?

- 1) 1:1; 1:2; 1:2,5; 1:3; 1:4; 1:5; 2:1; 2,5:1; 3:1; 4:1; 5:1.....
- 2) 1:1; 1:2; 1:2,5; 1:4; 1:5; 2:1; 2,5:1; 4:1; 5:1.....
- 3) 1:1; 1:2; 1:4; 1:5; 2:1; 4:1; 5:1.....
- 4) 1:2; 1:2,5; 1:4; 1:5; 2:1; 2,5:1; 4:1; 5:1.....
- 5) 1:1; 1:2,5; 1:5; 2:1; 2,5:1; 5:1.....

Задание 2.

Вопрос 1. Размер шрифта h определяется следующими элементами?

- 1) Высотой строчных букв;
- 2) Высотой прописных букв в миллиметрах;
- 3) Толщиной линии шрифта;
- 4) Шириной прописной буквы А, в миллиметрах;
- 5) Расстоянием между буквами.

Вопрос 2. ГОСТ устанавливает следующие размеры шрифтов в миллиметрах?

- 1) 1; 2; 3; 4; 5; 6; 7; 8; 9; 10.....
- 2) 1,5; 2,5; 3,5; 4,5; 5,5; 6,5.....
- 3) 2; 4; 6; 8; 10; 12.....
- 4) 1,8; 2,5; 3,5; 5; 7; 10; 14; 20.....
- 5) 1; 3; 5; 7; 9; 11; 13.....

Вопрос 3. Толщина линии шрифта d зависит от?

- 1) От толщины сплошной основной линии S;
- 2) От высоты строчных букв шрифта;
- 3) От типа и высоты шрифта;
- 4) От угла наклона шрифта;
- 5) Не зависит ни от каких параметров и выполняется произвольно.

Вопрос 4. В соответствии с ГОСТ 2.304-81 шрифты типа А и Б выполняются?

- 1) Без наклона и с наклоном 60°;
- 2) Без наклона и с наклоном около 75°;
- 3) Только без наклона;
- 4) Без наклона и с наклоном около 115°;

5) Только с наклоном около 75°.

Вопрос 5. Какой может быть ширина букв и цифр стандартных шрифтов?

- 1) Ширина букв и цифр одинакова;
- 2) Ширина всех букв одинакова, а всех цифр другая;
- 3) Ширина абсолютно всех букв и цифр произвольная;
- 4) Ширина букв и цифр определяются высотой строчных букв;
- 5) Ширина букв и цифр определяются размером шрифта.

Задание 3.

Вопрос 1. В каких единицах измерения указываются линейные и угловые размеры на чертежах?

- 1) В сотых долях метра и градусах;
- 2) В микронах и секундах;
- 3) В метрах, минутах и секундах;
- 4) В дюймах, градусах и минутах;
- 5) В миллиметрах, градусах минутах и секундах.

Вопрос 2. При нанесении размера дуги окружности (части окружности) используют следующий знак?

- 1) R;
- 2) R;
- 3) R/2;
- 4) Нет специального обозначения;
- 5) Сфера.

Вопрос 3. На (Рис. СЗ-1) показаны шрифты правильных и ошибочных расположений размерных линий. Определите, под каким номером обозначен правильный чертеж?

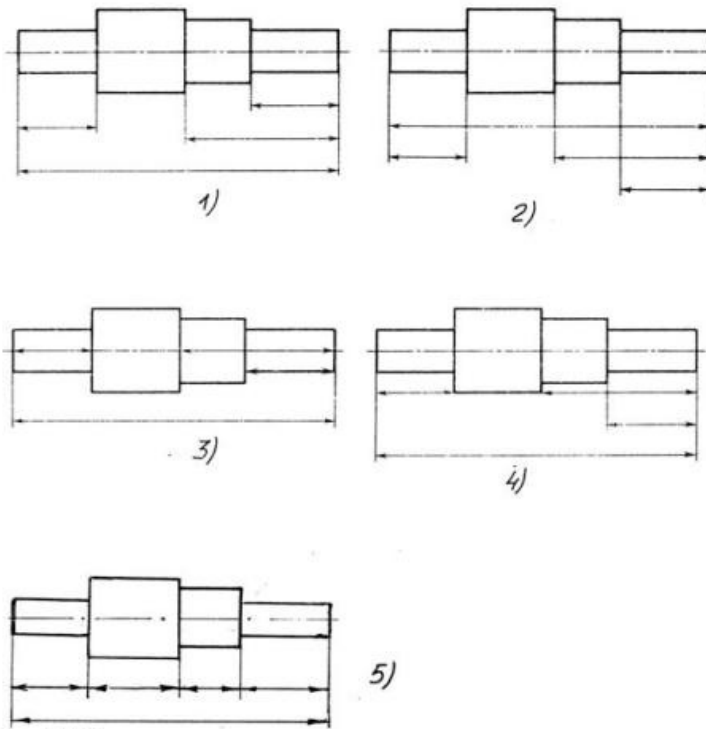


Рис. С3-1.

- 1) Правильный вариант ответа №1;
- 2) Правильный вариант ответа №2;
- 3) Правильный вариант ответа №3;
- 4) Правильный вариант ответа №4;
- 5) Правильный вариант ответа №5;

Вопрос 4. Определите, на каком чертеже правильно записаны размерные числа (см. Рис. С3-2)?

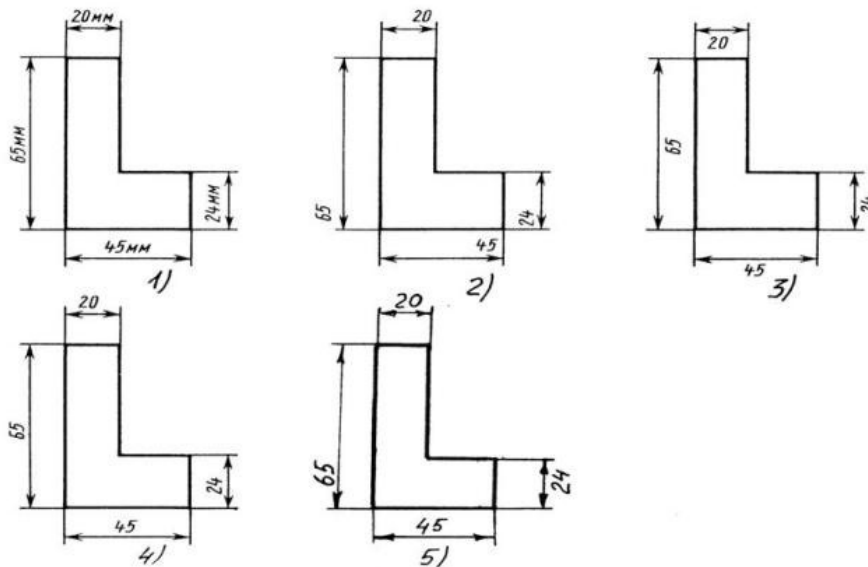


Рис. С3-2.

- 1) Правильный вариант ответа №1;
- 2) Правильный вариант ответа №2;
- 3) Правильный вариант ответа №3;

- 4) Правильный вариант ответа №4;
- 5) Правильный вариант ответа №5;

Вопрос 5. На каком чертеже правильно нанесены величины диаметра и квадрата (см. Рис. СЗ-3)?

- 1) Правильный вариант ответа №1;
- 2) Правильный вариант ответа №2;
- 3) Правильный вариант ответа №3;
- 4) Правильный вариант ответа №4;
- 5) Правильный вариант ответа №5;

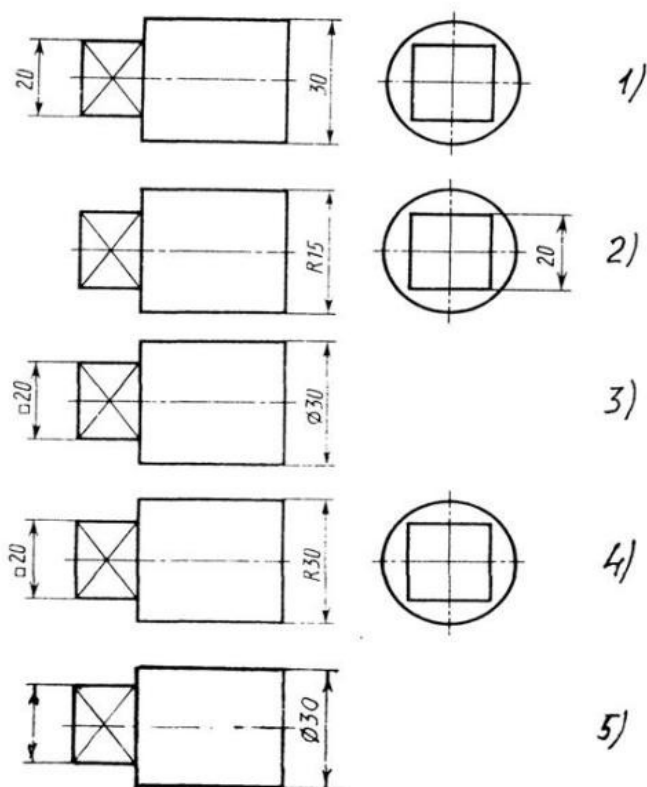


Рис. СЗ-3

Задание 4.

Вопрос 1. Какими линиями выполняют вспомогательные построения при выполнении элементов геометрических построений?

- 1) Сплошными основными;
- 2) Сплошными тонкими;
- 3) Штрих-пунктирными;
- 4) Штриховыми;
- 5) Сплошной волнистой.

Вопрос 2. На каком расстоянии от контура рекомендуется проводить размерные линии?

- 1) Не более 10 мм;
- 2) От 7 до 10 мм;

- 3) От 6 до 10 мм;
- 4) От 1 до 5 мм;
- 5) Не более 15 мм.

Вопрос 3. На каком расстоянии друг от друга должны быть параллельные размерные линии?

- 1) Не более 7 мм;
- 2) Не более 10 мм;
- 3) От 7 до 10 мм;
- 4) От 6 до 10 мм;
- 5) Не менее 17 мм.

Вопрос 4. Чему должен быть равен раствор циркуля при делении окружности на шесть равных частей?

- 1) Диаметру окружности.
- 2) Половине радиуса окружности.
- 3) Двум радиусам окружности.
- 4) Двум диаметрам окружности.
- 5) Радиусу окружности.

Вопрос 5. В каком случае показано правильное расположение центровых линий окружностей (см. Рис. СЗ-4)?

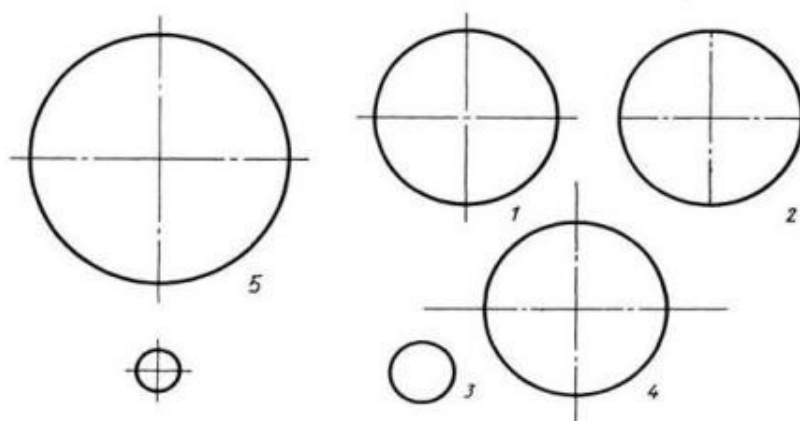


Рис. СЗ-4.

- 1) Правильный вариант ответа №1;
- 2) Правильный вариант ответа №2;
- 3) Правильный вариант ответа №3;
- 4) Правильный вариант ответа №4;
- 5) Правильный вариант ответа №5;

Задание 5.

Вопрос 1. В каком месте должна находиться точка сопряжения дуги с дугой?

- 1) В центре дуги окружности большего радиуса;
- 2) На линии, соединяющей центры сопряжений дуг;
- 3) В центре дуги окружности меньшего радиуса;
- 4) В любой точке дуги окружности большего радиуса;
- 5) Это место определить невозможно.

Вопрос 2. Уклон 1:5 означает, что длина одного катета прямоугольного треугольника равна?

- 1) Одной единице, а другого четыре;
- 2) Пяти единицам, а другого тоже пяти;
- 3) Пяти единицам, а другого десяти;
- 4) Двум единицам, а другого восьми;
- 5) Одной единице, а другого пяти.

Вопрос 3. Какие проставляются размеры при выполнении чертежа в масштабе, отличном от 1:1?

- 1) Те размеры, которые имеет изображение на чертеже;
- 2) Увеличение в два раза;
- 3) Уменьшение в четыре раза;
- 4) Независимо от масштаба изображения ставятся реальные размеры изделия;
- 5) Размеры должны быть увеличены или уменьшены в соответствии с масштабом.

Вопрос 4. Конусность 1:4 означает, что?

- 1) Диаметр основания составляет 1 часть, а высота 4 части;
- 2) Диаметр основания составляет 4 части, а высота 1 часть;
- 3) Диаметр основания составляет 1 часть, а высота 5 частей;
- 4) Соотношение величин диаметра и высоты конуса одинакова;
- 5) Диаметр составляет третью часть от высоты конуса.

Вопрос 5. На каком чертеже (см. Рис. СЗ-5) рационально нанесены величины радиусов, диаметров, толщины деталей и размеры, определяющие расположение отверстий?

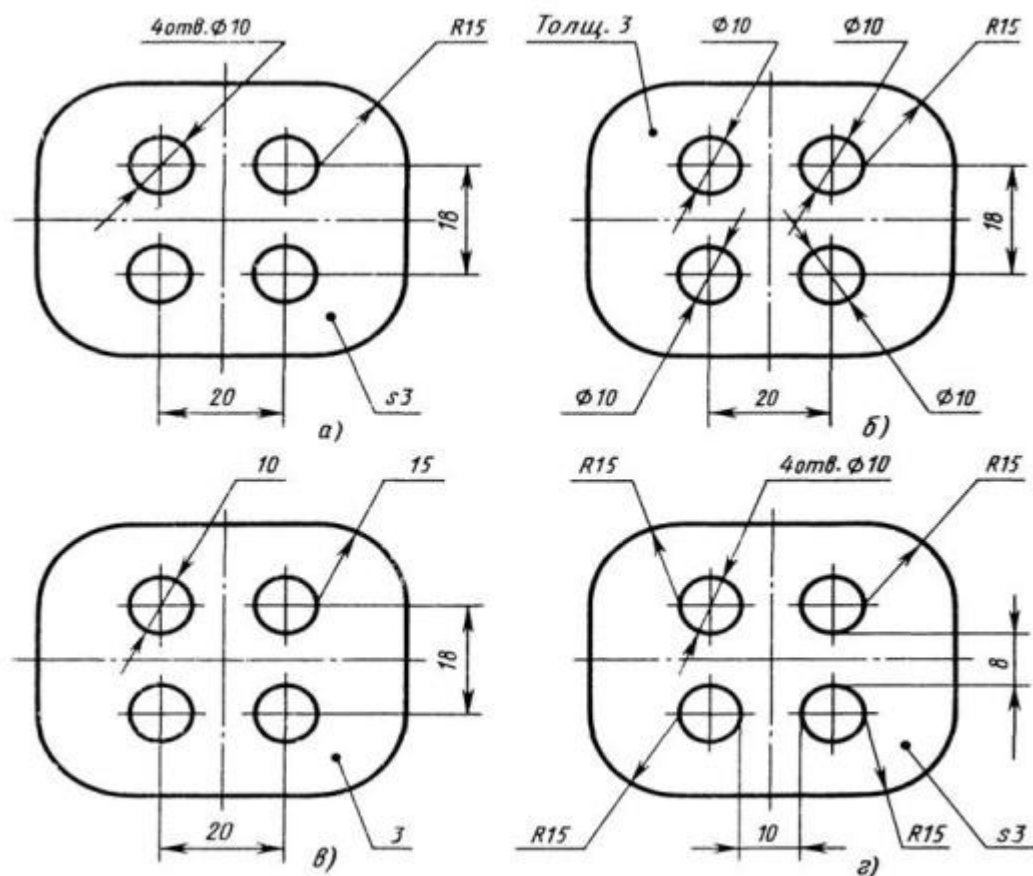


Рис. СЗ-5.

- 1) На первом чертеже;
- 2) На втором чертеже;
- 3) На третьем чертеже;
- 4) На четвертом чертеже;
- 5) Нет правильного ответа.

Задание 6.

Вопрос 1. Точка может быть однозначно определена в пространстве, если она спроецирована?

- 1) На две плоскости проекций;
- 2) На одну плоскость проекций;
- 3) На ось x ;
- 4) На три плоскости проекций;
- 5) На плоскость проекций V .

Вопрос 2. Как расположена в пространстве горизонтальная плоскость проекций? Координатного треугольника?

- 1) Параллельно оси x ;
- 2) Перпендикулярно оси y ;
- 3) Параллельно угловой линии горизонта;
- 4) Параллельно плоскости V ;
- 5) Параллельно оси z .

Вопрос 3. Профильная плоскость проекций для координатного трехгранника вводится?

- 1) Параллельно плоскости V;
- 2) Параллельно плоскости H;
- 3) Перпендикулярно оси y;
- 4) Перпендикулярно оси z;
- 5) Перпендикулярно плоскостям H и V.

Вопрос 4. Трехгранный комплексный чертеж образуется?

- 1) Поворотом плоскости H вверх, а плоскости W вправо;
- 2) Поворотом плоскости H вниз, а плоскости W влево;
- 3) Поворотом плоскости H вниз, а плоскости W вправо на 90°;
- 4) Поворотом плоскости H вниз, а плоскости W вправо на 180°;
- 5) Поворотом только плоскости W вправо на 90°.

Вопрос 5. Линия связи на трехкартинном комплексном чертеже, соединяющая горизонтальную и фронтальную проекции точек, проходит?

- 1) Параллельно оси x;
- 2) Под углом 60° к оси z;
- 3) Под углом 75° к оси x;
- 4) Под углом 90° к оси x;
- 5) Под углом 90° к оси y.

Задание 7.

Вопрос 1. Отрезок общего положения в пространстве расположен?

- 1) Перпендикулярно оси z;
- 2) Под углом 30° к оси z, 60° к оси y;
- 3) Параллельно оси x;
- 4) Под углом 90° к плоскости W;
- 5) Под углом 60° к плоскости H.

Вопрос 2. Фронтально-проецирующая прямая - это прямая, которая?

- 1) Параллельно оси x;
- 2) Перпендикулярно плоскости V;
- 3) Перпендикулярно плоскости H;
- 4) Параллельно оси z;
- 5) Параллельно плоскости V.

Вопрос 3. Горизонтальная прямая или сокращенно горизонталь расположена?

- 1) Параллельно плоскости H;
- 2) Перпендикулярно плоскости H;

- 3) Перпендикулярно оси x ;
- 4) Параллельно плоскости V ;
- 5) Перпендикулярно плоскости W .

Вопрос 4. Сколько Вы знаете вариантов задания проекций плоскостей на комплексном чертеже?

- 1) Два;
- 2) Три и четыре дополнительных;
- 3) Семь;
- 4) Пять;
- 5) Шесть основных и три дополнительных.

Вопрос 5. Может ли фронтально-проецирующая плоскость одновременно быть профильной плоскостью?

- 1) Нет, никогда;
- 2) Может, если она наклонена к плоскости W под углом 60° ;
- 3) Может, если она наклонена к плоскости H под углом 75° ;
- 4) Может, если она параллельна профильной плоскости проекций W ;
- 5) Является профильной плоскостью в любом случае.

Задание 8.

Вопрос 1. Для построения проекции точки в прямоугольной приведенной изометрии пользуются следующим правилом?

- 1) Откладывают по всем осям отрезки, равные натуральным величинам координат;
- 2) По осям x и z откладывают натуральные величины координат, но y - в 3 раза меньше;
- 3) По осям x и y откладывают натуральные величины координат, но z - в 2 раза меньше;
- 4) По осям x и z откладывают натуральные величины координат, но y - в 2 раза меньше;
- 5) По x , y и z откладывают величины, в 2 раза меньше, чем натуральная величина.

Вопрос 2. В прямоугольной приведенной изометрии проекции окружности в плоскостях, параллельных трем плоскостям координатного трехгранника будут?

- 1) Все три разные;
- 2) В плоскостях $хоу$ и $уоz$ одинаковые, а в плоскости $хоз$ – другая;

- 3) Все три одинаковые;
- 4) В плоскостях $хоу$ и $хоз$ одинаковые, а в плоскости $уоз$ – другая;
- 5) В плоскостях $хоу$ и $уоз$ одинаковые, а в плоскости $хоз$ - в 2 раза меньше.

Вопрос 3. Как располагаются координатные оси в прямоугольной изометрии относительно друг друга?

- 1) Произвольно все три оси;
- 2) x и y под углами 180° , а z под углами 90° к ним;
- 3) x и y под углами 90° , а z под углами 135° к ним;
- 4) Под углами 120° друг к другу;
- 5) x и y под углом 120° друг к другу, а z под углом 90° к оси x .

Вопрос 4. Как располагаются оси в прямоугольной диметрии по отношению к горизонтальной прямой?

- 1) z вертикально; x и y под углами 30° ;
- 2) z вертикально; x под углом $\approx 70^\circ$, ось y под углом $\approx 41^\circ$.
- 3) x вертикально; z под углом $\approx 70^\circ$, ось y под углом $\approx 41^\circ$.
- 4) z вертикально; x и y горизонтально, соответственно, влево и вправо;
- 5) x вертикально; z и y горизонтально, соответственно, влево и вправо.

Вопрос 5. Каковы приведенные коэффициенты искажения по осям в приведенной прямоугольной диметрии?

- 1) По осям x и y по $0,94$ по оси z - $0,47$;
- 2) По осям x и y по $0,47$ по оси z - $0,94$;
- 3) По осям x и z по $0,94$ по оси y - $0,47$;
- 4) По осям x и z по $1,0$ по оси y - $0,5$;
- 5) По осям x и y по $0,5$ по оси z - $1,0$.

Задание 9.

Вопрос 1. Для прямой призмы число боковых сторон будет равно?

- 1) Пяти;
- 2) Восьми;
- 3) Числу сторон многоугольника в основании плюс 2;
- 4) Числу сторон многоугольника в основании;
- 5) Площади многоугольника в основании.

Вопрос 2. Чему равно расстояние между центрами эллипсов (по высоте) для прямоугольной изометрии прямого кругового цилиндра?

- 1) Диаметру окружности основания цилиндра;
- 2) Высоте образующей цилиндра;
- 3) Радиусу окружности основания цилиндра;
- 4) Диаметру окружности, увеличенному в $1,22$ раза;
- 5) Диаметру окружности, уменьшенному в $1,22$ раза.

Вопрос 3. Боковые стороны пирамиды представляют собой?

- 1) Четырехугольники;

- 2) Пятиугольники;
- 3) Квадраты;
- 4) Параллелограммы;
- 5) Треугольники.

Вопрос 4. Для определения недостающей проекции точки, принадлежащей поверхности конуса, через известную проекцию точки можно провести?

- 1) Образующую или окружность, параллельную основанию;
- 2) Две образующих;
- 3) Две окружности, параллельные основанию;
- 4) Образующую или эллипс;
- 5) Окружность или параболу.

Вопрос 5. Высота конуса (расстояние от центра эллипса до вершины) в прямоугольной изометрии равна?

- 1) Диаметру окружности, увеличенному в 1,22 раза;
- 2) Диаметру окружности;
- 3) Высоте конуса (расстоянию от центра окружности до вершины) на комплексном чертеже;
- 4) Длине образующей;
- 5) Длине образующей, увеличенной в 1,22 раза.

Задание 10.

Вопрос 1. Какое максимальное количество видов может быть на чертеже детали?

- 1) Две;
- 2) Четыре;
- 3) Три;
- 4) Один;
- 5) Шесть.

Вопрос 2. Сколько видов должно содержать изображение какой-либо конкретной детали?

- 1) Один;
- 2) Три;
- 3) Минимальное, но достаточное для однозначного уяснения конфигурации;
- 4) Максимальное число видов;
- 5) Шесть.

Вопрос 3. Какой вид называется дополнительным?

- 1) Вид справа;

- 2) Вид снизу;
- 3) Вид сзади;
- 4) Полученный проецированием на плоскость, не параллельную ни одной из плоскостей проекций;
- 5) Полученный проецированием на плоскость W .

Вопрос 4. Что называется местным видом?

- 1) Изображение только ограниченного места детали;
- 2) Изображение детали на дополнительную плоскость;
- 3) Изображение детали на плоскость W ;
- 4) Вид справа детали;
- 5) Вид снизу.

Вопрос 5. Какой вид детали и на какую плоскость проекций называется ее главным видом?

- 1) Вид сверху, на плоскость H ;
- 2) Вид спереди, на плоскость V ;
- 3) Вид слева, на плоскость W ;
- 4) Вид сзади, на плоскость H ;
- 5) Дополнительный вид, на дополнительную плоскость.

Задание 11.

Вопрос 1. Даны два вида деталей: главный вид и вид слева. Определите вид сверху из предложенных вариантов.

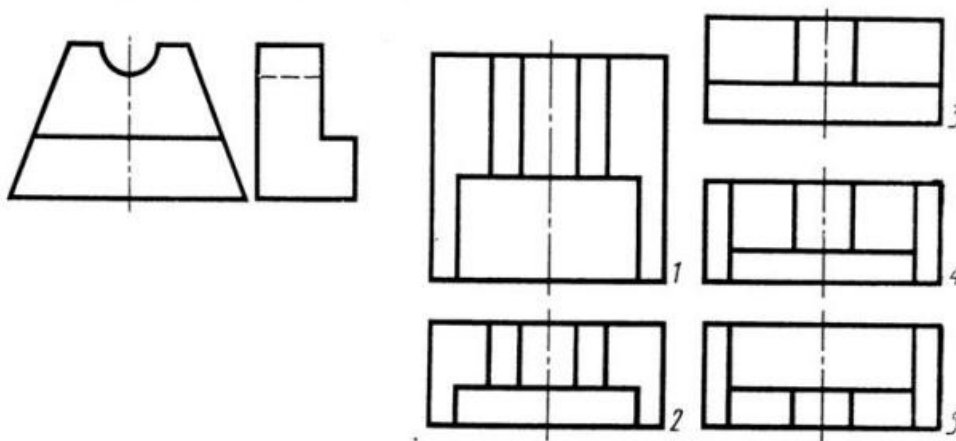


Рис. С3-6

- 1) Правильный вариант ответа №1;
- 2) Правильный вариант ответа №2;
- 3) Правильный вариант ответа №3;

- 4) Правильный вариант ответа №4;
- 5) Правильный вариант ответа №5.

Вопрос 2. Определить вид слева детали по заданным главному виду и виду сверху. (см. Рис. С3-7)

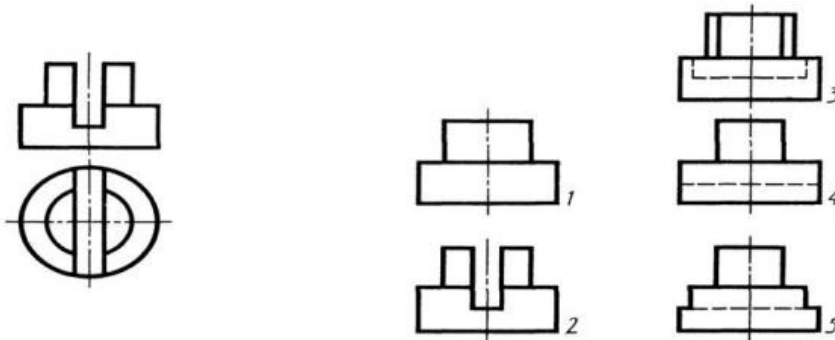


Рис. С3-7.

- 1) Правильный вариант ответа №1;
- 2) Правильный вариант ответа №2;
- 3) Правильный вариант ответа №3;
- 4) Правильный вариант ответа №4;
- 5) Правильный вариант ответа №5.

Вопрос 3. По главному виду и виду сверху определить, какой из пяти видов будет для этой детали видом слева (Рис. С3-8).

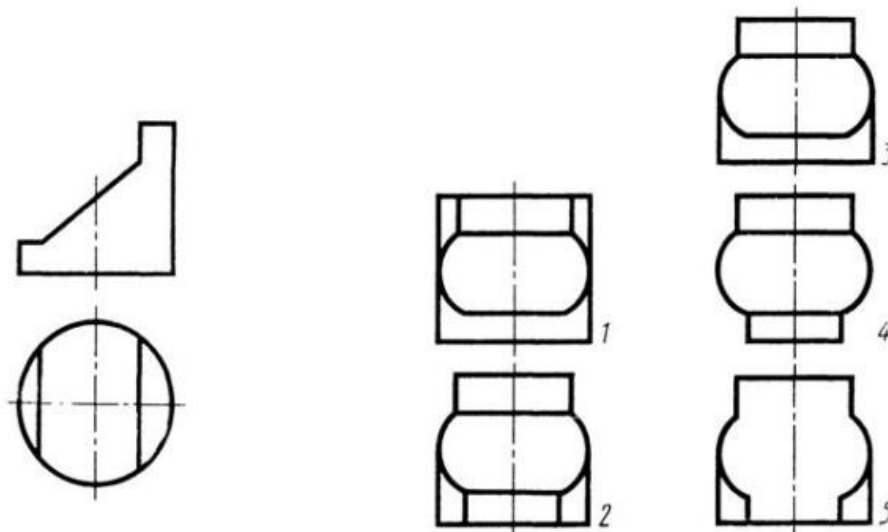


Рис. С3-8.

- 1) Правильный вариант ответа №1;
- 2) Правильный вариант ответа №2;
- 3) Правильный вариант ответа №3;

- 4) Правильный вариант ответа №4;
- 5) Правильный вариант ответа №5;

Вопрос 4. Когда на чертеже делают надписи названий основных видов?

- 1) Всегда делают;
- 2) Когда виды сверху, слева, справа, снизу, сзади смещены относительно главного изображения;
- 3) Никогда не делают;
- 4) Когда нужно показать дополнительный вид;
- 5) Только когда нужно показать вид сверху.

Вопрос 5. Возможно ли выполнение дополнительных видов повёрнутыми?

- 1) Нет, ни в коем случае;
- 2) Обязательно, всегда выполняются повёрнутыми;
- 3) Возможно, но дополнительный вид при этом никак не выделяется и не обозначается;
- 4) Возможно, но с сохранением положения, принятого для данного предмета на главном виде и с добавлением слова «Повёрнуто»;
- 5) Возможно, но дополнительный вид выполняется только в проекционной связи по отношению к главному.

Задание 12.

Вопрос 1. Разрез получается при мысленном рассечении предмета секущей плоскостью. При этом на разрезе показывается то, что:

- 1) Получится только в секущей плоскости;
- 2) Находится перед секущей плоскостью;
- 3) Находится за секущей плоскостью;
- 4) Находится под секущей плоскостью;
- 5) Находится в секущей плоскости, и что расположено за ней.

Вопрос 2. Для какой цели применяются разрезы?

- 1) Показать внутренние очертания и форму изображаемых предметов;
- 2) Показать внешнюю конфигурацию и форму изображаемых предметов;
- 3) Применяются при выполнении чертежей любых деталей;
- 4) Применяются только по желанию конструктора;
- 5) Чтобы выделить главный вид по отношению к остальным.

Вопрос 3. Какие разрезы называются горизонтальными?

- 1) Когда секущая плоскость перпендикулярна горизонтальной плоскости проекций;
- 2) Когда секущая плоскость параллельна горизонтальной плоскости проекций;
- 3) Когда секущая плоскость перпендикулярна оси X;

- 4) Когда секущая плоскость параллельна фронтальной плоскости проекций;
- 5) Когда секущая плоскость параллельна профильной плоскости проекций.

Вопрос 4. Вертикальными называются разрезы, получающиеся, когда секущая плоскость:

- 1) Перпендикулярна оси Z;
- 2) Перпендикулярна фронтальной плоскости проекций;
- 3) Перпендикулярна горизонтальной плоскости проекций;
- 4) Параллельна горизонтальной плоскости проекций;
- 5) Параллельна направлению стрелки дополнительного вида.

Вопрос 5. Какие вы знаете вертикальные разрезы?

- 1) Горизонтальный и фронтальный;
- 2) Горизонтальный и профильный;
- 3) Горизонтальный и наклонный;
- 4) Наклонный и фронтальный;
- 5) Фронтальный и профильный.

Задание 13.

Вопрос 1. Простой разрез получается при числе секущих плоскостей, равных:

- 1) Одной;
- 2) Двум;
- 3) Двум и более;
- 4) Трём;
- 5) Трём и более.

Вопрос 2. Сложный разрез получается при сечении предмета:

- 1) Тремя секущими плоскостями;
- 2) Двумя и более секущими плоскостями;
- 3) Плоскостью, параллельной горизонтальной плоскости проекций;
- 4) Одной секущей плоскостью;
- 5) Плоскостями, параллельными фронтальной плоскости проекций.

Вопрос 3. Сложные разрезы делятся на ступенчатые и ломаные. При этом ступенчатые - это разрезы, секущие плоскости которых располагаются:

- 1) Параллельно друг другу;
- 2) Перпендикулярно друг другу;
- 3) Под углом 75 градусов друг к другу;
- 4) Под углом 30 градусов друг к другу;
- 5) Под любым, отличным от 90 градусов углом друг к другу.

Вопрос 4. Всегда ли нужно обозначать простые разрезы линией сечения?

- 1) Да, обязательно;
- 2) Никогда не нужно обозначать;

- 3) Не нужно, когда секущая плоскость совпадает с плоскостью симметрии детали;
- 4) Не нужно, когда секущая плоскость параллельна горизонтальной плоскости проекций;
- 5) Не нужно, когда секущая плоскость параллельна оси Z.

Вопрос 5. В каком случае можно соединять половину вида с половиной соответствующего разреза?

- 1) Всегда можно;
- 2) Никогда нельзя;
- 3) Если деталь несимметрична;
- 4) Если вид и разрез являются симметричными фигурами;
- 5) Если вид и разрез являются несимметричными фигурами.

Задание 14.

Вопрос 1. Если вид и разрез являются симметричными фигурами, то какая линия служит осью симметрии, разделяющей их половины?

- 1) Сплошная тонкая;
- 2) Сплошная основная;
- 3) Штриховая;
- 4) Разомкнутая;
- 5) Штрих-пунктирная тонкая.

Вопрос 2. Как изображаются на разрезе элементы тонких стенок типа рёбер жесткости, зубчатых колёс?

- 1) Никак на разрезе не выделяются;
- 2) Выделяются и штрихуются полностью;
- 3) Показываются рассечёнными, но не штрихуются;
- 4) Показываются рассечёнными, но штрихуются в другом направлении по отношению к основной штриховке разреза;
- 5) Показываются рассечёнными и штрихуются под углом 60 градусов к горизонту.

Вопрос 3. Какого типа линией с перпендикулярной ей стрелкой обозначаются разрезы (тип линий сечения).

- 1) Сплошной тонкой линией;
- 2) Сплошной основной линией;
- 3) Волнистой линией;
- 4) Штрих-пунктирной тонкой линией;
- 5) Разомкнутой линией.

Вопрос 4. Как проводят секущие плоскости при образовании разрезов на аксонометрических изображениях, например, при выполнении выреза четверти детали.

- 1) Произвольно, как пожелает конструктор;

- 2) только параллельно координатным плоскостям;
- 3) Только перпендикулярно оси Z;
- 4) Только параллельно плоскости XOY;
- 5) Только параллельно плоскости XOZ;

Вопрос 5. Как направлены линии штриховки разрезов на аксонометрических проекциях?

- 1) Параллельно соответствующим осям X, Y и Z;
- 2) Перпендикулярно осям X, Y и Z;
- 3) Параллельно осям X и Y;
- 4) Параллельно одной из диагоналей квадратов, лежащих в соответствующих координатных плоскостях, стороны которых параллельны аксонометрическим осям.
- 5) Параллельно одной из диагоналей квадратов, лежащих в соответствующих координатных плоскостях, стороны которых расположены произвольно по отношению к аксонометрическим осям.

Задание 15.

Вопрос 1. На каком из пяти чертежей выполнен правильно разрез детали, показанной на изображении (см. Рис. С3-9).

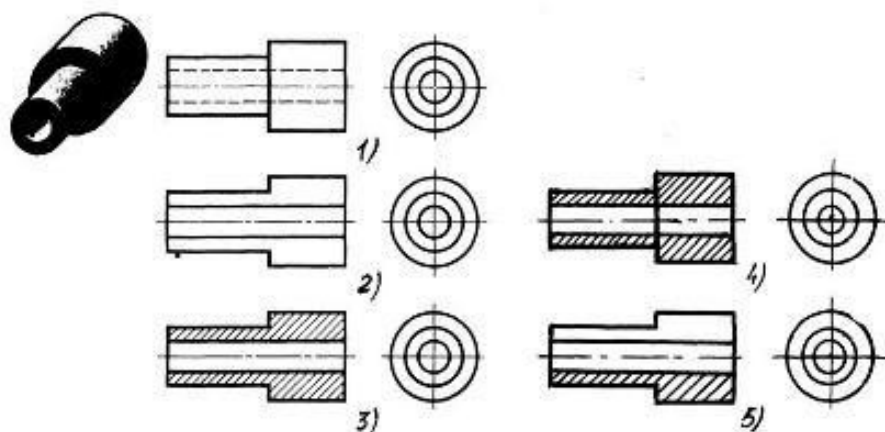
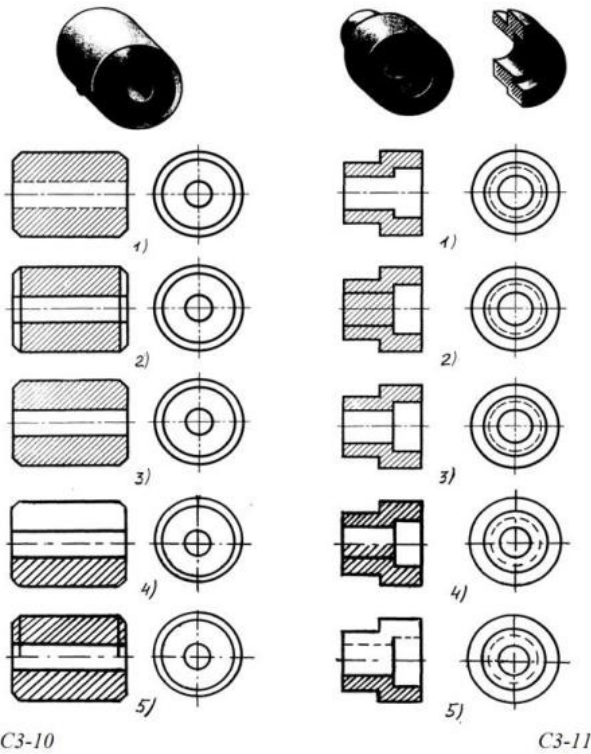


Рис. С3-9.

- 1) Правильный вариант ответа №1;
- 2) Правильный вариант ответа №2;
- 3) Правильный вариант ответа №3;
- 4) Правильный вариант ответа №4;
- 5) Правильный вариант ответа №5;

Вопрос 2. На каком из пяти чертежей втулки показан правильно её разрез (см. Рис. С3-10)?

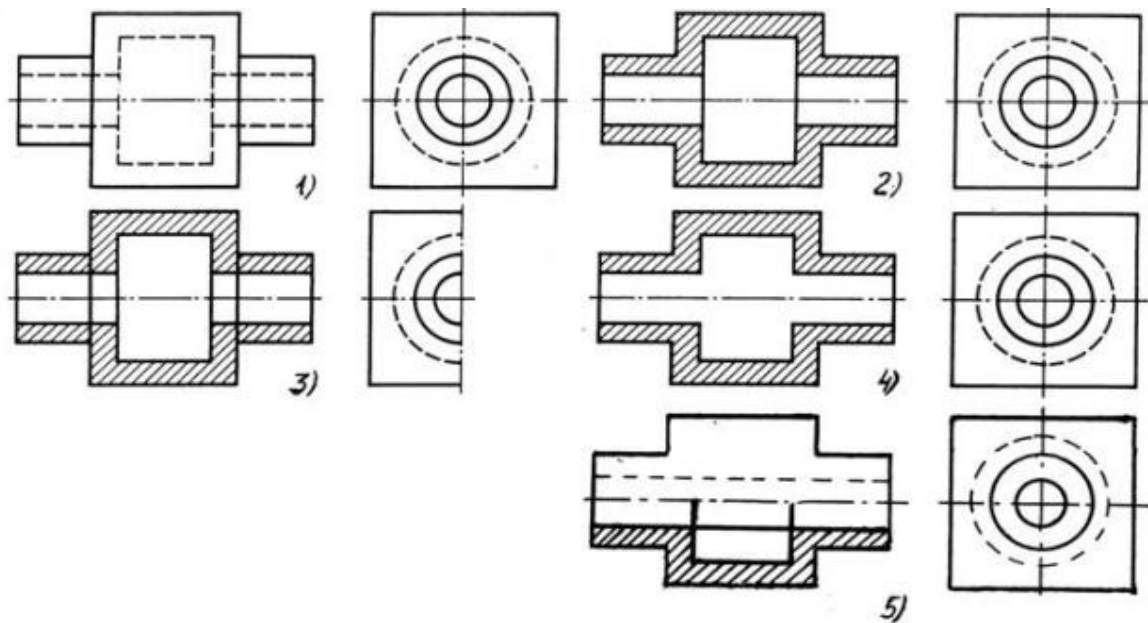


- 1) На первом чертеже;
- 2) На втором чертеже;
- 3) На третьем чертеже;
- 4) На четвертом чертеже;
- 5) На пятом чертеже

Вопрос 3. На каком из пяти чертежей выполнен правильно разрез детали, показанной на изображении (рис.С3-11).?

- 1) На первом чертеже;
- 2) На втором чертеже;
- 3) На третьем чертеже;
- 4) На четвертом чертеже
- 5) На пятом чертеже;

Вопрос 4. На каком изображении детали правильно выполнен её разрез (рис. С3-12)?



C3-12

- 1) На первом изображении;
- 2) На втором изображении;
- 3) На третьем изображении;
- 4) На четвертом изображении;
- 5) На пятом изображении.

Вопрос 5. Под каким углом осуществляется штриховка металлов (графическое изображение металлов) в разрезах?

- 1) Под углом 30 градусов к линии контура изображения, или к его оси или к линии рамки чертежа;
- 2) Под углом 60 градусов к линии контура изображения, или к его оси или к линии рамки чертежа;
- 3) Под любыми произвольными углами;
- 4) Под углом 45 градусов к линии контура изображения, или к его оси или к линии рамки чертежа;
- 5) Под углом 75 градусов к линии основной надписи чертежа;

Задание 16.

Вопрос 1. Местный разрез служит для уяснения устройства предмета в отдельном узко ограниченном месте. Граница местного разреза выделяется на виде:

- 1) Сплошной волнистой линией;
- 2) Сплошной тонкой линией;
- 3) Штрих-пунктирной линией;
- 4) Сплошной основной линией;
- 5) Штриховой линией.

Вопрос 2. При изображении предмета, в имеющих постоянные или закономерно изменяющиеся сечения, допускается изображать их с разрывами. В качестве линии обрыва используется:

- 1) Сплошная тонкая линия;
- 2) Сплошная основная линия;
- 3) Штрих-пунктирная линия;
- 4) Штриховая линия;
- 5) Сплошная волнистая или линия с изломами.

Вопрос 3. В каком случае правильно выполнено совмещение вида с разрезом (см. Рис. С3-13)?

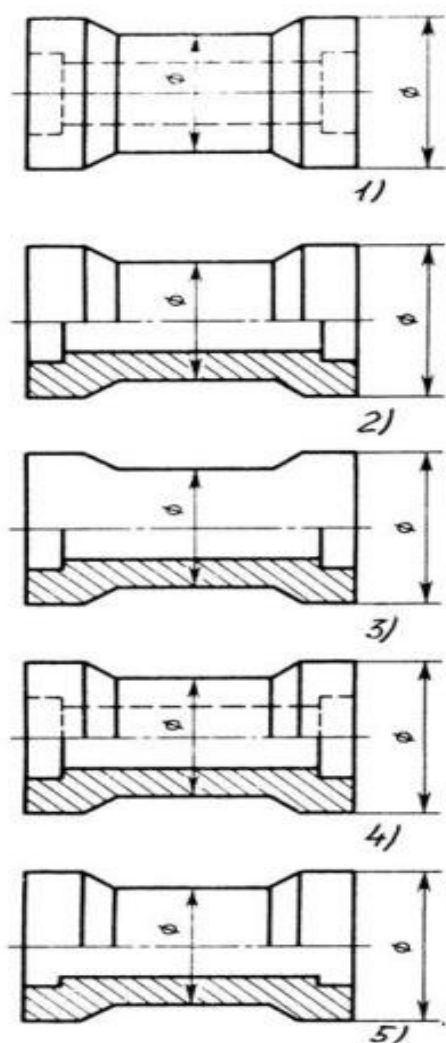


Рис. С3.-13

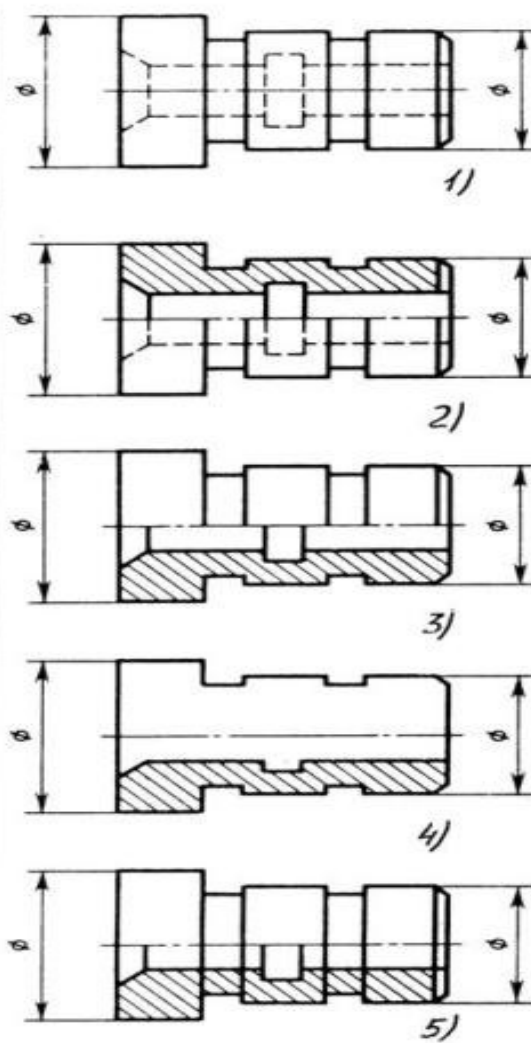


Рис. С3.-14

- 1) Правильный вариант ответа №1;
- 2) Правильный вариант ответа №2;
- 3) Правильный вариант ответа №3;
- 4) Правильный вариант ответа №4;
- 5) Правильный вариант ответа №5;

Вопрос 4. Определите, на каком чертеже правильно выполнено соединение половины вида и половины разреза для цилиндрической детали (рис. С3-14).

- 1) На первом чертеже;
- 2) На втором чертеже;
- 3) На третьем чертеже;
- 4) На четвертом чертеже;
- 5) На пятом чертеже;

Вопрос 5. Всегда ли обозначается положение секущих плоскостей при сложных разрезах?

- 1) Нет, не всегда;
- 2) Да, конечно, всегда;
- 3) Лишь когда не ясно, как проходят секущие плоскости разреза;
- 4) В редких случаях;
- 5) Не обозначаются никогда.

Задание 17.

Вопрос 1. В сечении показывается то, что:

- 1) Находится перед секущей плоскостью;
- 2) Находится за секущей плоскостью;
- 3) Попадает непосредственно в секущую плоскость;
- 4) Находится непосредственно в секущей плоскости и за ней⁴
- 5) Находится непосредственно перед секущей плоскостью и попадает в нее.

Вопрос 2. Контур вынесенного сечения выполняется:

- 1) Сплошной тонкой линией;
- 2) Сплошной основной линией;
- 3) Волнистой линией;
- 4) Штриховой линией;
- 5) Линией с изломами.

Вопрос 3. На рисунке С3-15 показана деталь и дано её сечение. Из нескольких вариантов сечения выберите правильный.

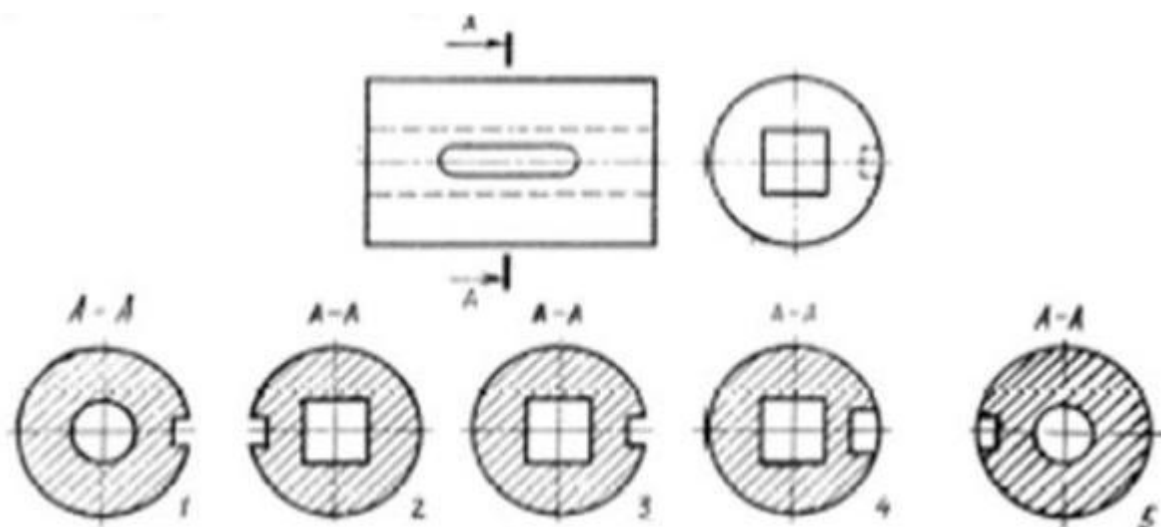


Рис. С3-15.

- 1) Правильный вариант ответа №1;
- 2) Правильный вариант ответа №2;
- 3) Правильный вариант ответа №3;
- 4) Правильный вариант ответа №4;
- 5) Правильный вариант ответа №5.

Вопрос 4. На рисунке С3-16 даны четыре сечения детали. Установите, какие из этих сечений выполнены правильно.

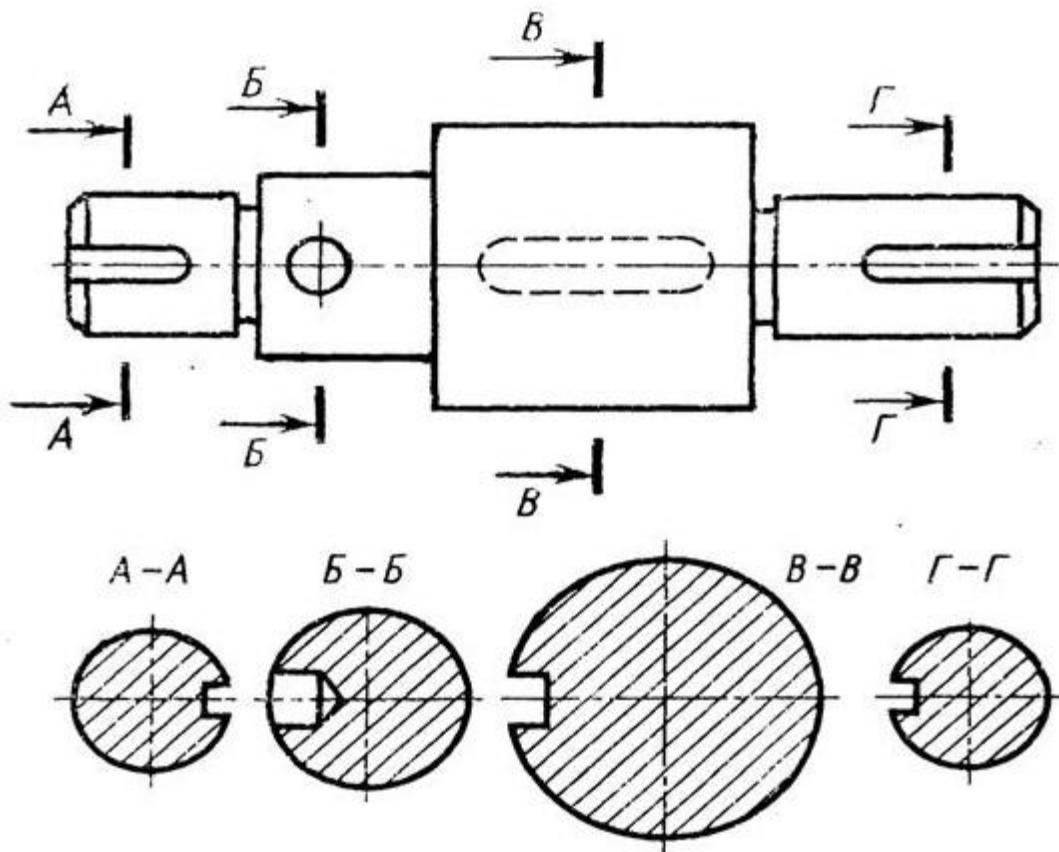


Рис. С3-16.

- 1) А-А и Б-Б;
- 2) А-А, Б-Б и Г-Г;
- 3) Б-Б, В-В;
- 4) А-А, Б-Б, В-В и Г-Г;
- 5) А-А и В-В.

Вопрос 5. Как обозначают несколько одинаковых сечений, относящихся к одному предмету?

- 1) Линии сечения обозначают одной и той же буквой и вычерчивают одно сечение;
- 2) Никак не обозначают;
- 3) Обозначают разными буквами линии сечений;
- 4) Обозначают линии сечений одной и той же буквой, но вычерчивают сечения несколько раз;
- 5) Линии сечений обозначают один раз и вычерчивают сечение несколько раз.

Задание 18.

Вопрос 1. Дана деталь и указано ее сечение А-А (рис.С3-17-а). Выбрать правильный вариант сечения.

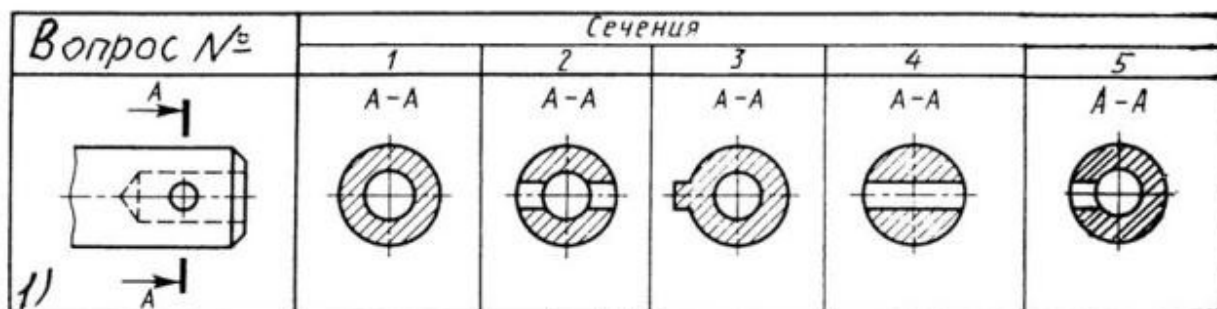


Рис.С3-17-а

- 1) Правильный вариант ответа №1;
- 2) Правильный вариант ответа №2;
- 3) Правильный вариант ответа №3;
- 4) Правильный вариант ответа №4;
- 5) Правильный вариант ответа №5;

Вопрос 2. Дана деталь и указано ее сечение А-А (рис.С3-17-б). Выбрать правильный вариант сечения.

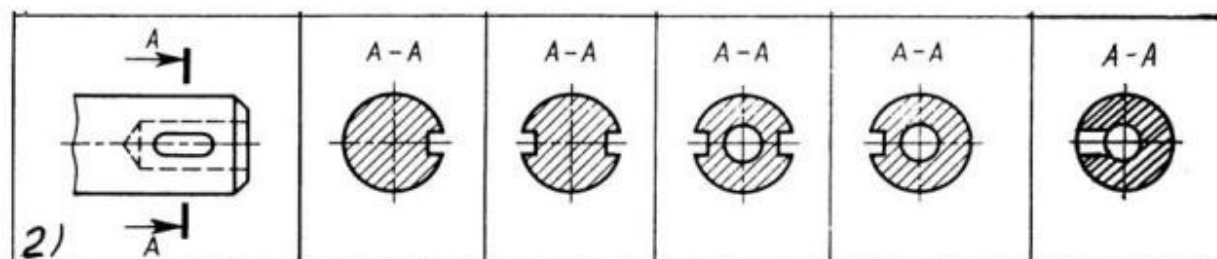


рис.С3-17-б

- 1) Правильный вариант ответа №1;
- 2) Правильный вариант ответа №2;
- 3) Правильный вариант ответа №3;
- 4) Правильный вариант ответа №4;
- 5) Правильный вариант ответа №5;

Вопрос 3. Дана деталь и указано ее сечение А-А (рис.С3-17-в). Выбрать правильный вариант сечения.

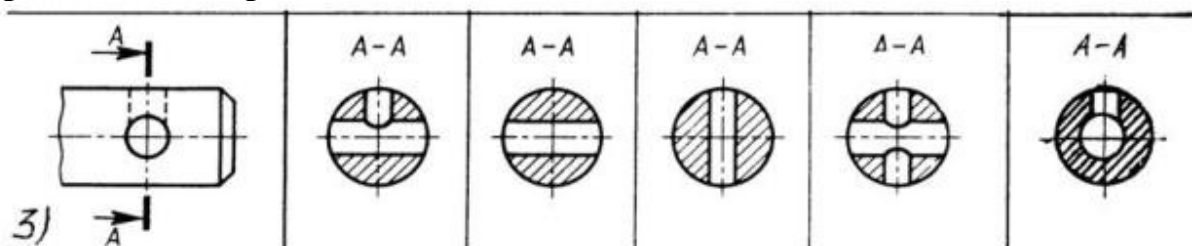


Рис.С3-17-в

- 1) Правильный вариант ответа №1;
- 2) Правильный вариант ответа №2;
- 3) Правильный вариант ответа №3;
- 4) Правильный вариант ответа №4;
- 5) Правильный вариант ответа №5;

Вопрос 4. Дана деталь и указано ее сечение А-А (рис.С3-17-г). Выбрать правильный вариант сечения.

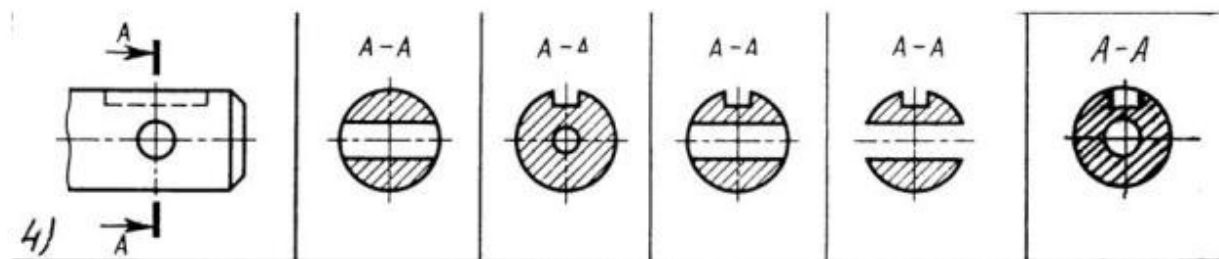
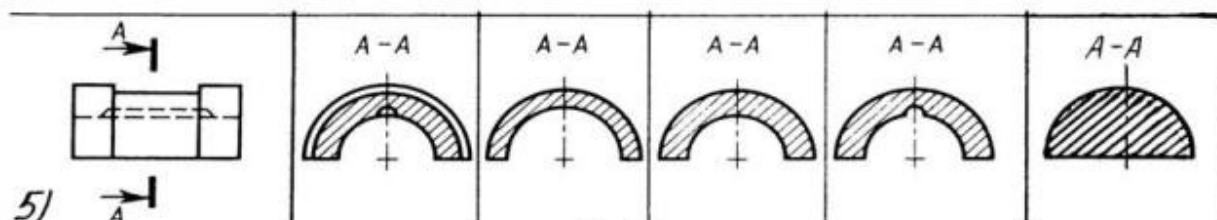


Рис.С3-17-г

- 1) Правильный вариант ответа №1;
- 2) Правильный вариант ответа №2;
- 3) Правильный вариант ответа №3;
- 4) Правильный вариант ответа №4;
- 5) Правильный вариант ответа №5;

Вопрос 5. Дана деталь и указано ее сечение А-А (рис.С3-17-д).Выбрать правильный вариант сечения.



С3-17-д

- 1) Правильный вариант ответа №1;
- 2) Правильный вариант ответа №2;
- 3) Правильный вариант ответа №3;
- 4) Правильный вариант ответа №4;
- 5) Правильный вариант ответа №5;

Задание 19.

Вопрос 1. Определите правильное сечение А-А для детали рис. С3-18.

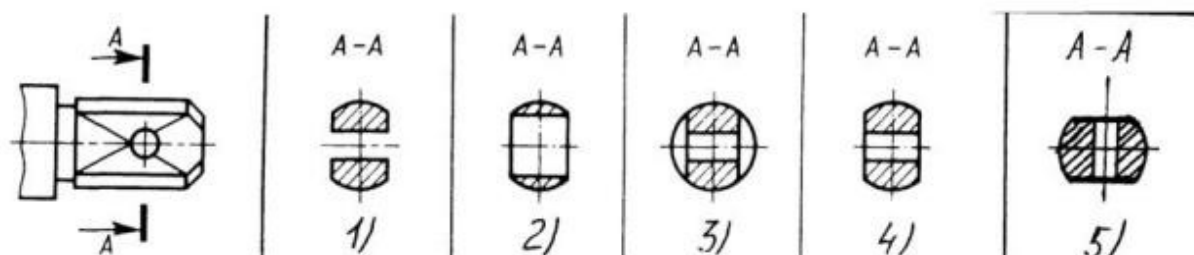
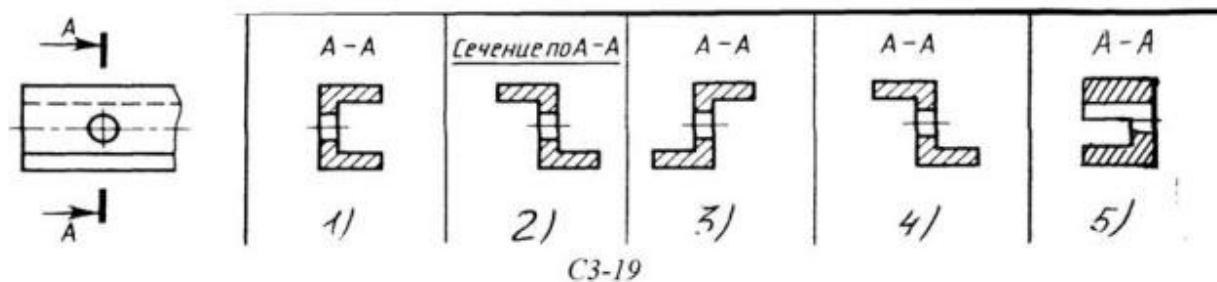


Рис. С3-18.

- 1) Правильный вариант ответа №1;
- 2) Правильный вариант ответа №2;
- 3) Правильный вариант ответа №3;
- 4) Правильный вариант ответа №4;
- 5) Правильный вариант ответа №5;

Вопрос 2. Определите правильный вариант сечения для Z-образного профиля с отверстием (рис. С3-19).



- 1) Правильный вариант ответа №1;
- 2) Правильный вариант ответа №2;
- 3) Правильный вариант ответа №3;
- 4) Правильный вариант ответа №4;
- 5) Правильный вариант ответа №5;

Вопрос 3. Как изображается резьба на цилиндрическом стержне и на его виде слева?

- 1) Наружный диаметр резьбы - сплошная основная, внутренний диаметр - сплошная тонкая, на виде слева - сплошная тонкая линия на 3/4 длины окружности для внутреннего диаметра;
- 2) Наружный диаметр резьбы - сплошная основная, внутренний диаметр - сплошная тонкая, на виде слева - тонкая линия на 360 градусов;
- 3) Наружный и внутренний диаметры резьбы - сплошная основная, на виде слева - сплошная тонкая линия на 3/4 длины окружности для внутреннего диаметра;
- 4) Наружный и внутренний диаметры - сплошная тонкая линия;
- 5) Все линии выполняются сплошной основной.

Вопрос 4. При резьбовом соединении двух деталей:

- 1) Полностью показывается деталь, в которую ввинчивается другая;
- 2) Ввинчиваемая деталь;
- 3) Нет никакого выделения;
- 4) Место соединения штрихуется полностью и для одной и для другой деталей;
- 5) Место соединения резьб не штрихуется совсем.

Вопрос 5. Какой линией показывается граница нарезанного участка резьбы?

- 1) Волнистой линией;
- 2) Сплошной тонкой линией;
- 3) Сплошной основной линией;
- 4) Штриховой линией;
- 5) Штрих-пунктирной линией.

Задание 20.

Вопрос 1. Расшифруйте условное обозначение резьбы M20*0.75LH.

- 1) Резьба метрическая, номинальный диаметр 20мм, шаг 0,75мм, левая;
- 2) Резьба упорная, номинальный диаметр 20мм, шаг 0,75, правая.
- 3) Резьба метрическая, номинальный диаметр 0,75мм, шаг 20мм, правая;
- 4) Резьба трубная, номинальный диаметр 0,75мм, шаг 20мм, левая;
- 5) Резьба метрическая, номинальный диаметр 0,75мм, шаг 20мм, левая.

Вопрос 2. Шаг резьбы - это расстояние:

- 1) Между соседними выступом и впадиной витка, измеренные вдоль оси детали;
- 2) Между двумя смежными витками;
- 3) На которое перемещается ввинчиваемая деталь за один полный оборот в неподвижную деталь;
- 4) От начала нарезания резьбы до её границы нарезания;
- 5) От выступа резьбы до её впадины, измеренное перпендикулярно оси детали.

Вопрос 3. Как понимать обозначение S40*4(p2)ЛH?

- 1) Резьба метрическая, диаметр 40мм, шаг 4мм, левая;
- 2) Резьба упорная, диаметр 40мм, шаг 4мм, левая;
- 3) Резьба трапецеидальная, диаметр 40мм, шаг 2мм, двухзаходная, левая;
- 4) Резьба упорная, диаметр 40мм, двухзаходная, шаг 2мм, правая;
- 5) Резьба упорная, диаметр 40мм, двухзаходная, шаг 2мм, левая.

Вопрос 4. От какого диаметра следует проводить выносные линии для обозначения резьбы, выполненной в отверстии?

- 1) От диаметра впадин резьбы, выполняемого сплошной основной линией;
- 2) От диаметра фаски на резьбе;
- 3) От внутреннего диаметра резьбы, выполняется сплошной тонкой линией;
- 4) От наружного диаметра резьбы, выполненного сплошной тонкой линией;
- 5) От наружного диаметра резьбы, выполненного сплошной основной линией.

Вопрос 5. Как выполняется фаска на видах, перпендикулярных оси стержня или отверстия?

- 1) Выполняется сплошной основной линией;
- 2) Не показывается совсем;
- 3) Выполняется сплошной основной линией на 3/4 окружности;
- 4) Выполняется сплошной тонкой линией;
- 5) Выполняется сплошной тонкой линией; на 3/4 окружности.

Задание 21.

Вопрос 1. Чем отличается обозначение метрической резьбы с крупным шагом от её обозначения с мелким шагом?

- 1) Не отличается ничем;
- 2) К обозначению резьбы добавляется величина крупного шага;
- 3) К обозначению резьбы добавляется величина мелкого шага;
- 4) К обозначению резьбы добавляется приписка ЛН;
- 5) Перед условным обозначением резьбы ставится величина мелкого шага.

Вопрос 2. Как наносится обозначение трубных и конических резьб?

- 1) Также как и метрическая резьба;

- 2) Также как и упорная резьба;
- 3) При помощи линии выноски со стрелкой и полкой;
- 4) Показывается внутренний диаметр резьбы;
- 5) Показывается только наружный диаметр резьбы с условным обозначением.

Вопрос 3. В каких случаях на чертежах показывают профиль резьбы?

- 1) Профиль резьбы показывают всегда;
- 2) Никогда не показывают;
- 3) Когда конструктор считает это необходимым;
- 4) Когда необходимо показать резьбу с нестандартным профилем со всеми необходимыми размерами;
- 5) Когда выполняется упорная или трапецеидальная резьба.

Вопрос 4. Как показываются крепления детали типа болтов, шпилек, гаек, шайб и винтов при попадании в продольный разрез на главном виде?

- 1) Условно показываются не рассеченными и не штрихуются;
- 2) Разрезаются и штрихуются с разным направлением штриховки;
- 3) Гайки и шайбы показываются рассечёнными, а болты, винты и шпильки - не рассечёнными;
- 4) Болты и гайки показываются рассечёнными и штрихуются;
- 5) Рассечёнными показываются только гайки, шайбы и винты.

Вопрос 5. В каком случае правильно сформулировано применение болтовых и шпилечных соединений?

- 1) Болтовое соединение применяется, когда имеется двусторонний доступ к соединяемым деталям, шпилечное - односторонний;
- 2) Болтовое соединение применяется, когда имеется односторонний доступ к соединяемым деталям, шпилечное - двусторонний;
- 3) Применение этих соединений ничем не отличается и взаимозаменяемо;
- 4) Удобнее применять всегда болтовые соединения;
- 5) Удобнее всегда применять шпилечные соединения.

Задание 22.

Вопрос 1. В каком случае правильно перечислены разъёмные и неразъёмные соединения?

- 1) Разъёмные: болтовое, шпилечное, винтовое, паяное, шпоночное. Неразъёмные: клеевое, сварное, шовное, заклёпочное.
- 2) Разъёмные: болтовое, шпилечное, винтовое, шпоночное, шлицевое. Неразъёмные: клеевое, сварное, паяное, шовное, заклёпочное.
- 3) Разъёмные: болтовое, шпилечное, винтовое, шпоночное, шовное, сварное. Неразъёмные: клеевое, паяное, шлицевое, заклёпочное.
- 4) Разъёмные: болтовое, шпилечное, винтовое, шпоночное, шовное. Неразъёмные: клеевое, паяное, шлицевое, заклёпочное.
- 5) Разъёмные: болтовое, шпилечное. Неразъёмные: винтовое, шпоночное, шлицевое.

Вопрос 2. Сварное соединение условно обозначается:

- 1) Утолщенной стрелкой;
- 2) Стрелкой с буквой «С» на 20мм от стрелки;
- 3) Стрелкой с буквой «Св.» на 25мм от стрелки;
- 4) Половиной стрелки с обозначением и расшифровкой типа сварки;
- 5) Половиной стрелки с обозначением буквой «С».

Вопрос 3. Чем отличается шлицевое соединение от шпоночного?

- 1) Только размерами деталей;
- 2) У шлицевого чередуются выступы и впадины по окружности, а у шпоночного вставляется еще одна деталь - шпонка;
- 3) Шлицы выполняются монолитно на детали, а шпонка выполняется монолитно с валом;
- 4) Ничем не отличаются;
- 5) Диаметр вала, передающего крутящий момент.

Вопрос 4. Паяное соединение условно обозначается на чертеже:

- 1) Утолщённой стрелкой;
- 2) Стрелкой с надписью «Пайка»;
- 3) Утолщённой линией, стрелкой и знаком полуокружности;
- 4) Утолщённой линией и полустрелкой;
- 5) Стрелкой и обозначением «П».

Вопрос 5. Как обозначается на чертеже клеевое соединение:

- 1) Стрелкой и надписью «Клей»;
- 2) Утолщённой линией, стрелкой и надписью «Клеевое соединение»;
- 3) Утолщённой линией, полустрелкой и знаком «К»;
- 4) Утолщённой линией, стрелкой и знаком «К»;
- 5) Сплошной основной линией, стрелкой и знаком «К».

Задание 23.

Вопрос 1. Чем отличается эскиз от рабочего чертежа детали?

- 1) Эскиз выполняется в меньшем масштабе;
- 2) Эскиз выполняется в большем масштабе, чем рабочий чертёж;
- 3) Эскиз выполняется с помощью чертёжных инструментов, а рабочий чертёж - от руки;
- 4) Эскиз ничем не отличается от рабочего чертежа;
- 5) Эскиз выполняется от руки; а рабочий чертёж - с помощью чертёжных инструментов.

Вопрос 2. В каком масштабе выполняется эскиз детали?

- 1) В глазомерном масштабе;
- 2) Обычно в масштабе 1:1;
- 3) Обычно в масштабе увеличения;
- 4) Всегда в масштабе уменьшения;
- 5) Всегда в масштабе увеличения;

Вопрос 3. Сколько видов должен содержать рабочий чертёж детали?

- 1) Всегда три вида;
- 2) Шесть видов;
- 3) Минимальное, но достаточное для представления форм детали;
- 4) Максимально возможное число видов;
- 5) Только один вид.

Вопрос 4. Нужны ли все размеры на рабочих чертежах детали?

- 1) Ставятся только габаритные размеры;
- 2) Ставятся размеры, необходимые для изготовления и контроля изготовления детали;
- 3) Ставятся только линейные размеры;
- 4) Ставятся линейные размеры и габаритные;
- 5) Ставятся размеры диаметров.

Вопрос 5. Для чего служит спецификация к сборочным чертежам?

- 1) Спецификация определяет состав сборочной единицы;
- 2) В спецификации указываются габаритные размеры деталей;
- 3) В спецификации указываются габариты сборочной единицы;
- 4) Спецификация содержит информацию о взаимодействии деталей;
- 5) В спецификации указывается вес деталей.

Задание 24.

Вопрос 1. В каком масштабе предпочтительнее делать сборочный чертёж?

- 1) 2:1;
- 2) 1:1;
- 3) 1:2;
- 4) 5:1;
- 5) 4:1.

Вопрос 2. Применяются ли упрощения на сборочных чертежах?

- 1) Нет;
- 2) Только для крепёжных деталей;
- 3) Применяются для всех деталей;
- 4) Применяются только для болтов и гаек;
- 5) Применяются только для нестандартных деталей.

Вопрос 3. Для каких деталей наносят номера позиций на сборочных чертежах?

- 1) Для всех деталей, входящих в сборочную единицу;
- 2) Только для нестандартных деталей;
- 3) Только для стандартных деталей;
- 4) Для крепёжных деталей;
- 5) Только для основных деталей.

Вопрос 4. Какие размеры наносят на сборочных чертежах?

- 1) Все размеры;
- 2) Основные размеры корпусной детали;
- 3) Габаритные, подсоединительные, установочные, крепёжные, определяющие работу устройства.
- 4) Только размеры крепёжных деталей;
- 5) Только габаритные размеры.

Вопрос 5. Как штрихуются в разрезе соприкасающиеся детали?

- 1) Одинаково;
- 2) С разной толщиной линий штриховки;
- 3) Одна деталь не штрихуется, а другая штрихуется;
- 4) С разным наклоном штриховых линий;
- 5) С разным расстоянием между штриховыми линиями, со смещением штриховых линий, с разным наклоном штриховых линий.

Задание 25.

Вопрос 1. Откуда замеряются размеры при детализации сборочного чертежа?

- 1) Замеряются со сборочного чертежа;
- 2) Определяются по спецификации;
- 3) Замеряются со сборочного чертежа и увеличиваются в три раза;
- 4) Замеряются со сборочного чертежа и уменьшаются в три раза;
- 5) Определяются произвольно, в глазомерном масштабе.

Вопрос 2. Должно ли соответствовать количество изображений детали на сборочном чертеже количеству изображений детали на рабочем чертеже?

- 1) Да, обязательно;
- 2) Нет, никогда;
- 3) Может соответствовать, может нет;
- 4) Количество изображений на рабочем чертеже должно быть в два раза меньше;
- 5) Количество изображений на рабочем чертеже должно быть на одно меньше.

Вопрос 3. На каких форматах выполняется спецификация?

- 1) На дополнительных;
- 2) На А2;
- 3) На А3;
- 4) На А5;
- 5) На А4.

Вопрос 4. Какие изображения сечений деталей зачерняют?

- 1) Детали толщиной до 1мм;
- 2) Детали толщиной или диаметром 2мм и менее;
- 3) Детали типа тонких спиц;
- 4) Маленькие шарики диаметром от 1 до 5 мм;
- 5) Детали толщиной от 1 до 4 мм.

Вопрос 5. Нужно ли соблюдать масштаб при вычерчивании элементов электрических схем?

- 1) Нет;
- 2) Нужно, но только в масштабе 2:1;
- 3) Нужно;
- 4) Нужно, но только в масштабе 1:1;
- 5) Нужно, но только в масштабе 1:2.

2.2 ПАКЕТ ЭКЗАМЕНАТОРА

Тесты по инженерной графике

Приложения 1. Тестовые задания для промежуточной аттестации

Контрольные задания составлены в виде теста. По каждому заданию предлагается выбрать верный ответ в задании 50 вопросов.

46-50 правильных ответов – оценка «5»

45- 31 правильных ответ -- оценка «4»

26- 30 правильных ответов – оценка «3»

Менее 25 правильных ответов – оценка «2»

Вариант №1

1. Какой способ проецирования используется при построении чертежа?

- 1) центральное;
- 2) параллельное;
- 3) прямоугольное.

2. Всегда ли достаточно одной проекции предмета?

- 1) всегда
- 2) иногда
- 3) не всегда

3. Где правильно обозначены плоскости проекций?

- 1) V W 2) H W
- H V

4. Какие основные три вида вы знаете?

- 1) Главный вид, фронтальный, прямоугольный;
- 2) Главный вид, вид сверху, слева;
- 3) Главный вид, слева, вид справа,

5 Изображение отдельного ограниченного места поверхности предмета называется.....

- 1) Главным видом
- 2) Местным видом
- 3) Видом

6. Как штрихуют неметаллические детали на разрезах:

- 1) широкими параллельными линиями
- 2) узкими параллельными линиями
- 3) ромбической сеткой
- 4) сплошным закрашиванием

7. Какими не бывают разрезы:

- 1) горизонтальные 2) вертикальные
- 3) наклонные 4) параллельные

8. Каков угол наклона штриховки в изометрии на сечениях, расположенных на плоскостях ZOX, ZOY

- 1) 30 2) 45 3) 60 4) 90

9. Толщина сплошной основной линии лежит в следующих пределах?

- 1) 0,5 2,0 мм.;
- 2) 1,0 1,5 мм.;
- 3) 0,5 1,0 мм.;
- 4) 0,5 1,5 мм.

10. На основе какого формата получают другие основные форматы

- 1) A5 2) A4 3) A3 4) A0

11. Сколько типов линий применяют при выполнении чертежей

- 1) 6 типов линий 2) 7 типов линий
- 3) 8 типов линий 4) 9 типов линий

12. В каком году принята ГОСТом конструкция последнего чертежного шрифта

- 1) 1959 г. 2) 1968
- 3) 1981 г. 4) 1988 г.

13. Сколько основных видов существует для выполнения чертежа

- 1) 6 видов 2) 5 видов
- 3) 4 вида 4) 3 вида

14. Сколько видов аксонометрических проекций применяются в графике

- 1) 2 вида
- 2) 3 вида
- 3) 4 вида
- 4) 5 видов

15. В каких случаях образуется цилиндрическая зубчатая передача

- 1) когда оси валов пересекаются
- 2) когда оси валов скрещиваются
- 3) когда оси валов параллельны друг другу
- 4) когда присутствует специальная надпись

16. Всегда ли совпадают положение детали на главном виде на рабочем чертеже с

положением детали на сборочном чертеже

- 1) всегда совпадают
- 2) никогда не совпадают
- 3) совпадают не всегда
- 4) иногда совпадают

17. Всегда ли совпадает количество изображений детали на рабочем чертеже с количеством изображений на сборочном чертеже

- 1) совпадают не всегда
- 2) зависит от мнения разработчика
- 3) совпадают всегда
- 4) зависит от пожелания заказчика

18. Для чего служит спецификация к сборочным чертежам?

- 1) Спецификация определяет состав сборочной единицы;
- 2) В спецификации указываются габаритные размеры деталей;
- 3) В спецификации указываются габариты сборочной единицы;
- 4) Спецификация содержит информацию о взаимодействии деталей;

19. Какое изображение называется «эскиз» - это:

- 1) чертеж, содержащий габаритные размеры детали
- 2) чертеж, дающий представление о габаритах детали
- 3) чертеж детали, выполненный от руки и позволяющий изготовить деталь
- 4) объемное изображение детали

20. Для чего предназначен эскиз:

- 1) для изготовления детали
- 2) для определения возможности транспортировки детали
- 3) для определения способов крепления детали в конструкции
- 4) для выявления внешней отделки детали

21. Какие условные обозначения проставляют на эскизе:

- 1) координаты центров отверстий
- 2) необходимые размеры для изготовления детали
- 3) габаритные размеры
- 4) толщины покрытий

22. Как штрихуются в разрезе соприкасающиеся детали?

- 1) Одинаково;
- 2) С разным наклоном штриховых линий;
- 3) С разным расстоянием между штриховыми линиями, со смещением штриховых линий, с разным наклоном штриховых линий.

23. Какие упрощения допускаются на эскизе:

- 1) опускание скруглений и проточек
- 2) опускание вмятин, царапин, неравномерностей стенок
- 3) опускание шпоночных отверстий
- 4) опускание ребер жесткости.

24. Каково название процесса мысленного расчленения предмета на геометрические тела, образующие его поверхность:

- 1) деление на геометрические тела
- 2) анализ геометрической формы
- 3) выделение отдельных геометрических тел
- 4) разделение детали на части

25. Каковы названия основных плоскостей проекций:

- 1) фронтальная, горизонтальная, профильная
- 2) центральная, нижняя, боковая
- 3) передняя, левая, верхняя
- 4) передняя, левая боковая, верхняя

26. С чего начинают чтение сборочного чертежа:

- 1) изучение видов соединений и креплений сборочных единиц и деталей изделия
- 2) чтение основной надписи, изучение спецификации изделия и основными составными частями изделия и принципом его работы
- 3) изучение соединений сборочных единиц изделия.

27. Что такое «Деталирование»:

- 1) процесс составления рабочих чертежей деталей по сборочным чертежам
- 2) процесс сборки изделия по отдельным чертежам деталей
- 3) процесс создания рабочих чертежей
- 4) процесс составления спецификации сборочного чертежа

28. Какой знак, позволяющий сократить число изображений, применяют на простых чертежах:

- 1) знак шероховатости поверхности;
- 2) знак осевого биения;
- 3) знак радиуса.
- 4) знак диаметра;

29. Что означает «Изометрия»

- 1) двойное измерение по осям
- 2) прямое измерение осей
- 3) равное измерение по осям
- 3) технический рисунок

30. Расшифруйте условное обозначение резьбы M20×0.75LH.

- 1) Резьба метрическая, номинальный диаметр 20мм, шаг 0,75мм, левая;
- 2) Резьба метрическая, номинальный диаметр 0,75мм, шаг 20мм, правая;
- 3) Резьба трубная, номинальный диаметр 0,75мм, шаг 20мм, левая;
- 4) Резьба метрическая, номинальный диаметр 0,75мм, шаг 20мм, левая.

31. Нужны ли все размеры на рабочих чертежах детали?

- 1) Ставятся только габаритные размеры;
- 2) Ставятся размеры, необходимые для изготовления и контроля детали;
- 3) Ставятся только линейные размеры;
- 4) Ставятся линейные размеры и габаритные;

32. Как штрихуют неметаллические детали на разрезах:

- 1) широкими параллельными линиями
- 2) узкими параллельными линиями
- 3) ромбической сеткой
- 4) сплошным закрашиванием

33. Какими не бывают разрезы:

- 1) горизонтальные
- 2) вертикальные
- 3) наклонные
- 4) параллельные

34. Какими линиями выполняют вспомогательные построения при выполнении элементов геометрических построений?

- 1) Сплошными основными;
- 2) Сплошными тонкими;
- 3) Штрих-пунктирными;
- 4) Штриховыми;

35. На каком расстоянии от контура рекомендуется проводить размерные линии?

- 1) Не более 10 мм;
- 2) От 7 до 10 мм;
- 3) Не менее 10 мм;
- 4) От 1 до 5 мм;

36. На каком расстоянии друг от друга должны быть параллельные размерные линии?

- 1) Не более 7 мм;
- 2) Не более 10 мм;
- 3) От 7 до 10 мм;
- 4) Не менее 7 мм;

37. Чему должен быть равен раствор циркуля при делении окружности на шесть равных частей?

- 1) Диаметру окружности.
- 2) Половине радиуса окружности.
- 3) Двум радиусам окружности.
- 4) Радиусу окружности.

38. В каком месте должна находиться точка сопряжения дуги с дугой?

- 1) В центре дуги окружности большего радиуса;
- 2) На линии, соединяющей центры сопряжений дуг;
- 3) В центре дуги окружности меньшего радиуса;
- 4) В любой точке дуги окружности большего радиуса;

39. Какие проставляются размеры при выполнении чертежа в масштабе, отличном от 1:1?

- 1) Те размеры, которые имеет изображение на чертеже;
- 2) Независимо от масштаба изображения ставятся реальные размеры изделия;
- 3) Размеры должны быть увеличены или уменьшены в соответствии с масштабом.

40. Какой линией показывается граница нарезанного участка резьбы?

- 1) Волнистой линией;
- 2) Сплошной тонкой линией;
- 3) Сплошной основной линией;
- 4) Штриховой линией;

41. Сколько типов линий применяют при выполнении чертежей

- 1) 6 типов линий
- 2) 7 типов линий
- 3) 8 типов линий
- 4) 9 типов линий

42. Какой ряд масштабов увеличения устанавливается ЕСКД

- 1) 2:1; 3.5:1; 10:1
- 2) 2:1; 3:1; 6:1
- 3) 2:1; 2.5:1; 4:1
- 4) 1:2; 1:3; 1:5

43. Как правильно проставить размеры 4 одинаковых отверстий?

- 1) 4_{отв} Ø10
- 2) Ø10мм – 4_{отв}
- 3) Ø10 × 4

44. Какому виду сечения отдается предпочтение

- 1) вынесенному
- 2) наложенному
- 3) комбинированному
- 4) продольному

45. Как правильно проставить размер 4 одинаковых фасок размером 3мм?

- 1) $4 \times (3 \times 45)$
- 2) 4 фаски $3 \times 45^\circ$
- 3) $3 \times 45^\circ$; $\phi=4$

46. Рамку основной надписи на чертеже выполняют

- 1) основной тонкой линией
- 2) основной толстой линией
- 3) любой линией

47. Относительно толщины какой линии задаются толщины всех других линий чертежа?

- 1) основной сплошной толстой.
- 2) основной сплошной тонкой
- 3) штриховой

48. Толщина сплошной основной линии

- 1) 0,6 мм
- 2) 0,5...1,5 мм
- 3) ,5 мм

49. Назначение штрихпунктирной линии с одной точкой

- 1) линия видимого контура
- 2) линия сгиба
- 3) осевая
- 4) выносная

50. Масштабом называется

- 1) расстояние между двумя точками на плоскости
- 2) пропорциональное уменьшение размеров предмета на чертеж
- 3) отношение линейных размеров на чертеже к действительным размерам

Вариант №2

1. Каковы названия основных плоскостей проекций:

- 1) фронтальная, горизонтальная, профильная
- 2) центральная, нижняя, боковая
- 3) передняя, левая, верхняя
- 4) передняя, левая боковая, верхняя

2. С чего начинают чтение сборочного чертежа:

- 1) изучение видов соединений и креплений сборочных единиц и деталей изделия
- 2) чтение спецификации изделия
- 3) ознакомление со спецификацией и основными составными частями изделия и принципом его работы
- 4) изучение соединений сборочных единиц изделия.

3. Что такое «Деталирование»:

- 1) процесс составления рабочих чертежей деталей по сборочным чертежам
- 2) процесс сборки изделия по отдельным чертежам деталей
- 3) процесс создания рабочих чертежей
- 4) процесс составления спецификации сборочного чертежа

4. Какой знак, позволяющий сократить число изображений, применяют на простых чертежах:

- 1) знак диаметра;
- 2) знак шероховатости поверхности;
- 3) знак осевого биения;
- 4) знак радиуса.

5. Что означает «Изометрия»

- 1) двойное измерение по осям
- 2) прямое измерение осям
- 3) равное измерение по осям
- 3) технический рисунок

6. Какого масштаба нет в стандартах ЕСКД

- 1) 2.5:1
- 2) 3: 1
- 3) 5:1

7. Как штрихуют неметаллические детали на разрезах:

- 1) широкими параллельными линиями
- 2) узкими параллельными линиями
- 3) ромбической сеткой
- 4) сплошным закрашиванием

8. Какими не бывают разрезы:

- 1) горизонтальные
- 2) вертикальные
- 3) наклонные
- 4) параллельные

9. Где проставляется размер?

- 1) над размерной линией;
- 2) под размерной линией;
- 3) на размерной линии.

10. Какой размер между штрихами штрих пунктирной линии?

- 1) 1.5- 2 мм
- 2) 3 мм

3) 1- 1.5 мм

11. Что означают эти цифры 2.5; 5; 7; 10; 14...?

- 1) масштаб
- 2) шрифт
- 3) номера формата

12. Для чего предназначена тонкая сплошная линия?

- 1) для размерных и выносных линий;
- 2) для центровых линий;
- 3) линии симметрии.

13. Как правильно проставить размеры 4 одинаковых отверстий?

- 1) 4_{отв} Ø10
- 2) Ø10мм – 4_{отв}
- 3) Ø10 × 4

14. На каком расстоянии от контура рекомендуется проводить размерные линии?

- 1) Не более 10 мм;
- 2) От 7 до 10 мм;
- 3) Не менее 10 мм;
- 4) От 1 до 5 мм;

15. На основе какого формата получают другие основные форматы

- 1) A5
- 2) A4
- 3) A3
- 4) A0

16. Какой ряд масштабов увеличения устанавливается ЕСКД

- 1) 2:1; 3.5:1; 10:1
- 2) 2:1; 3:1; 6:1
- 2) 2:1; 2.5:1; 4:1
- 3) 1:2; 1:3; 1:5

17. Какому виду сечения отдается предпочтение

- 1) вынесенному
- 2) наложенному
- 3) комбинированному
- 4) продольному

18. Как правильно проставить размер 4 одинаковых фасок размером 3мм?

- 1) 4 × (3 × 45°)
- 2) 4 фаски 3 × 45°
- 3) 3 × 45°; ф=4

19. Рамку основной надписи на чертеже выполняют

- 1) основной тонкой линией
- 2) основной толстой линией
- 3) любой линией

- 20. Относительно толщины какой линии задаются толщину всех других линий чертежа?**
- 1) основной сплошной толстой.
 - 2) основной сплошной тонкой
 - 3) штриховой
- 21. Толщина сплошной основной линии**
- 1) 0,5 мм
 - 2) 0,5...1,5 мм
 - 3) ,5 мм
- 22. Назначение штрихпунктирной линии с одной точкой**
- 1) линия видимого контура
 - 2) линия сгиба
 - 3) осевая
 - 4) выносная
- 23. Масштабом называется**
- 1) расстояние между двумя точками на плоскости
 - 2) пропорциональное уменьшение размеров предмета на чертеж
 - 3) отношение линейных размеров на чертеже к действительным размерам
- 24. Какой способ проецирования используется при построении чертежа?**
- 1) центральное;
 - 2) параллельное;
 - 3) прямоугольное.
- 25. Всегда ли достаточно одной проекции предмета?**
- 1) всегда
 - 2) иногда
 - 3) не всегда
- 26. Где правильно обозначены плоскости проекций?**
- 1) V W
H
 - 2) H W
V
- 27. Какие основные три вида вы знаете?**
- 1) Главный вид, фронтальный, прямоугольный;
 - 2) Главный вид, вид слева, вид сверху
 - 3) Главный вид, вид слева, профильный.
- 28. Изображение отдельного ограниченного места поверхности предмета называется.....**
- 1) Главным видом
 - 2) Местным видом
 - 3) Видом
- 29. Как штрихуют неметаллические детали на разрезах:**
- 1) широкими параллельными линиями
 - 2) узкими параллельными линиями
 - 3) ромбической сеткой

4) сплошным закрашиванием

30. Какими не бывают разрезы:

- 1) горизонтальные 2) вертикальные
- 3) наклонные 4) параллельные

31. Какому виду сечения отдается предпочтение

- 1) вынесенному 2) наложенному
- 3) комбинированному 4) продольному

32. Где располагается основная надпись чертежа по форме 1 на чертежном листе?

- 1) Посередине чертежного листа;
- 2) В правом нижнем углу;
- 3) В левом нижнем углу;
- 4) В правом нижнем углу, примыкая к рамке формата.

33. По отношению к толщине основной линии толщина разомкнутой линии составляет?

- 1) (0,5 1,0) S;
- 2) (1,0 2,0) S;
- 3) (1,0 2,5) S;
- 4) (0,8 1,5) S;

34. На основе какого формата получаются другие основные форматы

- 1) A5; 2) A4; 3) A3; 4) A0

35. Сколько типов линий применяют при выполнении чертежей

- 1) 6 типов линий 2) 7 типов линий
- 3) 8 типов линий 4) 9 типов линий

36. В каком году принята ГОСТом конструкция последнего чертежного шрифта

- 1) 1959 г. 2) 1968
- 3) 1981 г. 4) 1988 г.

37. Сколько основных видов существует для выполнения чертежа

- 1) 6 видов 2) 5 видов
- 3) 4 вида 4) 3 вида

38. Сколько видов аксонометрических проекций применяются в графике

- 1) 2 вида 2) 3 вида 3) 4 вида 4) 5 видов

39. В каких случаях образуется цилиндрическая зубчатая передача

- 1) когда оси валов пересекаются
- 2) когда оси валов скрещиваются
- 3) когда оси валов параллельны друг другу

4) когда присутствует специальная надпись

40. Всегда ли совпадают положение детали на главном виде на рабочем чертеже с положением детали на сборочном чертеже

- 1) всегда совпадают
- 2) никогда не совпадают
- 3) совпадают не всегда

41. Всегда ли совпадает количество изображений детали на рабочем чертеже с количеством изображений на сборочном чертеже

- 1) совпадают не всегда
- 2) зависит от мнения разработчика
- 3) совпадают всегда

42. Простой разрез получается при числе секущих плоскостей, равных:

- 1) Одной;
- 2) Двум;
- 3) Двум и более;
- 4) Трём;

43. Какое изображение называется «эскиз» - это:

- 1) чертеж детали, выполненный от руки и позволяющий изготовить деталь
- 2) объемное изображение детали
- 3) чертеж, содержащий габаритные размеры детали
- 4) чертеж, дающий представление о габаритах детали

44. Для чего предназначен эскиз:

- 1) для изготовления детали
- 2) для определения возможности транспортировки детали
- 3) для определения способов крепления детали в конструкции
- 4) для выявления внешней отделки детали

45. При нанесении размера дуги окружности (части окружности) используют следующий знак?

- 1) Нет специального обозначения;
- 2) Сфера.
- 3) R;

46. Размер шрифта h определяется следующими элементами?

- 1) Высотой строчных букв;
- 2) Высотой прописных букв в миллиметрах;
- 3) Толщиной линии шрифта;
- 4) Шириной прописной буквы А, в миллиметрах;

47. Масштабы изображений на чертежах должны выбираться из следующего ряда?

- 1) 1:1; 1:2; 1:2,5; 1:3; 1:4; 1:5; 2:1; 2,5:1; 3:1; 4:1; 5:1.....
- 2) 1:1; 1:2; 1:2,5; 1:4; 1:5; 2:1; 2,5:1; 4:1; 5:1.....
- 3) 1:1; 1:2; 1:4; 1:5; 2:1; 4:1; 5:1.....

4) 1:2; 1:2,5; 1:4; 1:5; 2:1; 2,5:1; 4:1; 5:1.....

48. Все ли детали на сборочных чертежах подлежат детализованию?

- 1) все;
- 2) все кроме стандартных;
- 3) основные

49. Как изображаются в разрезе детали с тонкими стенками?

- 1) тонкими стенками;
- 2) штрихуют
- 3) не штрихуют

50. Какой линией ограничивают местный разрез?

- 1) основной тонкой;
- 2) штрихпунктирной;
- 3) тонкой волнистой.

Вариант №3

1. Где располагается основная надпись чертежа по форме 1 на чертежном листе?

- 1) Посередине чертежного листа;
- 2) В правом нижнем углу;
- 3) В левом нижнем углу;
- 4) В правом нижнем углу, примыкая к рамке формата.

2. Толщина сплошной основной линии лежит в следующих пределах?

- 1) 0,5 2,0 мм.;
- 2) 1,0 1,5 мм.;
- 3) 0,5 1,0 мм.;
- 4) 0,5 1,5 мм.

3. По отношению к толщине основной линии толщина разомкнутой линии составляет?

- 1) (0,5 1,0) S;
- 2) (1,0 2,0) S;
- 3) (1,0 2,5) S;
- 4) (0,8 1,5) S;

4. Масштабы изображений на чертежах должны выбираться из следующего ряда?

- 1) 1:1; 1:2; 1:2,5; 1:3; 1:4; 1:5; 2:1; 2,5:1; 3:1; 4:1; 5:1.....
- 2) 1:1; 1:2; 1:2,5; 1:4; 1:5; 2:1; 2,5:1; 4:1; 5:1.....
- 3) 1:1; 1:2; 1:4; 1:5; 2:1; 4:1; 5:1.....

4) 1:2; 1:2,5; 1:4; 1:5; 2:1; 2,5:1; 4:1; 5:1.....

5. Размер шрифта h определяется следующими элементами?

- 1) Высотой строчных букв;
- 2) Высотой прописных букв в миллиметрах;
- 3) Толщиной линии шрифта;
- 4) Шириной прописной буквы А, в миллиметрах;

6. ГОСТ устанавливает следующие размеры шрифтов в миллиметрах?

- 1) 1; 2; 3; 4; 5; 6; 7; 8; 9; 10.....
- 2) 1,5; 2,5; 3,5; 4,5; 5,5; 6,5.....
- 3) 2; 4; 6; 8; 10; 12.....
- 4) 1,8; 2,5; 3,5; 5; 7; 10; 14; 20.....

7. Толщина линии шрифта d зависит от?

- 1) От толщины сплошной основной линии S;
- 2) От высоты строчных букв шрифта;
- 3) От типа и высоты шрифта;
- 4) От угла наклона шрифта;

8. В каких единицах измерения указываются линейные и угловые размеры на чертежах?

- 1) В сотых долях метра и градусах;
- 2) В микронах и секундах;
- 3) В метрах, минутах и секундах;
- 4) В миллиметрах, градусах минутах и секундах.

9. При нанесении размера дуги окружности (части окружности) используют следующий знак?

- 1) R;
- 2) Нет специального обозначения;
- 3) Сфера.

10. Какими линиями выполняют вспомогательные построения при выполнении элементов геометрических построений?

- 1) Сплошными основными;
- 2) Сплошными тонкими;
- 3) Штрих-пунктирными;
- 4) Штриховыми;

11. На каком расстоянии от контура рекомендуется проводить размерные линии?

- 1) Не более 10 мм;
- 2) От 7 до 10 мм;
- 3) Не менее 10 мм;
- 4) От 1 до 5 мм;

12. На каком расстоянии друг от друга должны быть параллельные размерные линии?

- 1) Не более 7 мм;
- 2) Не более 10 мм;
- 3) От 7 до 10 мм;
- 4) Не менее 7 мм;

13. Чему должен быть равен раствор циркуля при делении окружности на шесть равных частей?

- 1) Диаметру окружности.
- 2) Половине радиуса окружности.
- 3) Двум радиусам окружности.
- 4) Радиусу окружности.

14. В каком месте должна находиться точка сопряжения дуги с дугой?

- 1) В центре дуги окружности большего радиуса;
- 2) На линии, соединяющей центры сопряжений дуг;
- 3) В центре дуги окружности меньшего радиуса;
- 4) В любой точке дуги окружности большего радиуса;

15. Какие проставляются размеры при выполнении чертежа в масштабе, отличном от 1:1?

- 1) Те размеры, которые имеет изображение на чертеже;
- 2) Независимо от масштаба изображения ставятся реальные размеры изделия;
- 3) Размеры должны быть увеличены или уменьшены в соответствии с масштабом.

16. Какие виды сечения вы знаете?

- 1) вынесенные, наложенные
- 2) выносное, накладное;
- 3) центральное и параллельное.

17. Какое максимальное количество видов может быть на чертеже детали?

- 1) Четыре;
- 2) Три;
- 3) Один;
- 4) Шесть.

18. Сколько видов должно содержать изображение какой-либо конкретной детали?

- 1) Один;
- 2) Три;
- 3) Минимальное, но достаточное для однозначного уяснения конфигурации;
- 4) Максимальное число видов;

19. Какой вид называется дополнительным?

- 1) Вид снизу;
- 2) Вид сзади;
- 3) Полученный проецированием на плоскость, не параллельную ни одной из плоскостей проекций;
- 4) Полученный проецированием на плоскость W .

20. Что называется местным видом?

- 1) Изображение только ограниченного места детали;
- 2) Изображение детали на дополнительную плоскость;
- 3) Изображение детали на плоскость W ;
- 4) Вид справа детали;

21. Какой вид детали и на какую плоскость проекций называется ее главным видом?

- 1) Вид сверху, на плоскость H ;
- 2) Вид спереди, на плоскость V ;
- 3) Вид слева, на плоскость W ;
- 4) Вид сзади, на плоскость H ;

22. Возможно ли выполнение дополнительных видов повёрнутыми?

- 1) Нет, ни в коем случае;
- 2) Обязательно, всегда выполняются повёрнутыми;
- 3) Возможно, но дополнительный вид при этом никак не выделяется и не обозначается;
- 4) Возможно, но с сохранением положения, принятого для данного предмета на главном виде и с добавлением слова «Повёрнуто»;

23. Разрез получается при мысленном рассечении предмета секущей плоскостью. При этом на разрезе показывается то, что:

- 1) Получится только в секущей плоскости;
- 2) Находится перед секущей плоскостью;
- 3) Находится за секущей плоскостью;
- 4) Находится в секущей плоскости, и что расположено за ней.

24. Для какой цели применяются разрезы?

- 1) Показать внутренние очертания и форму изображаемых предметов;
- 2) Показать внешнюю конфигурацию и форму изображаемых предметов;
- 3) Применяются при выполнении чертежей любых деталей;
- 4) Применяются только по желанию конструктора;

25. Какие разрезы называются горизонтальными?

- 1) Когда секущая плоскость перпендикулярна горизонтальной плоскости проекций;
- 2) Когда секущая плоскость параллельна горизонтальной плоскости проекций;
- 3) Когда секущая плоскость перпендикулярна оси X;
- 4) Когда секущая плоскость параллельна фронтальной плоскости проекций;

26. Простой разрез получается при числе секущих плоскостей, равных:

- 1) Одной;
- 2) Двум;
- 3) Двум и более;
- 4) Трём;

27 Сложный разрез получается при сечении

- 1) Тремя секущими плоскостями;
- 2) Двумя и более секущими плоскостями;
- 3) Плоскостью, параллельной горизонтальной плоскости проекций;
- 4) Одной секущей плоскостью;

28. Всегда ли нужно обозначать простые разрезы линией сечения?

- 1) Да, обязательно;
- 2) Никогда не нужно обозначать;
- 3) Не нужно, когда секущая плоскость совпадает с плоскостью симметрии детали;
- 4) Не нужно, когда секущая плоскость параллельна горизонтальной плоскости проекций;

29. В каком случае можно соединять половину вида с половиной соответствующего разреза?

- 1) Всегда можно;
- 2) Никогда нельзя;
- 3) Если вид и разрез являются симметричными фигурами;
- 4) Если вид и разрез являются несимметричными фигурами.

30. Если вид и разрез являются симметричными фигурами, то какая линия служит осью симметрии, разделяющей их половины?

- 1) Сплошная тонкая;
- 2) Сплошная основная;
- 3) Штриховая;
- 4) Штрих-пунктирная тонкая.

31. Как изображаются на разрезе элементы тонких стенок типа рёбер жесткости.

- 1) Никак на разрезе не выделяются;
- 2) Выделяются и штрихуются полностью;
- 3) Показываются рассечёнными, но не штрихуются;
- 4) Показываются рассечёнными, но штрихуются в другом направлении по отношению к основной штриховке разреза;

32. Под каким углом осуществляется штриховка металлов (графическое изображение металлов) в разрезах?

- 1) Под углом 30 градусов к линии контура изображения, или к его оси или к линии рамки чертежа;
- 2) Под углом 60 градусов к линии контура изображения, или к его оси или к линии рамки чертежа;
- 3) Под любыми произвольными углами;
- 4) Под углом 45 градусов к линии контура изображения, или к его оси или к линии рамки чертежа;

33. Местный разрез служит для уяснения устройства предмета в отдельном узко ограниченном месте. Граница местного разреза выделяется на виде:

- 1) Сплошной волнистой линией;
- 2) Сплошной тонкой линией;
- 3) Сплошной основной линией;
- 4) Штриховой линией.

34. Всегда ли обозначается положение секущих плоскостей при сложных разрезах?

- 1) Нет, не всегда;
- 2) Да, конечно, всегда;
- 3) Лишь когда не ясно, как проходят секущие плоскости разреза;
- 4) В редких случаях;

35. В сечении показывается то, что:

- 1) Находится перед секущей плоскостью;
- 2) Находится за секущей плоскостью;
- 3) Попадает непосредственно в секущую плоскость;
- 4) Находится непосредственно в секущей плоскости и за ней⁴

36. Контур вынесенного сечения выполняется:

- 1) Сплошной тонкой линией;
- 2) Сплошной основной линией;
- 3) Штриховой линией;

37. Как изображается резьба вала на виде слева

- 1) Наружный диаметр резьбы - сплошная основная, внутренний диаметр - сплошная тонкая, на виде слева - сплошная тонкая линия на $3/4$ длины окружности;
- 2) Наружный диаметр резьбы - сплошная основная, внутренний диаметр - сплошная тонкая, на виде слева - тонкая линия на 360° градусов;
- 3) Наружный и внутренний диаметры резьбы - сплошная основная, на виде слева - сплошная тонкая
- 4) Наружный и внутренний диаметры - сплошная тонкая линия;

38. Какой линией показывается граница нарезанного участка резьбы?

- 1) Волнистой линией;
- 2) Сплошной тонкой линией;
- 3) Сплошной основной линией;
- 4) Штриховой линией;

39. Расшифруйте условное обозначение резьбы $M20 \times 0.75 LH$.

- 1) Резьба метрическая, номинальный диаметр 20мм, шаг 0,75мм, левая;
- 2) Резьба метрическая, номинальный диаметр 0,75мм, шаг 20мм, правая;
- 3) Резьба трубная, номинальный диаметр 0,75мм, шаг 20мм, левая;
- 4) Резьба метрическая, номинальный диаметр 0,75мм, шаг 20мм, левая.

40. От какого диаметра следует проводить выносные линии для обозначения резьбы, выполненной в отверстии?

- 1) От диаметра впадин резьбы, выполняемого сплошной основной линией;
- 2) От внутреннего диаметра резьбы, выполняется сплошной тонкой линией;
- 3) От наружного диаметра резьбы, выполненного сплошной тонкой линией;
- 4) От наружного диаметра резьбы, выполненного сплошной основной линией.

41. Чем отличается обозначение метрической резьбы с крупным шагом от её обозначения с мелким шагом?

- 1) Не отличается ничем;
- 2) К обозначению резьбы добавляется величина крупного шага;
- 3) К обозначению резьбы добавляется величина мелкого шага;
- 4) К обозначению резьбы добавляется приписка LH;

42. В каком случае правильно перечислены разъёмные и неразъёмные соединения?

- 1) Разъёмные: болтовое, шпилечное, винтовое, паяное, шпоночное. Неразъёмные: клеевое, сварное, шовное, заклёпочное.
- 2) Разъёмные: болтовое, шпилечное, винтовое, шпоночное, шлицевое. Неразъёмные: клеевое, сварное, паяное, шовное, заклёпочное.
- 3) Разъёмные: болтовое, шпилечное, винтовое, шпоночное, шовное, сварное. Неразъёмные: клеевое, паяное, шлицевое, заклёпочное.
- 4) Разъёмные: болтовое, шпилечное, винтовое, шпоночное, шовное. Неразъёмные: клеевое, паяное, шлицевое, заклёпочное.

43. Чем отличается эскиз от рабочего чертежа детали?

- 1) Эскиз выполняется в большем масштабе, чем рабочий чертёж;
- 2) Эскиз выполняется с помощью чертёжных инструментов, а рабочий чертёж - от руки;
- 3) Эскиз ничем не отличается от рабочего чертежа;
- 4) Эскиз выполняется от руки; а рабочий чертёж - с помощью чертёжных инструментов.

44. В каком масштабе выполняется эскиз детали?

- 1) В глазомерном масштабе;
- 2) Обычно в масштабе 1:1;
- 3) Обычно в масштабе увеличения;
- 4) Всегда в масштабе уменьшения;

45. Сколько видов должен содержать рабочий чертёж детали?

- 1) Всегда три вида;
- 2) Шесть видов;
- 3) Минимальное, но достаточное для представления форм детали;
- 4) Максимально возможное число видов;

46. Нужны ли все размеры на рабочих чертежах детали?

- 1) Ставятся только габаритные размеры;
- 2) Ставятся размеры, необходимые для изготовления и контроля изготовления детали;
- 3) Ставятся только линейные размеры;
- 4) Ставятся линейные размеры и габаритные;

47. Для чего служит спецификация к сборочным чертежам?

- 1) Спецификация определяет состав сборочной единицы;
- 2) В спецификации указываются габаритные размеры деталей;
- 3) В спецификации указываются габариты сборочной единицы;
- 4) Спецификация содержит информацию о взаимодействии деталей;

48. Для каких деталей наносят номера позиций на сборочных чертежах?

- 1) Для всех деталей, входящих в сборочную единицу;
- 2) Только для нестандартных деталей;
- 3) Только для стандартных деталей;
- 4) Для крепёжных деталей;

49. Какие размеры наносят на сборочных чертежах?

- 1) Все размеры;
- 2) Габаритные, присоединительные, установочные, крепёжные, определяющие работу устройства.
- 3) Только размеры крепёжных деталей;
- 4) Только габаритные размеры.

50. Как штрихуются в разрезе соприкасающиеся детали?

- 1) Одинаково;
- 2) Одна деталь не штрихуется, а другая штрихуется;
- 3) С разным наклоном штриховых линий;
- 4) С разным расстоянием между штриховыми линиями, со смещением штриховых линий, с разным наклоном штриховых линий.

ОТВЕТЫ

Вопросы	ОТВЕТЫ вариант №1	ОТВЕТЫ Вариант №2	ОТВЕТЫ Вариант №3
1	3	1	4
2	3	3	4
3	1	1	1
4	2	1	2
5	2	3	2
6	3	2	4
7	4	3	3
8	2	4	4
9	4	1	1
10	2	2	2
11	4	2	2
12	2	1	3
13	1	1	4
14	1	2	2
15	3	2	2
16	3	1	1
17	1	2	4
18	1	2	3
19	3	2	3
20	1	1	1
21	2	2	2
22	3	3	4
23	1	3	4
24	3	3	1

25	1	3	2
26	2	1	1
27	1	2	2
28	4	2	3
29	3	3	1
30	1	4	4
31	2	1	3
32	3	4	4
33	3	1	1
34	4	2	2
35	2	4	1
36	2	2	2
37	3	1	1
38	4	1	3
39	2	3	1
40	3	3	3
41	4	1	3
42	2	1	1
43	1	1	4
44	2	1	1
45	1	3	3
46	2	2	2
47	1	2	1
48	2	2	1
49	3	3	2
50	3	3	4

Приложения 2. Перечень лабораторно-практических занятий

1.	Краткая история развития чертежа. Общие сведения о стандартах в системе ЕСКД. Доведение КТП.
2.	Форматы и ГОСТы на них (ГОСТ 2.301-68) Выполнение практического задания по усвоению темы (в рабочей тетради) Масштабы и ГОСТы на них (ГОСТ 2.302-68) Правила нанесения размеров.
3.	Линии чертежа, ГОСТ 2.302-68, Задание по выполнению линий чертежа на листе формата А-4
4.	Шрифты чертежные, ГОСТ 2.304-81. Надписи на чертежах. Задание: Написание алфавита (чертежными шрифтами на листе формата А4)
5.	Основная надпись на чертежах. Чертежные форматы. Выполнение основной надписи на листе формата А4. Задание: выполнение надписи и выполнение титульного листа на формате А4;
6.	Деление отрезка прямой. Деление и построение углов. Деление окружности на равные части. Выполнение сопряжений прямых линий и окружностей и по заданным размерам.
7.	Способы и методы геометрических построений, сопряжений кривых, дуг и окружностей и делений окружностей на равные части. Пошагово на вычертить техническую деталь на листе А4.
8.	Алгоритм построения чертежа детали, представленного тремя видами. Изучить с обучающихся метод 3-х проекций и проекционных связей, а также порядок вычерчивания деталей на чертеже в 3-х проекциях и методом проекционных связей.
9.	Изучить методы проецирования в начертательной геометрии. Ортогональные проекции точки. Выполнение задания по построению проекций точки
10.	Геометрические тела. Метод прямоугольного проецирования. Прямоугольные проекции геометрических тел. Выполнение задания по построению прямоугольной проекции геометрического тела.
11.	Общие сведения о стандартах в системе ЕСКД на машиностроительное черчение. Общие правила. Выполнение индивидуальных заданий по использованию стандартов ЕСКД. Графические обозначения материалов и правила их нанесения на

	чертежах. Условности и упрощения на чертежах. Выполнение задания по обозначению материалов, условностей на чертеже.
12.	Основные виды. Классификация разрезов и сечений. Вычертить деталь на листе формата А-4 с тремя видами, разрезом и сечением.
13.	Алгоритм построения окружности в аксонометрии. Вычертить окружность в аксонометрии на листе формата А-4.
14.	Пошаговый алгоритм построения комплексного чертежа. Вычертить комплексный чертеж модели на листе формата А-4
15.	Виды технических рисунков. Алгоритм построения технического рисунка. Элементы технического рисования их использование в чертежах. Нарисовать технический рисунок на листе формата А4.
16.	Проецирование геометрических тел и точек на их поверхностях. Выполнение задания по построению проекций точек на поверхности тел .
17.	Построение развертки и аксонометрической проекции усеченного тела (призмы, цилиндра, пирамиды, конуса, тора, шара).Вычертить развертку и аксонометрическую проекцию усеченного тела (призмы) на листе формата А-4.
18.	Комплексный чертеж группы геометрических тел. Вычертить комплексный чертеж группы геометрических тел на листе А-4.
19.	Изображение группы тел в изометрии. Вычертить чертеж группы геометрических тел в изометрии на листе А-4.
20.	Алгоритм построения комплексного чертежа детали по аксонометрии. Вычертить комплексный чертеж детали по аксонометрии на листе А-4
21.	Классификация разрезов их обозначение. Вычертить деталь (в разрезе) на листе формата А-4 .
22.	Алгоритм построения чертежа детали в аксонометрии по 3-м проекциям. Вычертить чертеж детали в аксонометрии (по 3-м проекциям) на листе формата А-4.
23.	Алгоритм построения чертежа детали в аксонометрии по 3-м проекциям. Вычертить чертеж детали в аксонометрии (по 3-м проекциям) на листе формата А-4.
24.	Методика построения третьей проекции по 2-м заданным и аксонометрии. Вычертить чертеж с построением 3-й проекции по 2-м заданным и аксонометрии на листе формата А-4.
25.	Виды Аксонометрии. Алгоритм построения чертежа детали в аксонометрии. Вычертить чертеж заданной детали в аксонометрии на листе формата А-4.
26.	Алгоритм построения чертежа детали (симметричной фигуры) в аксонометрии. Алгоритм построения чертежа детали с вырезом 1/4 в аксонометрии.
27.	Понятие и предназначение эскиза. Алгоритм выполнения эскиза. Понятие и предназначение рабочего чертежа. Алгоритм выполнения рабочего чертежа. Выполнить эскиз и рабочий чертеж заданной

	детали.
28.	Понятие и предназначение сборочного чертежа. Порядок и алгоритм выполнения сборочного чертежа. Выполнить сборочный чертеж (по заданию) на листе формата А4.
29.	Спецификация на сборочном чертеже. Разрезы и детализирование на сборочных чертежах. Выполнить сборочный чертеж (по заданию) на листе формата А4.
30.	Понятие строительного чертежа, его виды и особенности. Стандарты в оформлении строительных чертежей.
31.	Модульная система построения и чтения чертежей. Условные графические обозначения. Сопровождающие тексты, таблицы, выноски, ссылки в строительных чертежах.
32.	Алгоритм выполнения плана здания. Требования к планам и специфика их вычерчивания.
33.	Понятие и предназначение спецификации. Правила их выполнения. Спецификации и экспликации в строительном черчении.
34.	Вычертить план цеха (пекарни) со спецификацией оборудования на листе А4.
35.	Назначение редактора AutoCad в построении чертежей и проектировании. Слои.
36.	Панели инструментов. Командная строка. Выполнение практического задания по усвоению темы на компьютере в программе Компас-3D .
37.	Методика и приемы работы с графической информацией. Выполнение практического задания по усвоению темы на компьютере в программе Компас-3D .
38.	Линии чертежа. Настройка слоев и типов линий. Выполнение практического задания по усвоению темы на компьютере в программе Компас-3D .
39.	Набор текста , слов в программе Компас-3D . Выбор стиля.
40.	Редактирование текста , слов в программе Компас-3D . Поворот. Вставка символов
41.	Нанесение размеров. Изменение размеров. Изменение стиля в программе Компас-3D .
42.	Настройка слоев. Приемы работы с графической информацией в программе Компас-3D .
43.	Линии чертежа. Методика настройки слоев в зависимости от типов линий. Выполнение практического задания по усвоению темы на компьютере в программе Компас-3D.
44.	Инструменты коррекции: копирование, перемещение, «зеркало», сопряжение, разрыв, масштаб, массив. Выполнение практического задания по усвоению темы на компьютере в программе Компас-3D .
45.	Алгоритм выполнения рамки и штампа чертежа на компьютере. Выполнение практического задания по усвоению темы на компьютере в программе Компас-3D.

46.	Алгоритм выполнения рамки чертежа в 3-х проекциях на компьютере. Выполнение практического задания по усвоению темы на компьютере в программе Компас-3D.
47.	Алгоритм построения вида детали в аксонометрии на компьютере. Выполнение практического задания по усвоению темы на компьютере в программе Компас-3D.
48.	Алгоритм построения разрезов детали в аксонометрических проекциях на компьютере. Выполнение практического задания по усвоению темы на компьютере в программе Компас-3D.
49.	Алгоритм вычерчивания контуров деталей с применением рациональных методов деления окружности на равные части на компьютере. Использование метода сопряжения дуг и окружностей для вычерчивания контуров деталей.
50.	Алгоритм вычерчивания плана цеха (кондитерских изделий). Алгоритм выполнения спецификации оборудования цеха . Выполнение практического задания по усвоению темы на компьютере в программе Компас-3D .
51.	Дифференцированный зачёт

Министерство образования Новосибирской области
Государственное автономное профессиональное образовательное учреждение
Новосибирской области
«НОВОСИБИРСКИЙ КОЛЛЕДЖ ПИЩЕВОЙ ПРОМЫШЛЕННОСТИ
И ПЕРЕРАБОТКИ»

СОГЛАСОВАНО:

Заместитель директора по учебно-
производственной работе

«__» ____ 2022

_____ А.В. Чупина

Комплект контрольно-измерительных средств
по учебной дисциплине
ОП 01 «Инженерная графика»,
на промежуточной аттестации 2022 – 2023 учебного года
для обучающихся по специальности СПО
19.02.03 Технология хлеба, кондитерских и макаронных изделий

Новосибирск

2022 г.

Комплект контрольно-измерительных материалов разработан на основе Федерального государственного образовательного стандарта среднего профессионального образования по специальности 19.02.03 Технология хлеба, кондитерских и макаронных изделий, входящей в состав укрупненной группы специальностей 19.00.00 Промышленная экология и биотехнологии, программы учебной дисциплины ОП 01 «Инженерная графика».

Разработчик:

Государственное автономное профессиональное образовательное учреждение Новосибирской области «Новосибирский колледж пищевой промышленности и переработки», Гулин А.А., преподаватель

Одобрено на заседании предметно-цикловой комиссии комиссии
Общих гуманитарных и социально-экономических дисциплин,
Профессионального цикла по профессиям 19.01.09, 19.01.14 и
специальностям 19.02.07., 19.02.08.

Протокол №_1 от «31»_08_2022 г.

Председатель ПЦК _____ Л.М. Князькова

Содержание

1. Паспорт комплекта контрольно-измерительных материалов	с.3
1.1. Область применения	
1.2. Результаты освоения учебной дисциплины, подлежащие проверке...	с.3
1.3. Организация контроля и оценки освоения программы учебной дисциплины.....	с.3
1.4. Материально-техническое обеспечение контрольно-измерительных мероприятий.....	с.5
2. Комплект материалов для контроля и оценки освоения умений и усвоения знаний	
2.1 Задание для экзаменуемого	
2.2 Задание для экзаменатора	
3. Приложения:.....	с.10
Приложения 1. Тестовые задания для промежуточной аттестации	
Приложения 2. Перечень лабораторно-практических занятий	

1. Паспорт комплекта контрольно-измерительных материалов (ККИМ)

1.1 Область применения

Комплект контрольно-измерительных материалов предназначен для проверки результатов освоения учебной дисциплины ОП 01 «Инженерная графика» по специальности СПО 19.02.03 Технология хлеба, кондитерских и макаронных изделий, входящей в состав укрупненной группы специальностей 19.00.00 Промышленная экология и биотехнологии.

1.2 Результаты освоения учебной дисциплины, подлежащие проверке.

В результате освоения учебной дисциплины обучающийся должен уметь:

- читать конструкторскую и технологическую документацию по профилю специальности;
- выполнять комплексные чертежи геометрических тел и проекции точек, лежащих на их поверхности, в ручной и машинной графике; выполнять эскизы, технические рисунки и чертежи деталей, их элементов, узлов в ручной и машинной графике;
- выполнять графические изображения технологического оборудования и технологических схем и ручной и машинной графике;
- оформлять проектно-конструкторскую, технологическую и другую техническую документацию в соответствии с действующей нормативной базой.

В результате освоения дисциплины обучающийся должен знать:

- правила чтения конструкторской и технологической документации;
- способы графического представления объектов, пространственных образов, технологического оборудования и схем;
- законы, методы и приемы проекционного черчения; требования государственных стандартов Единой системы конструкторской документации (далее - ЕСКД) и Единой системы технологической документации (далее - ЕСТД);
- правила выполнения чертежей, технических рисунков, эскизов и схем;
- технику и принципы нанесения размеров;
- классы точности и их обозначение на чертежах;
- типы и назначение спецификаций, правила их чтения и составления

Общие компетенции:

ОК 1. Понимать сущность и социальную значимость своей будущей профессии, проявлять к ней устойчивый интерес.

ОК 2. Организовывать собственную деятельность, выбирать типовые методы и способы выполнения профессиональных задач, оценивать их эффективность и качество.

ОК 3. Принимать решения в стандартных и нестандартных ситуациях и нести за них ответственность.

ОК 4. Осуществлять поиск и использование информации, необходимой для эффективного выполнения профессиональных задач, профессионального и личностного развития.

ОК 5. Использовать информационно-коммуникационные технологии в профессиональной деятельности.

ОК 6. Работать в коллективе и команде, эффективно общаться с коллегами, руководством, потребителями.

ОК 7. Брать на себя ответственность за работу членов команды (подчиненных), результат выполнения заданий.

ОК 8. Самостоятельно определять задачи профессионального и личностного развития, заниматься самообразованием, осознанно планировать повышение квалификации.

ОК 9. Ориентироваться в условиях частой смены технологий в профессиональной деятельности.

Основные виды профессиональной деятельности и профессиональные компетенции:

ПК 1.1. Организовывать и производить приемку сырья.

ПК 1.2. Контролировать качество поступившего сырья.

ПК 1.3. Организовывать и осуществлять хранение сырья.

ПК 1.4. Организовывать и осуществлять подготовку сырья к переработке.

ПК 2.1. Контролировать соблюдение требований к сырью при производстве хлеба и хлебобулочных изделий.

ПК 2.2. Организовывать и осуществлять технологический процесс изготовления полуфабрикатов при производстве хлеба и хлебобулочных изделий.

ПК 2.3. Организовывать и осуществлять технологический процесс производства хлеба и хлебобулочных изделий.

ПК 2.4. Обеспечивать эксплуатацию технологического оборудования хлебопекарного производства.

ПК 3.2. Организовывать и осуществлять технологический процесс производства сахаристых кондитерских изделий.

ПК 3.3. Организовывать и осуществлять технологический процесс производства мучных кондитерских изделий.

ПК 3.4. Обеспечивать эксплуатацию технологического оборудования при производстве кондитерских изделий.

ПК 4.2. Организовывать и осуществлять технологический процесс производства различных видов макаронных изделий.

ПК 4.3. Обеспечивать эксплуатацию технологического оборудования при производстве различных видов макаронных изделий.

ПК 5.5. Вести утвержденную учетно-отчетную документацию.

Формой аттестации по учебной дисциплине является дифференцированный зачет.

1.3 Организация контроля и оценки освоения программы учебной дисциплины

В результате аттестации по учебной дисциплине осуществляется комплексная проверка следующих умений и знаний, а также динамика формирования общих компетенций:

Таблица 1

Результаты обучения (освоенные умения, усвоенные знания)	Формы и методы контроля и оценки результатов обучения
В результате освоения дисциплины обучающийся должен уметь:	
читать конструкторскую и технологическую документацию по профилю специальности;	практические работы № 1-5, 11-20
выполнять комплексные чертежи геометрических тел и проекции точек, лежащих на их поверхности, в ручной и машинной графике; выполнять эскизы, технические рисунки и чертежи деталей, их элементов, узлов в ручной и машинной графике;	практические работы №18-20, 15,27, 46-49
выполнять графические изображения технологического оборудования и технологических схем и ручной и машинной графике;	практические работы № 32,50
оформлять проектно-конструкторскую, технологическую и другую техническую документацию в соответствии с действующей нормативной базой.	практические работы №33,34,50
В результате освоения дисциплины обучающийся должен знать:	
правила чтения конструкторской и технологической документации;	практические работы №31-37
способы графического представления объектов, пространственных образов, технологического оборудования и схем;	практические работы №38-47, 21-26
законы, методы и приемы проекционного черчения; требования государственных стандартов Единой	Наблюдение, опрос, практическая работа № 9-13 ,

системы конструкторской документации (далее - ЕСКД) и Единой системы технологической документации (далее - ЕСТД);	
правила выполнения чертежей, технических рисунков, эскизов и схем;	практические работы №12-15, 27
технику и принципы нанесения размеров;	практическая работа №2
классы точности и их обозначение на чертежах;	Опрос, практическая работа №5
типы и назначение спецификаций, правила их чтения и составления;	Наблюдение, опрос, практические работы №29,33,50,51
Итоговая аттестация	Дифференцированный зачет

Контроль и оценка осуществляются с использованием следующих форм и методов: наблюдение, опрос, тестирование, собеседование, защита самостоятельных и практических работ. Оценка освоения дисциплины предусматривает использование бально-рейтинговой системы оценки успеваемости обучающихся (оценка производится в соответствии с рейтинг-планом) и проведения экзамена.

Рейтинг – план по учебной дисциплине ОП 01 «Инженерная графика» :

№п/п	Учебная деятельность студента в семестре	Баллы	Штрафные баллы
I. Посещаемость (max - 60 баллов)			
1.	<i>Посещение учебных занятий (отсутствие пропусков)</i>	60	
2.	Посетил все теоретические занятия	нет	
3.	Посетил все практические занятия	60	
4.	Пропуски по уважительной причине	0	
5.	Пропуски без уважительных причин (за 1 пропущенное занятие)		- 1
6.	Опоздание на учебное занятие (за 1 опоздание)		- 0,5

II. Освоение ППСЗ (max – 185 баллов)			
7.	Своевременное выполнение домашнего задания (за 1)	3 - 5	
8.	Несвоевременное выполнение домашнего задания (за 1)		- 1
9.	Своевременно сданные контрольные точки (за 1 тест, контрольную работу, опрос)	3 - 5	
10.	Своевременное выполнение всех видов самостоятельной работы (за 1 СР)	3 - 5	
11.	Несвоевременное выполнение всех видов самостоятельной работы (за 1 СР)		- 1
12.	Своевременная отработка пропущенных учебных занятий	1	
III. Внеаудиторная работа по дисциплине /ПМ (max - 25 баллов)			
	Выступление с докладом на научно-практических конференциях:		
	- внутри колледжа	3	
	- городских;	5	
	- окружных, региональных, областных;	6	
	- межрегиональных;	8	
	- международных	10	
13.	Очное участие в конкурсах, олимпиадах по дисциплине		
	- внутри колледжа	3	
	- городских;	5	
	- окружных, региональных, областных;	6	
	- межрегиональных;	8	
	- международных	10	
14.	Участие в олимпиадах, конкурсах профессионального мастерства		
	- внутри колледжа	3	
	- городских;	5	

	- окружных, региональных, областных;	6	
	- межрегиональных;	8	
	- международных	10	
15.	Дистанционное участие в конференциях и конкурсах различного уровня	5	
16.	Публикации:		
	- на уровне округа, области, региона	6	
	- межрегиональные;	8	
	- международные	10	
17.	Написание и защита учебно-исследовательского проекта	10	
18.	Участие в подготовке и проведении научно-практических конференций, профессиональных конкурсов и т.п.	5	
19.	Изготовление учебных таблиц, фильмов, наглядных пособий, составление комплектов информационных материалов (объектов) по дисциплине / ПМ.	10	
	ИТОГО:	270	

Пересчет полученной суммы баллов по дисциплине в оценку

Сумма баллов	Оценка
204 - 165	«удовлетворительно»
244 - 205	«хорошо»
270 - 245	«отлично»
менее 164	«неудовлетворительно»

1.4. Материально-техническое обеспечение контрольно-измерительных занятий

Контрольно-оценочные мероприятия проводятся в учебном кабинете №212
Оборудование и технологическое оснащение рабочих мест учебного кабинета:

- рабочие столы;
- компьютер с программой компьютерного черчения и проектирования
- комплект учебно-методической документации;
- комплект практических заданий по темам;
- комплект моделей деталей;

– электронные учебники.

Технические средства обучения: компьютер, проектор.

2. Комплект материалов для контроля и оценки освоения умений и усвоения знаний

2.1 ЗАДАНИЕ ДЛЯ зачета

Список вопросов для подготовки

Тренировочные задачи (задания) для подготовки к зачету

Вопросы к зачету по инженерной графике

1. Как определяются размеры форматов листов оригиналов?
2. Какой формат принимается за основной?
3. На какие чертежи не распространяются градации масштабов, предусмотренных стандартом?
4. Что называется масштабом чертежа?
5. Какие основные масштабы уменьшения и увеличения установлены стандартом?
6. Как обозначаются масштабы в графе основной надписи и на поле чертежа?
7. Какие основные типы линий употребляются в черчении?
8. Что такое размер шрифта?
9. Как определяется высота строчных букв?
10. Какие основные размеры шрифта установлены ГОСТ?
11. Плоские кривые линии. Эллипс. Построение касательной и нормали в произвольной точке.
12. Плоские кривые линии. Парабола, циклоида, эвольвента, синусоида, эллипс. Построение касательной и нормали в произвольной точке.
13. Сопряжения и их элементы.
14. Изображение на какой плоскости проекций принимается на чертеже в качестве главного?
15. Что такое вид? Что следует использовать для уменьшения числа видов?
16. Что такое разрез? Что показывают на разрезе?
17. Что такое сечение?
18. Как отмечают виды, не находящиеся в непосредственной проекционной связи, как указывают и обозначают направление проецирования?
19. В каких случаях применяют дополнительные виды?
20. Как разделяют разрезы в зависимости от числа секущих плоскостей?
21. Какие разрезы называются фронтальными и профильными?
22. Какой разрез называют ступенчатым, а какой - ломаным?
23. Как указывается на чертежах положение секущей плоскости?
24. Какой разрез называется местным?
25. В каких случаях допускается соединять часть вида и часть разреза?

26. В каких случаях строят не сечение, а разрез?
27. Что называется выносным элементом, и какие подробности о деталях он может содержать?
28. Как отмечают на виде разрезе или сечении место применения выносного элемента?
29. Где располагают на чертеже выносной элемент?
30. В каких случаях изображается условно или не показывается плавный переход от одной поверхности к другой?
31. Какова особенность вычерчивания в продольных разрезах: винтов, заклепок, шпонок, не пустотелых валов, шпинделей и т.п.?
32. Какие предметы допускается вычерчивать с разрывом?
33. Какое общее количество размеров должно быть на чертеже?
34. Какие размеры называются справочными и как они обозначаются?
35. Какие размеры не допускается повторять на разных изображениях?
36. Как допускается изображать конусность и уклон?
37. Как наносят размеры криволинейного контура?
38. Как и в каких случаях проводят размерные линии с обрывом?
39. Как указывают размеры толщины или длины детали, изображенной в одной проекции?
40. Как изображают резьбу на стержне: при изображении на плоскости, параллельной оси стержня и на видах, полученных на плоскости, перпендикулярной оси стержня?
41. Как изображают резьбу в отверстии? Как изображают резьбу на разрезах, параллельных оси отверстия и на плоскость, перпендикулярную оси отверстия?
42. Как изображают шлицы на головках крепежных деталей?
43. Какие детали на сборочном чертеже показываются не рассеченными?
44. Виды изделий. Деталь. Сборочная единица. Комплекс. Комплект. Дайте определение каждому.
45. Стадии разработки конструкторской документации. Виды конструкторских документов, разрабатываемых на каждой стадии.
46. Содержание чертежа общего вида и на каких стадиях проектирования он разрабатывается.
47. Содержание и назначение сборочного чертежа.
48. Какие размеры проставляют на сборочном чертеже?
49. Как на сборочном чертеже изображаются уклоны, конусности отверстия и т.п. размерами менее 2 мм?
50. Содержание рабочего чертежа. Стадия разработки.
51. Что такое спецификация изделия? Основные разделы спецификации в порядке их заполнения.
52. Виды соединений. Какие соединения относятся к разъемным?
53. Какие соединения относятся к неразъемным?
54. Какова структура обозначения швов сварных соединений?
55. В чем отличие изображений видимого и невидимого сварного шва?
56. В чем отличие обозначения клевого соединения от соединения пайкой?

57. Резьба. Определение. Основные параметры. Виды поверхностей, ограничивающих резьбу.
58. Классификация резьб.
59. Изображение и обозначение резьб на чертежах.
60. Особенности обозначения многозаходных резьб.
61. Порядок расчета дины болта, шпильки и винта в соответствующих соединениях.
62. Упрощенные и условные изображения резьбовых соединений.
63. Что такое чертеж детали?
64. Что такое эскиз детали?
65. Последовательность составления эскиза детали.
66. Порядок чтения чертежа общего вида.
67. Порядок составления эскиза при детализации по чертежу общего вида.
68. Условности и упрощения при выполнении сборочных чертежей.
69. Назначение САПР. Уровни САПР и их возможности.
70. Виды соединений. Какие соединения относятся к разъемным?
71. Какие соединения относятся к неразъемным?
72. Какова структура обозначения швов сварных соединений?
73. В чем отличие изображений видимого и невидимого сварного шва?

ЗАДАЧИ ПО ИНЖЕНЕРНОЙ ГРАФИКЕ

Задание 1.

Вопрос 1. Какими размерами определяются форматы чертежных листов?

- 1) Любыми произвольными размерами, по которым вырезан лист;
- 2) Обрамляющей линией (рамкой формата), выполняемой сплошной основной линией;
- 3) Размерами листа по длине;
- 4) Размерами внешней рамки, выполняемой сплошной тонкой линией;
- 5) Размерами листа по высоте.

Вопрос 2. Где располагается основная надпись чертежа по форме 1 на чертежном листе?

- 1) Посередине чертежного листа;
- 2) В левом верхнем углу, примыкая к рамке формата;
- 3) В правом нижнем углу;
- 4) В левом нижнем углу;
- 5) В правом нижнем углу, примыкая к рамке формата.

Вопрос 3. Толщина сплошной основной линии в зависимости от сплошности изображения и формата чертежа лежит в следующих пределах?

- 1) 0,5 2,0 мм.;
- 2) 1,0 1,5 мм.;
- 3) 0,5 1,4 мм.;
- 4) 0,5 1,0 мм.;

5) 0,5 1,5 мм.

Вопрос 4. По отношению к толщине основной линии толщина разомкнутой линии составляет?

- 1) (0,5 1,0) S;
- 2) (1,0 2,0) S;
- 3) (1,0 2,5) S;
- 4) (0,8 1,5) S;
- 5) (1,0 1,5) S.

Вопрос 5. Масштабы изображений на чертежах должны выбираться из следующего ряда?

- 1) 1:1; 1:2; 1:2,5; 1:3; 1:4; 1:5; 2:1; 2,5:1; 3:1; 4:1; 5:1.....
- 2) 1:1; 1:2; 1:2,5; 1:4; 1:5; 2:1; 2,5:1; 4:1; 5:1.....
- 3) 1:1; 1:2; 1:4; 1:5; 2:1; 4:1; 5:1.....
- 4) 1:2; 1:2,5; 1:4; 1:5; 2:1; 2,5:1; 4:1; 5:1.....
- 5) 1:1; 1:2,5; 1:5; 2:1; 2,5:1; 5:1.....

Задание 2.

Вопрос 1. Размер шрифта h определяется следующими элементами?

- 1) Высотой строчных букв;
- 2) Высотой прописных букв в миллиметрах;
- 3) Толщиной линии шрифта;
- 4) Шириной прописной буквы А, в миллиметрах;
- 5) Расстоянием между буквами.

Вопрос 2. ГОСТ устанавливает следующие размеры шрифтов в миллиметрах?

- 1) 1; 2; 3; 4; 5; 6; 7; 8; 9; 10.....
- 2) 1,5; 2,5; 3,5; 4,5; 5,5; 6,5.....
- 3) 2; 4; 6; 8; 10; 12.....
- 4) 1,8; 2,5; 3,5; 5; 7; 10; 14; 20.....
- 5) 1; 3; 5; 7; 9; 11; 13.....

Вопрос 3. Толщина линии шрифта d зависит от?

- 1) От толщины сплошной основной линии S;
- 2) От высоты строчных букв шрифта;
- 3) От типа и высоты шрифта;
- 4) От угла наклона шрифта;
- 5) Не зависит ни от каких параметров и выполняется произвольно.

Вопрос 4. В соответствии с ГОСТ 2.304-81 шрифты типа А и Б выполняются?

- 1) Без наклона и с наклоном 60°;
- 2) Без наклона и с наклоном около 75°;
- 3) Только без наклона;
- 4) Без наклона и с наклоном около 115°;

5) Только с наклоном около 75°.

Вопрос 5. Какой может быть ширина букв и цифр стандартных шрифтов?

- 1) Ширина букв и цифр одинакова;
- 2) Ширина всех букв одинакова, а всех цифр другая;
- 3) Ширина абсолютно всех букв и цифр произвольная;
- 4) Ширина букв и цифр определяются высотой строчных букв;
- 5) Ширина букв и цифр определяются размером шрифта.

Задание 3.

Вопрос 1. В каких единицах измерения указываются линейные и угловые размеры на чертежах?

- 1) В сотых долях метра и градусах;
- 2) В микронах и секундах;
- 3) В метрах, минутах и секундах;
- 4) В дюймах, градусах и минутах;
- 5) В миллиметрах, градусах минутах и секундах.

Вопрос 2. При нанесении размера дуги окружности (части окружности) используют следующий знак?

- 1) R;
- 2) R;
- 3) R/2;
- 4) Нет специального обозначения;
- 5) Сфера.

Вопрос 3. На (Рис. СЗ-1) показаны шрифты правильных и ошибочных расположений размерных линий. Определите, под каким номером обозначен правильный чертеж?

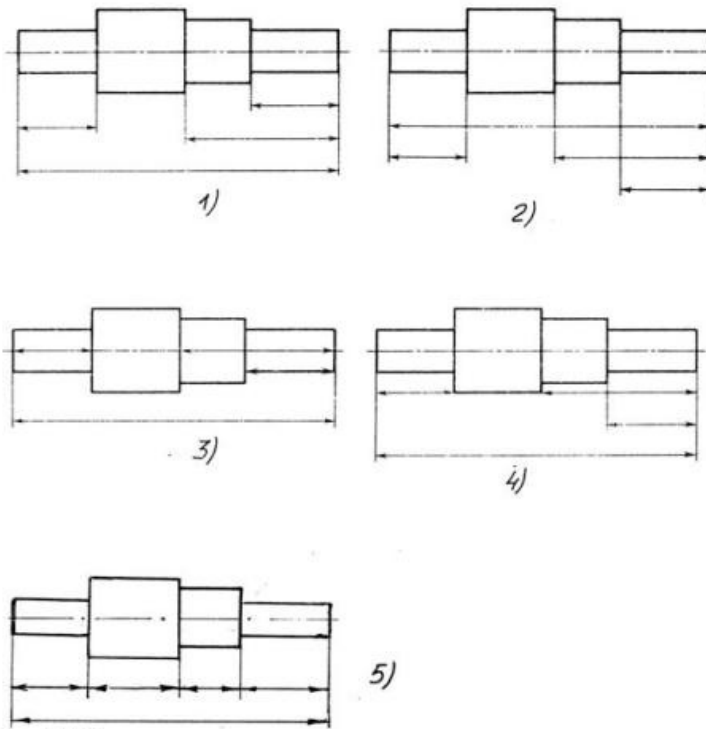


Рис. С3-1.

- 1) Правильный вариант ответа №1;
- 2) Правильный вариант ответа №2;
- 3) Правильный вариант ответа №3;
- 4) Правильный вариант ответа №4;
- 5) Правильный вариант ответа №5;

Вопрос 4. Определите, на каком чертеже правильно записаны размерные числа (см. Рис. С3-2)?

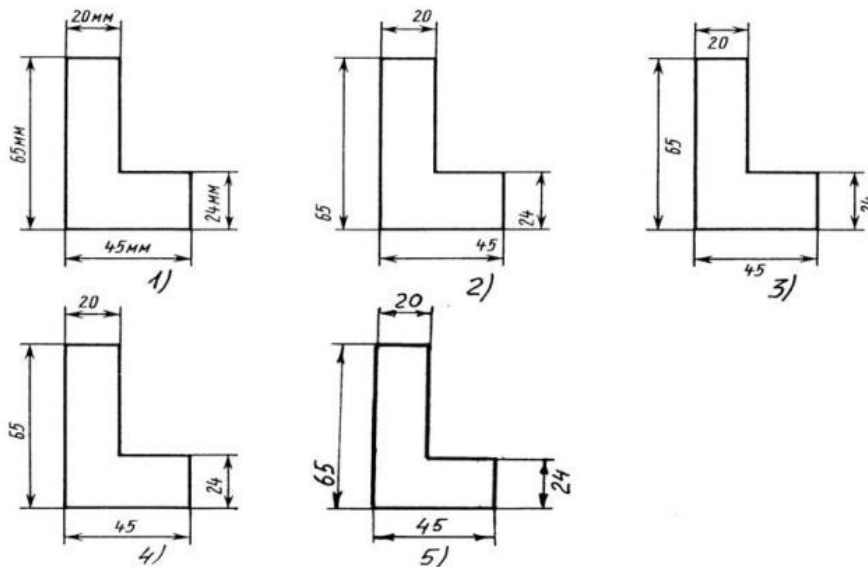


Рис. С3-2.

- 1) Правильный вариант ответа №1;
- 2) Правильный вариант ответа №2;
- 3) Правильный вариант ответа №3;

- 4) Правильный вариант ответа №4;
- 5) Правильный вариант ответа №5;

Вопрос 5. На каком чертеже правильно нанесены величины диаметра и квадрата (см. Рис. СЗ-3)?

- 1) Правильный вариант ответа №1;
- 2) Правильный вариант ответа №2;
- 3) Правильный вариант ответа №3;
- 4) Правильный вариант ответа №4;
- 5) Правильный вариант ответа №5;

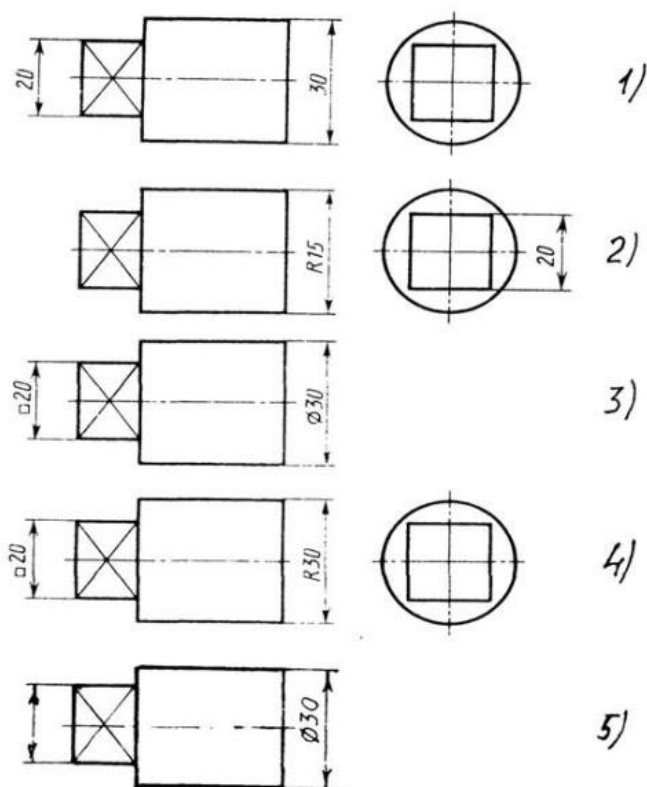


Рис. СЗ-3

Задание 4.

Вопрос 1. Какими линиями выполняют вспомогательные построения при выполнении элементов геометрических построений?

- 1) Сплошными основными;
- 2) Сплошными тонкими;
- 3) Штрих-пунктирными;
- 4) Штриховыми;
- 5) Сплошной волнистой.

Вопрос 2. На каком расстоянии от контура рекомендуется проводить размерные линии?

- 1) Не более 10 мм;
- 2) От 7 до 10 мм;

- 3) От 6 до 10 мм;
- 4) От 1 до 5 мм;
- 5) Не более 15 мм.

Вопрос 3. На каком расстоянии друг от друга должны быть параллельные размерные линии?

- 1) Не более 7 мм;
- 2) Не более 10 мм;
- 3) От 7 до 10 мм;
- 4) От 6 до 10 мм;
- 5) Не менее 17 мм.

Вопрос 4. Чему должен быть равен раствор циркуля при делении окружности на шесть равных частей?

- 1) Диаметру окружности.
- 2) Половине радиуса окружности.
- 3) Двум радиусам окружности.
- 4) Двум диаметрам окружности.
- 5) Радиусу окружности.

Вопрос 5. В каком случае показано правильное расположение центровых линий окружностей (см. Рис. СЗ-4)?

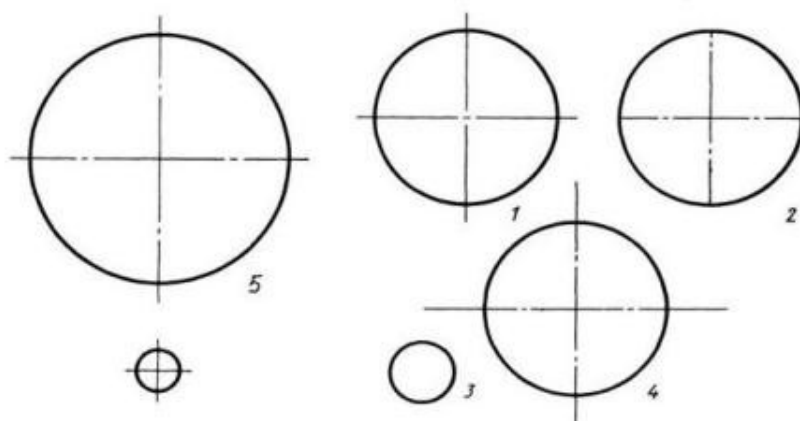


Рис. СЗ-4.

- 1) Правильный вариант ответа №1;
- 2) Правильный вариант ответа №2;
- 3) Правильный вариант ответа №3;
- 4) Правильный вариант ответа №4;
- 5) Правильный вариант ответа №5;

Задание 5.

Вопрос 1. В каком месте должна находиться точка сопряжения дуги с дугой?

- 1) В центре дуги окружности большего радиуса;
- 2) На линии, соединяющей центры сопряжений дуг;
- 3) В центре дуги окружности меньшего радиуса;
- 4) В любой точке дуги окружности большего радиуса;
- 5) Это место определить невозможно.

Вопрос 2. Уклон 1:5 означает, что длина одного катета прямоугольного треугольника равна?

- 1) Одной единице, а другого четыре;
- 2) Пяти единицам, а другого тоже пяти;
- 3) Пяти единицам, а другого десяти;
- 4) Двум единицам, а другого восьми;
- 5) Одной единице, а другого пяти.

Вопрос 3. Какие проставляются размеры при выполнении чертежа в масштабе, отличном от 1:1?

- 1) Те размеры, которые имеет изображение на чертеже;
- 2) Увеличение в два раза;
- 3) Уменьшение в четыре раза;
- 4) Независимо от масштаба изображения ставятся реальные размеры изделия;
- 5) Размеры должны быть увеличены или уменьшены в соответствии с масштабом.

Вопрос 4. Конусность 1:4 означает, что?

- 1) Диаметр основания составляет 1 часть, а высота 4 части;
- 2) Диаметр основания составляет 4 части, а высота 1 часть;
- 3) Диаметр основания составляет 1 часть, а высота 5 частей;
- 4) Соотношение величин диаметра и высоты конуса одинакова;
- 5) Диаметр составляет третью часть от высоты конуса.

Вопрос 5. На каком чертеже (см. Рис. СЗ-5) рационально нанесены величины радиусов, диаметров, толщины деталей и размеры, определяющие расположение отверстий?

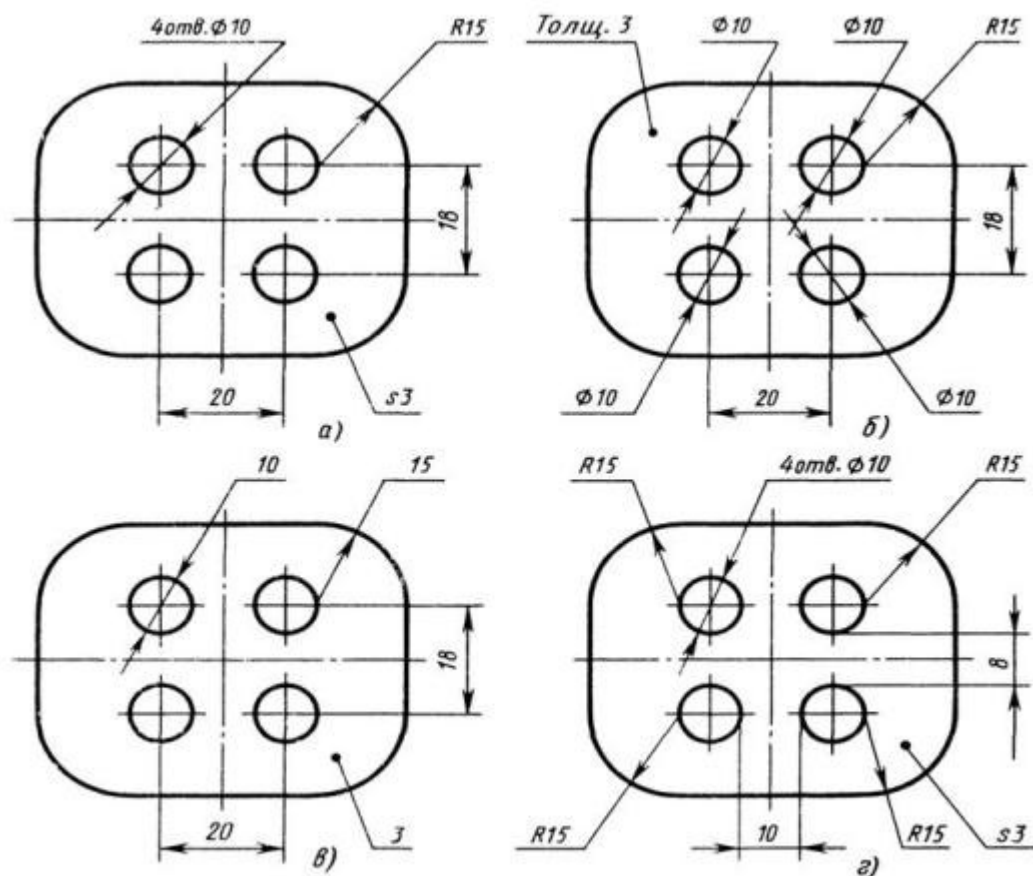


Рис. СЗ-5.

- 1) На первом чертеже;
- 2) На втором чертеже;
- 3) На третьем чертеже;
- 4) На четвертом чертеже;
- 5) Нет правильного ответа.

Задание 6.

Вопрос 1. Точка может быть однозначно определена в пространстве, если она спроецирована?

- 1) На две плоскости проекций;
- 2) На одну плоскость проекций;
- 3) На ось x ;
- 4) На три плоскости проекций;
- 5) На плоскость проекций V .

Вопрос 2. Как расположена в пространстве горизонтальная плоскость проекций? Координатного треугольника?

- 1) Параллельно оси x ;
- 2) Перпендикулярно оси y ;
- 3) Параллельно угловой линии горизонта;
- 4) Параллельно плоскости V ;
- 5) Параллельно оси z .

Вопрос 3. Профильная плоскость проекций для координатного трехгранника вводится?

- 1) Параллельно плоскости V;
- 2) Параллельно плоскости H;
- 3) Перпендикулярно оси y;
- 4) Перпендикулярно оси z;
- 5) Перпендикулярно плоскостям H и V.

Вопрос 4. Трехгранный комплексный чертеж образуется?

- 1) Поворотом плоскости H вверх, а плоскости W вправо;
- 2) Поворотом плоскости H вниз, а плоскости W влево;
- 3) Поворотом плоскости H вниз, а плоскости W вправо на 90°;
- 4) Поворотом плоскости H вниз, а плоскости W вправо на 180°;
- 5) Поворотом только плоскости W вправо на 90°.

Вопрос 5. Линия связи на трехкартинном комплексном чертеже, соединяющая горизонтальную и фронтальную проекции точек, проходит?

- 1) Параллельно оси x;
- 2) Под углом 60° к оси z;
- 3) Под углом 75° к оси x;
- 4) Под углом 90° к оси x;
- 5) Под углом 90° к оси y.

Задание 7.

Вопрос 1. Отрезок общего положения в пространстве расположен?

- 1) Перпендикулярно оси z;
- 2) Под углом 30° к оси z, 60° к оси y;
- 3) Параллельно оси x;
- 4) Под углом 90° к плоскости W;
- 5) Под углом 60° к плоскости H.

Вопрос 2. Фронтально-проецирующая прямая - это прямая, которая?

- 1) Параллельно оси x;
- 2) Перпендикулярно плоскости V;
- 3) Перпендикулярно плоскости H;
- 4) Параллельно оси z;
- 5) Параллельно плоскости V.

Вопрос 3. Горизонтальная прямая или сокращенно горизонталь расположена?

- 1) Параллельно плоскости H;
- 2) Перпендикулярно плоскости H;

- 3) Перпендикулярно оси x ;
- 4) Параллельно плоскости V ;
- 5) Перпендикулярно плоскости W .

Вопрос 4. Сколько Вы знаете вариантов задания проекций плоскостей на комплексном чертеже?

- 1) Два;
- 2) Три и четыре дополнительных;
- 3) Семь;
- 4) Пять;
- 5) Шесть основных и три дополнительных.

Вопрос 5. Может ли фронтально-проецирующая плоскость одновременно быть профильной плоскостью?

- 1) Нет, никогда;
- 2) Может, если она наклонена к плоскости W под углом 60° ;
- 3) Может, если она наклонена к плоскости H под углом 75° ;
- 4) Может, если она параллельна профильной плоскости проекций W ;
- 5) Является профильной плоскостью в любом случае.

Задание 8.

Вопрос 1. Для построения проекции точки в прямоугольной приведенной изометрии пользуются следующим правилом?

- 1) Откладывают по всем осям отрезки, равные натуральным величинам координат;
- 2) По осям x и z откладывают натуральные величины координат, но y - в 3 раза меньше;
- 3) По осям x и y откладывают натуральные величины координат, но z - в 2 раза меньше;
- 4) По осям x и z откладывают натуральные величины координат, но y - в 2 раза меньше;
- 5) По x , y и z откладывают величины, в 2 раза меньше, чем натуральная величина.

Вопрос 2. В прямоугольной приведенной изометрии проекции окружности в плоскостях, параллельных трем плоскостям координатного трехгранника будут?

- 1) Все три разные;
- 2) В плоскостях $хоу$ и $уоz$ одинаковые, а в плоскости $хоz$ – другая;

- 3) Все три одинаковые;
- 4) В плоскостях $хоу$ и $хоз$ одинаковые, а в плоскости $уоз$ – другая;
- 5) В плоскостях $хоу$ и $уоз$ одинаковые, а в плоскости $хоз$ - в 2 раза меньше.

Вопрос 3. Как располагаются координатные оси в прямоугольной изометрии относительно друг друга?

- 1) Произвольно все три оси;
- 2) x и y под углами 180° , а z под углами 90° к ним;
- 3) x и y под углами 90° , а z под углами 135° к ним;
- 4) Под углами 120° друг к другу;
- 5) x и y под углом 120° друг к другу, а z под углом 90° к оси x .

Вопрос 4. Как располагаются оси в прямоугольной диметрии по отношению к горизонтальной прямой?

- 1) z вертикально; x и y под углами 30° ;
- 2) z вертикально; x под углом $\approx 70^\circ$, ось y под углом $\approx 41^\circ$.
- 3) x вертикально; z под углом $\approx 70^\circ$, ось y под углом $\approx 41^\circ$.
- 4) z вертикально; x и y горизонтально, соответственно, влево и вправо;
- 5) x вертикально; z и y горизонтально, соответственно, влево и вправо.

Вопрос 5. Каковы приведенные коэффициенты искажения по осям в приведенной прямоугольной диметрии?

- 1) По осям x и y по $0,94$ по оси z - $0,47$;
- 2) По осям x и y по $0,47$ по оси z - $0,94$;
- 3) По осям x и z по $0,94$ по оси y - $0,47$;
- 4) По осям x и z по $1,0$ по оси y - $0,5$;
- 5) По осям x и y по $0,5$ по оси z - $1,0$.

Задание 9.

Вопрос 1. Для прямой призмы число боковых сторон будет равно?

- 1) Пяти;
- 2) Восьми;
- 3) Числу сторон многоугольника в основании плюс 2;
- 4) Числу сторон многоугольника в основании;
- 5) Площади многоугольника в основании.

Вопрос 2. Чему равно расстояние между центрами эллипсов (по высоте) для прямоугольной изометрии прямого кругового цилиндра?

- 1) Диаметру окружности основания цилиндра;
- 2) Высоте образующей цилиндра;
- 3) Радиусу окружности основания цилиндра;
- 4) Диаметру окружности, увеличенному в $1,22$ раза;
- 5) Диаметру окружности, уменьшенному в $1,22$ раза.

Вопрос 3. Боковые стороны пирамиды представляют собой?

- 1) Четырехугольники;

- 2) Пятиугольники;
- 3) Квадраты;
- 4) Параллелограммы;
- 5) Треугольники.

Вопрос 4. Для определения недостающей проекции точки, принадлежащей поверхности конуса, через известную проекцию точки можно провести?

- 1) Образующую или окружность, параллельную основанию;
- 2) Две образующих;
- 3) Две окружности, параллельные основанию;
- 4) Образующую или эллипс;
- 5) Окружность или параболу.

Вопрос 5. Высота конуса (расстояние от центра эллипса до вершины) в прямоугольной изометрии равна?

- 1) Диаметру окружности, увеличенному в 1,22 раза;
- 2) Диаметру окружности;
- 3) Высоте конуса (расстоянию от центра окружности до вершины) на комплексном чертеже;
- 4) Длине образующей;
- 5) Длине образующей, увеличенной в 1,22 раза.

Задание 10.

Вопрос 1. Какое максимальное количество видов может быть на чертеже детали?

- 1) Две;
- 2) Четыре;
- 3) Три;
- 4) Один;
- 5) Шесть.

Вопрос 2. Сколько видов должно содержать изображение какой-либо конкретной детали?

- 1) Один;
- 2) Три;
- 3) Минимальное, но достаточное для однозначного уяснения конфигурации;
- 4) Максимальное число видов;
- 5) Шесть.

Вопрос 3. Какой вид называется дополнительным?

- 1) Вид справа;

- 2) Вид снизу;
- 3) Вид сзади;
- 4) Полученный проецированием на плоскость, не параллельную ни одной из плоскостей проекций;
- 5) Полученный проецированием на плоскость W .

Вопрос 4. Что называется местным видом?

- 1) Изображение только ограниченного места детали;
- 2) Изображение детали на дополнительную плоскость;
- 3) Изображение детали на плоскость W ;
- 4) Вид справа детали;
- 5) Вид снизу.

Вопрос 5. Какой вид детали и на какую плоскость проекций называется ее главным видом?

- 1) Вид сверху, на плоскость H ;
- 2) Вид спереди, на плоскость V ;
- 3) Вид слева, на плоскость W ;
- 4) Вид сзади, на плоскость H ;
- 5) Дополнительный вид, на дополнительную плоскость.

Задание 11.

Вопрос 1. Даны два вида деталей: главный вид и вид слева. Определите вид сверху из предложенных вариантов.

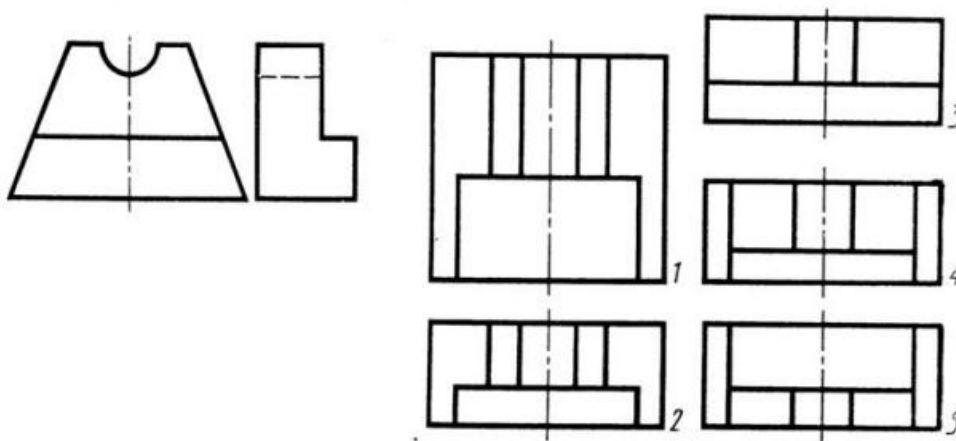


Рис. С3-6

- 1) Правильный вариант ответа №1;
- 2) Правильный вариант ответа №2;
- 3) Правильный вариант ответа №3;

- 4) Правильный вариант ответа №4;
- 5) Правильный вариант ответа №5.

Вопрос 2. Определить вид слева детали по заданным главному виду и виду сверху. (см. Рис. С3-7)

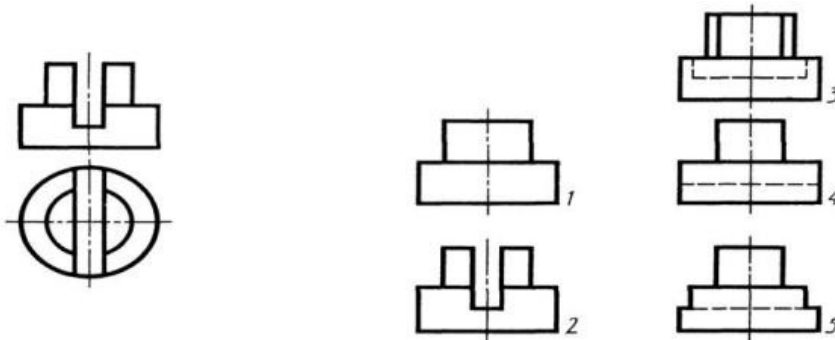


Рис. С3-7.

- 1) Правильный вариант ответа №1;
- 2) Правильный вариант ответа №2;
- 3) Правильный вариант ответа №3;
- 4) Правильный вариант ответа №4;
- 5) Правильный вариант ответа №5.

Вопрос 3. По главному виду и виду сверху определить, какой из пяти видов будет для этой детали видом слева (Рис. С3-8).

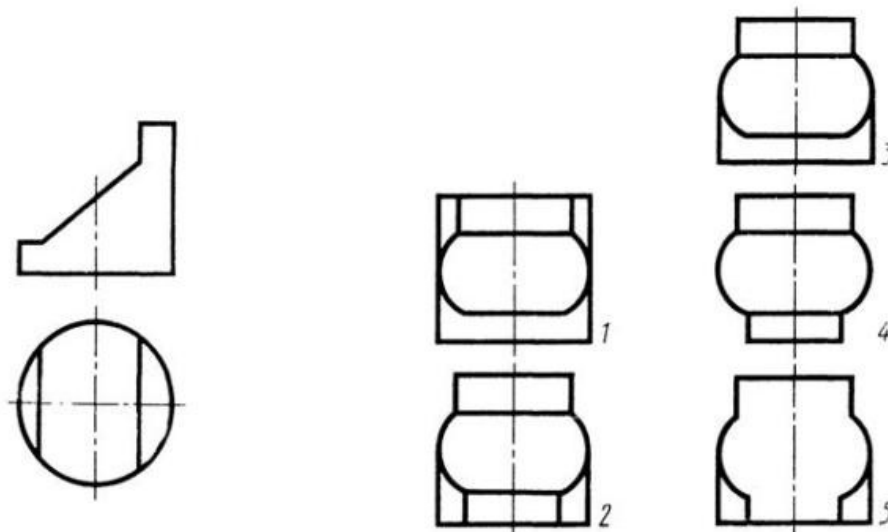


Рис. С3-8.

- 1) Правильный вариант ответа №1;
- 2) Правильный вариант ответа №2;
- 3) Правильный вариант ответа №3;

- 4) Правильный вариант ответа №4;
- 5) Правильный вариант ответа №5;

Вопрос 4. Когда на чертеже делают надписи названий основных видов?

- 1) Всегда делают;
- 2) Когда виды сверху, слева, справа, снизу, сзади смещены относительно главного изображения;
- 3) Никогда не делают;
- 4) Когда нужно показать дополнительный вид;
- 5) Только когда нужно показать вид сверху.

Вопрос 5. Возможно ли выполнение дополнительных видов повёрнутыми?

- 1) Нет, ни в коем случае;
- 2) Обязательно, всегда выполняются повёрнутыми;
- 3) Возможно, но дополнительный вид при этом никак не выделяется и не обозначается;
- 4) Возможно, но с сохранением положения, принятого для данного предмета на главном виде и с добавлением слова «Повёрнуто»;
- 5) Возможно, но дополнительный вид выполняется только в проекционной связи по отношению к главному.

Задание 12.

Вопрос 1. Разрез получается при мысленном рассечении предмета секущей плоскостью. При этом на разрезе показывается то, что:

- 1) Получится только в секущей плоскости;
- 2) Находится перед секущей плоскостью;
- 3) Находится за секущей плоскостью;
- 4) Находится под секущей плоскостью;
- 5) Находится в секущей плоскости, и что расположено за ней.

Вопрос 2. Для какой цели применяются разрезы?

- 1) Показать внутренние очертания и форму изображаемых предметов;
- 2) Показать внешнюю конфигурацию и форму изображаемых предметов;
- 3) Применяются при выполнении чертежей любых деталей;
- 4) Применяются только по желанию конструктора;
- 5) Чтобы выделить главный вид по отношению к остальным.

Вопрос 3. Какие разрезы называются горизонтальными?

- 1) Когда секущая плоскость перпендикулярна горизонтальной плоскости проекций;
- 2) Когда секущая плоскость параллельна горизонтальной плоскости проекций;
- 3) Когда секущая плоскость перпендикулярна оси X;

- 4) Когда секущая плоскость параллельна фронтальной плоскости проекций;
- 5) Когда секущая плоскость параллельна профильной плоскости проекций.

Вопрос 4. Вертикальными называются разрезы, получающиеся, когда секущая плоскость:

- 1) Перпендикулярна оси Z;
- 2) Перпендикулярна фронтальной плоскости проекций;
- 3) Перпендикулярна горизонтальной плоскости проекций;
- 4) Параллельна горизонтальной плоскости проекций;
- 5) Параллельна направлению стрелки дополнительного вида.

Вопрос 5. Какие вы знаете вертикальные разрезы?

- 1) Горизонтальный и фронтальный;
- 2) Горизонтальный и профильный;
- 3) Горизонтальный и наклонный;
- 4) Наклонный и фронтальный;
- 5) Фронтальный и профильный.

Задание 13.

Вопрос 1. Простой разрез получается при числе секущих плоскостей, равных:

- 1) Одной;
- 2) Двум;
- 3) Двум и более;
- 4) Трём;
- 5) Трём и более.

Вопрос 2. Сложный разрез получается при сечении предмета:

- 1) Тремя секущими плоскостями;
- 2) Двумя и более секущими плоскостями;
- 3) Плоскостью, параллельной горизонтальной плоскости проекций;
- 4) Одной секущей плоскостью;
- 5) Плоскостями, параллельными фронтальной плоскости проекций.

Вопрос 3. Сложные разрезы делятся на ступенчатые и ломаные. При этом ступенчатые - это разрезы, секущие плоскости которых располагаются:

- 1) Параллельно друг другу;
- 2) Перпендикулярно друг другу;
- 3) Под углом 75 градусов друг к другу;
- 4) Под углом 30 градусов друг к другу;
- 5) Под любым, отличным от 90 градусов углом друг к другу.

Вопрос 4. Всегда ли нужно обозначать простые разрезы линией сечения?

- 1) Да, обязательно;
- 2) Никогда не нужно обозначать;

- 3) Не нужно, когда секущая плоскость совпадает с плоскостью симметрии детали;
- 4) Не нужно, когда секущая плоскость параллельна горизонтальной плоскости проекций;
- 5) Не нужно, когда секущая плоскость параллельна оси Z.

Вопрос 5. В каком случае можно соединять половину вида с половиной соответствующего разреза?

- 1) Всегда можно;
- 2) Никогда нельзя;
- 3) Если деталь несимметрична;
- 4) Если вид и разрез являются симметричными фигурами;
- 5) Если вид и разрез являются несимметричными фигурами.

Задание 14.

Вопрос 1. Если вид и разрез являются симметричными фигурами, то какая линия служит осью симметрии, разделяющей их половины?

- 1) Сплошная тонкая;
- 2) Сплошная основная;
- 3) Штриховая;
- 4) Разомкнутая;
- 5) Штрих-пунктирная тонкая.

Вопрос 2. Как изображаются на разрезе элементы тонких стенок типа рёбер жесткости, зубчатых колёс?

- 1) Никак на разрезе не выделяются;
- 2) Выделяются и штрихуются полностью;
- 3) Показываются рассечёнными, но не штрихуются;
- 4) Показываются рассечёнными, но штрихуются в другом направлении по отношению к основной штриховке разреза;
- 5) Показываются рассечёнными и штрихуются под углом 60 градусов к горизонту.

Вопрос 3. Какого типа линией с перпендикулярной ей стрелкой обозначаются разрезы (тип линий сечения).

- 1) Сплошной тонкой линией;
- 2) Сплошной основной линией;
- 3) Волнистой линией;
- 4) Штрих-пунктирной тонкой линией;
- 5) Разомкнутой линией.

Вопрос 4. Как проводят секущие плоскости при образовании разрезов на аксонометрических изображениях, например, при выполнении выреза четверти детали.

- 1) Произвольно, как пожелает конструктор;

- 2) только параллельно координатным плоскостям;
- 3) Только перпендикулярно оси Z;
- 4) Только параллельно плоскости XOY;
- 5) Только параллельно плоскости XOZ;

Вопрос 5. Как направлены линии штриховки разрезов на аксонометрических проекциях?

- 1) Параллельно соответствующим осям X, Y и Z;
- 2) Перпендикулярно осям X, Y и Z;
- 3) Параллельно осям X и Y;
- 4) Параллельно одной из диагоналей квадратов, лежащих в соответствующих координатных плоскостях, стороны которых параллельны аксонометрическим осям.
- 5) Параллельно одной из диагоналей квадратов, лежащих в соответствующих координатных плоскостях, стороны которых расположены произвольно по отношению к аксонометрическим осям.

Задание 15.

Вопрос 1. На каком из пяти чертежей выполнен правильно разрез детали, показанной на изображении (см. Рис. С3-9).

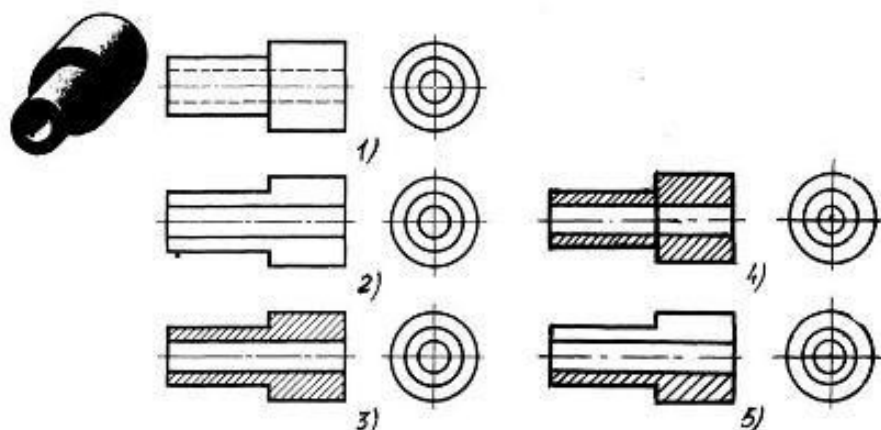
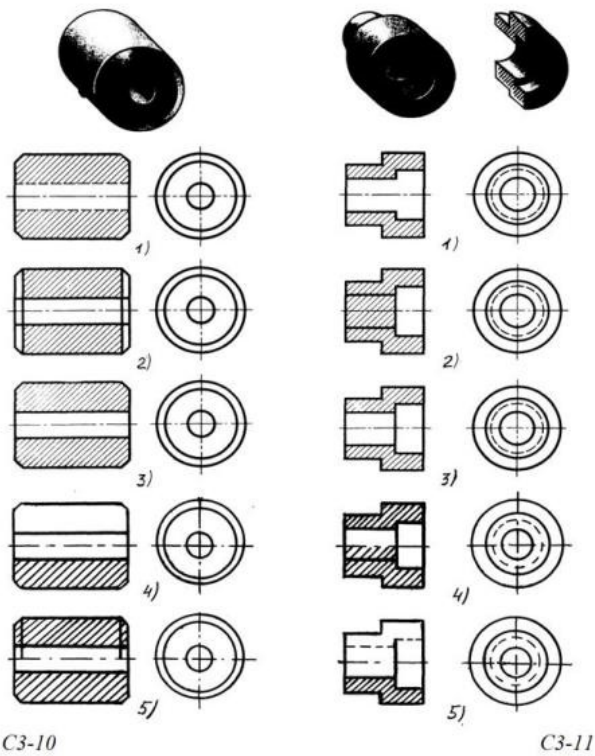


Рис. С3-9.

- 1) Правильный вариант ответа №1;
- 2) Правильный вариант ответа №2;
- 3) Правильный вариант ответа №3;
- 4) Правильный вариант ответа №4;
- 5) Правильный вариант ответа №5;

Вопрос 2. На каком из пяти чертежей втулки показан правильно её разрез (см. Рис. С3-10)?

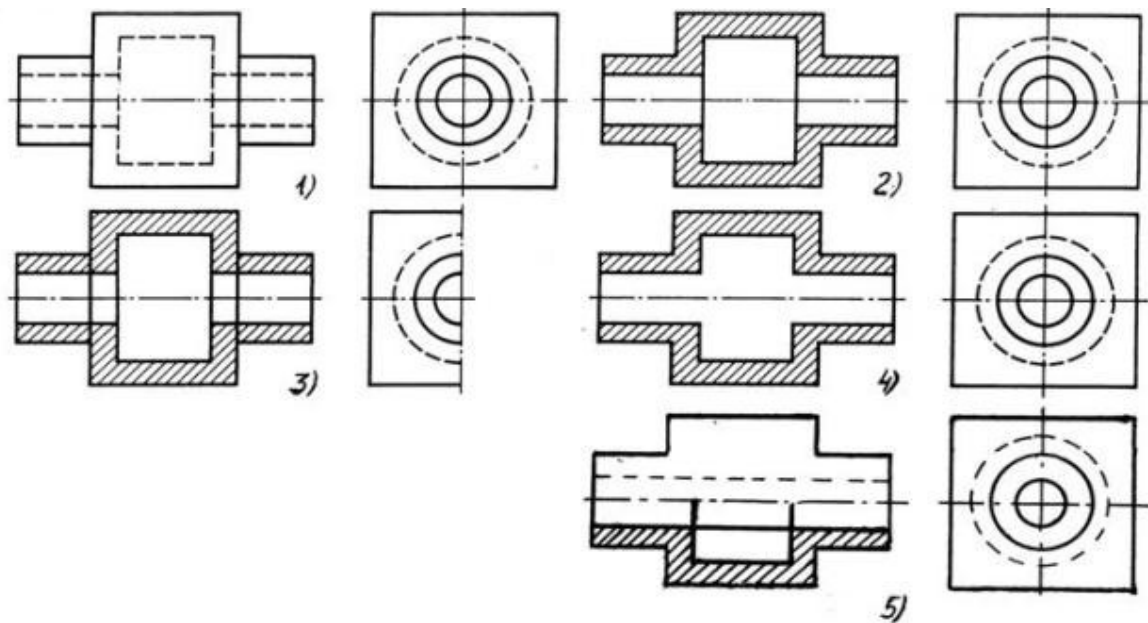


- 1) На первом чертеже;
- 2) На втором чертеже;
- 3) На третьем чертеже;
- 4) На четвертом чертеже;
- 5) На пятом чертеже

Вопрос 3. На каком из пяти чертежей выполнен правильно разрез детали, показанной на изображении (рис.С3-11).?

- 1) На первом чертеже;
- 2) На втором чертеже;
- 3) На третьем чертеже;
- 4) На четвертом чертеже
- 5) На пятом чертеже;

Вопрос 4. На каком изображении детали правильно выполнен её разрез (рис. С3-12)?



C3-12

- 1) На первом изображении;
- 2) На втором изображении;
- 3) На третьем изображении;
- 4) На четвертом изображении;
- 5) На пятом изображении.

Вопрос 5. Под каким углом осуществляется штриховка металлов (графическое изображение металлов) в разрезах?

- 1) Под углом 30 градусов к линии контура изображения, или к его оси или к линии рамки чертежа;
- 2) Под углом 60 градусов к линии контура изображения, или к его оси или к линии рамки чертежа;
- 3) Под любыми произвольными углами;
- 4) Под углом 45 градусов к линии контура изображения, или к его оси или к линии рамки чертежа;
- 5) Под углом 75 градусов к линии основной надписи чертежа;

Задание 16.

Вопрос 1. Местный разрез служит для уяснения устройства предмета в отдельном узко ограниченном месте. Граница местного разреза выделяется на виде:

- 1) Сплошной волнистой линией;
- 2) Сплошной тонкой линией;
- 3) Штрих-пунктирной линией;
- 4) Сплошной основной линией;
- 5) Штриховой линией.

Вопрос 2. При изображении предмета, в имеющих постоянные или закономерно изменяющиеся сечения, допускается изображать их с разрывами. В качестве линии обрыва используется:

- 1) Сплошная тонкая линия;
- 2) Сплошная основная линия;
- 3) Штрих-пунктирная линия;
- 4) Штриховая линия;
- 5) Сплошная волнистая или линия с изломами.

Вопрос 3. В каком случае правильно выполнено совмещение вида с разрезом (см. Рис. С3-13)?

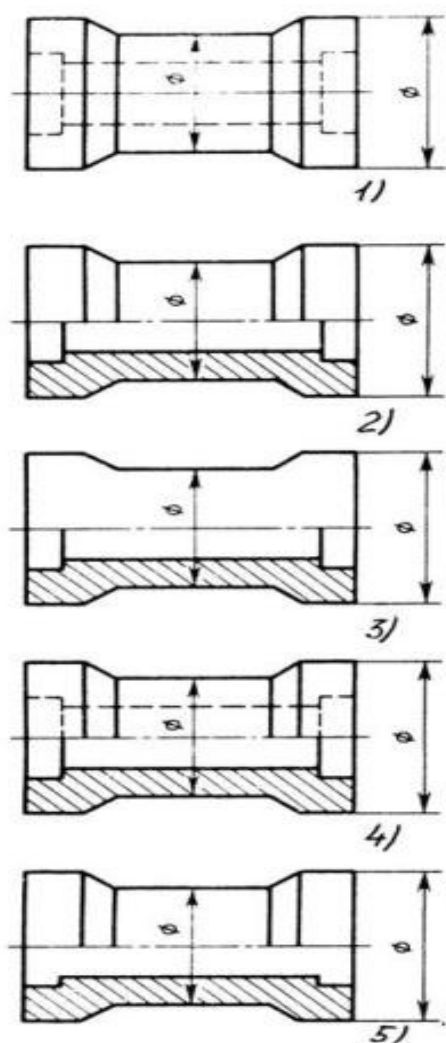


Рис. С3.-13

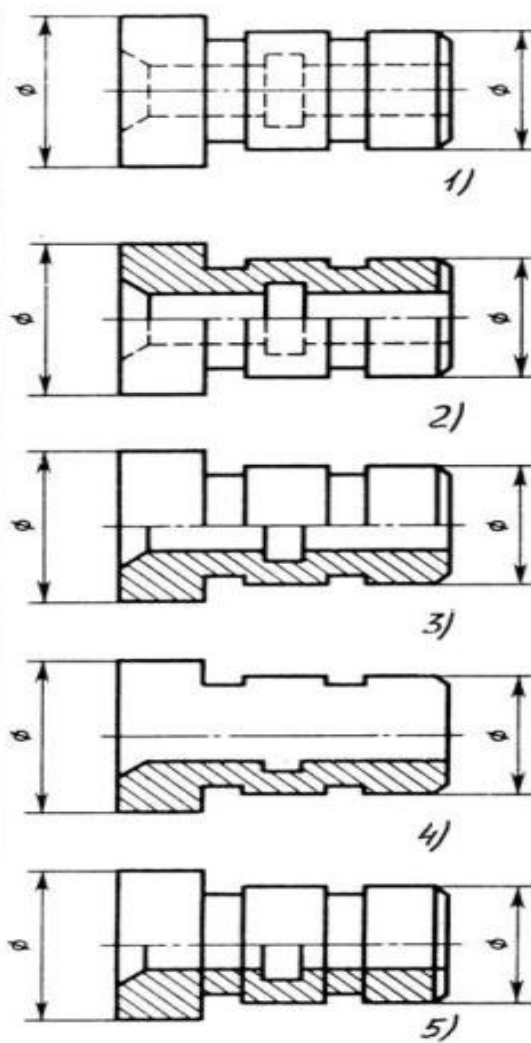


Рис. С3.-14

- 1) Правильный вариант ответа №1;
- 2) Правильный вариант ответа №2;
- 3) Правильный вариант ответа №3;
- 4) Правильный вариант ответа №4;
- 5) Правильный вариант ответа №5;

Вопрос 4. Определите, на каком чертеже правильно выполнено соединение половины вида и половины разреза для цилиндрической детали (рис. С3-14).

- 1) На первом чертеже;
- 2) На втором чертеже;
- 3) На третьем чертеже;
- 4) На четвертом чертеже;
- 5) На пятом чертеже;

Вопрос 5. Всегда ли обозначается положение секущих плоскостей при сложных разрезах?

- 1) Нет, не всегда;
- 2) Да, конечно, всегда;
- 3) Лишь когда не ясно, как проходят секущие плоскости разреза;
- 4) В редких случаях;
- 5) Не обозначаются никогда.

Задание 17.

Вопрос 1. В сечении показывается то, что:

- 1) Находится перед секущей плоскостью;
- 2) Находится за секущей плоскостью;
- 3) Попадает непосредственно в секущую плоскость;
- 4) Находится непосредственно в секущей плоскости и за ней⁴
- 5) Находится непосредственно перед секущей плоскостью и попадает в нее.

Вопрос 2. Контур вынесенного сечения выполняется:

- 1) Сплошной тонкой линией;
- 2) Сплошной основной линией;
- 3) Волнистой линией;
- 4) Штриховой линией;
- 5) Линией с изломами.

Вопрос 3. На рисунке С3-15 показана деталь и дано её сечение. Из нескольких вариантов сечения выберите правильный.

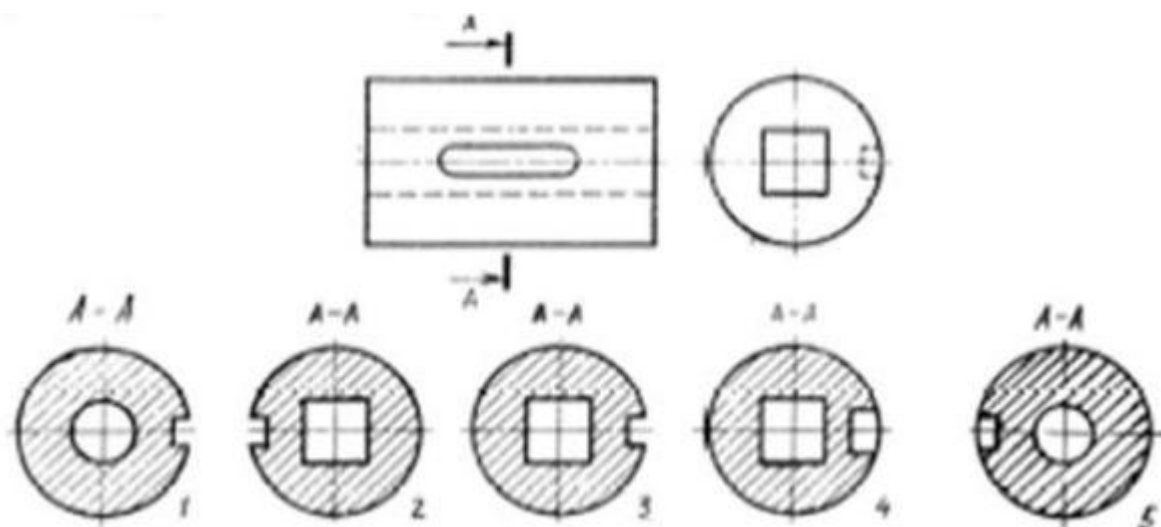


Рис. С3-15.

- 1) Правильный вариант ответа №1;
- 2) Правильный вариант ответа №2;
- 3) Правильный вариант ответа №3;
- 4) Правильный вариант ответа №4;
- 5) Правильный вариант ответа №5.

Вопрос 4. На рисунке С3-16 даны четыре сечения детали. Установите, какие из этих сечений выполнены правильно.

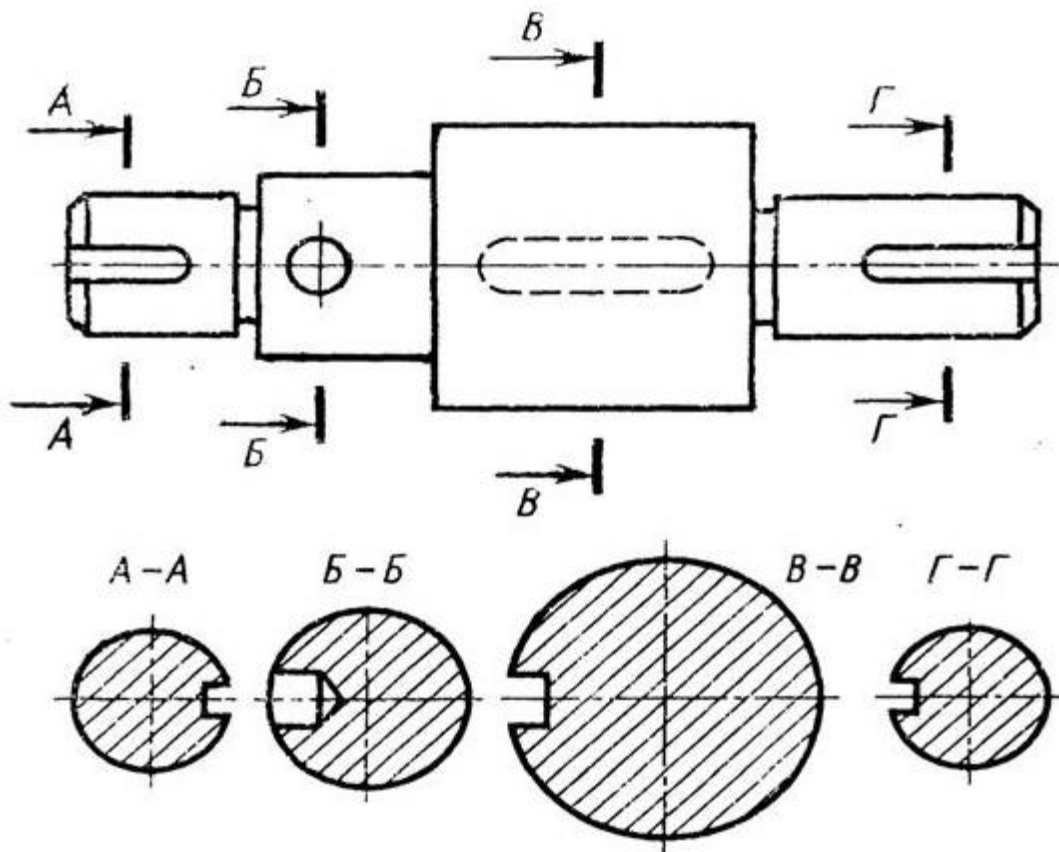


Рис. С3-16.

- 1) А-А и Б-Б;
- 2) А-А, Б-Б и Г-Г;
- 3) Б-Б, В-В;
- 4) А-А, Б-Б, В-В и Г-Г;
- 5) А-А и В-В.

Вопрос 5. Как обозначают несколько одинаковых сечений, относящихся к одному предмету?

- 1) Линии сечения обозначают одной и той же буквой и вычерчивают одно сечение;
- 2) Никак не обозначают;
- 3) Обозначают разными буквами линии сечений;
- 4) Обозначают линии сечений одной и той же буквой, но вычерчивают сечения несколько раз;
- 5) Линии сечений обозначают один раз и вычерчивают сечение несколько раз.

Задание 18.

Вопрос 1. Дана деталь и указано ее сечение А-А (рис.С3-17-а). Выбрать правильный вариант сечения.

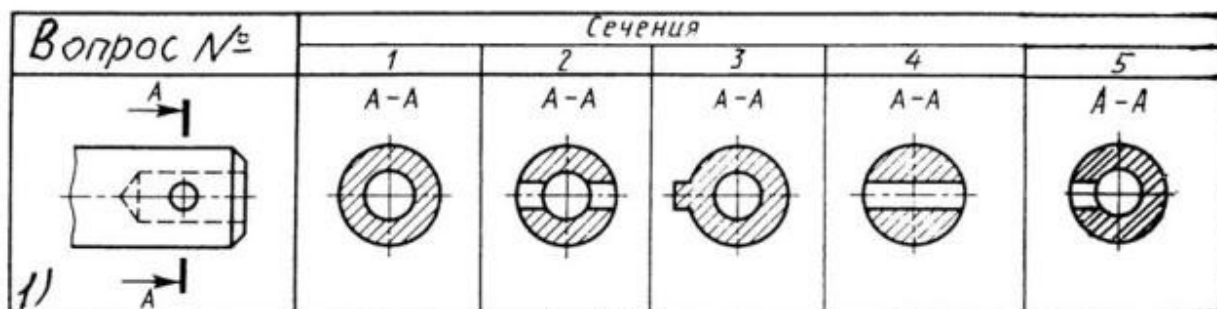


Рис.С3-17-а

- 1) Правильный вариант ответа №1;
- 2) Правильный вариант ответа №2;
- 3) Правильный вариант ответа №3;
- 4) Правильный вариант ответа №4;
- 5) Правильный вариант ответа №5;

Вопрос 2. Дана деталь и указано ее сечение А-А (рис.С3-17-б). Выбрать правильный вариант сечения.

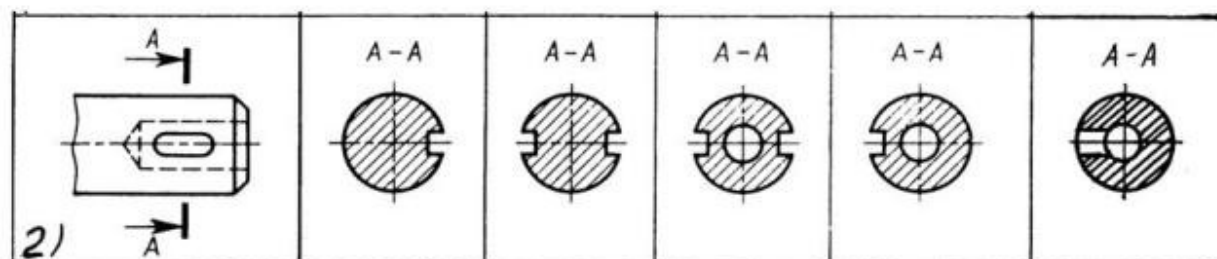


рис.С3-17-б

- 1) Правильный вариант ответа №1;
- 2) Правильный вариант ответа №2;
- 3) Правильный вариант ответа №3;
- 4) Правильный вариант ответа №4;
- 5) Правильный вариант ответа №5;

Вопрос 3. Дана деталь и указано ее сечение А-А (рис.С3-17-в). Выбрать правильный вариант сечения.

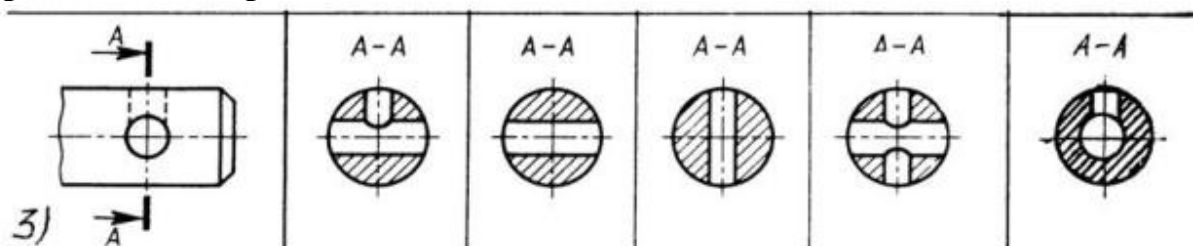


Рис.С3-17-в

- 1) Правильный вариант ответа №1;
- 2) Правильный вариант ответа №2;
- 3) Правильный вариант ответа №3;
- 4) Правильный вариант ответа №4;
- 5) Правильный вариант ответа №5;

Вопрос 4. Дана деталь и указано ее сечение А-А (рис.С3-17-г). Выбрать правильный вариант сечения.

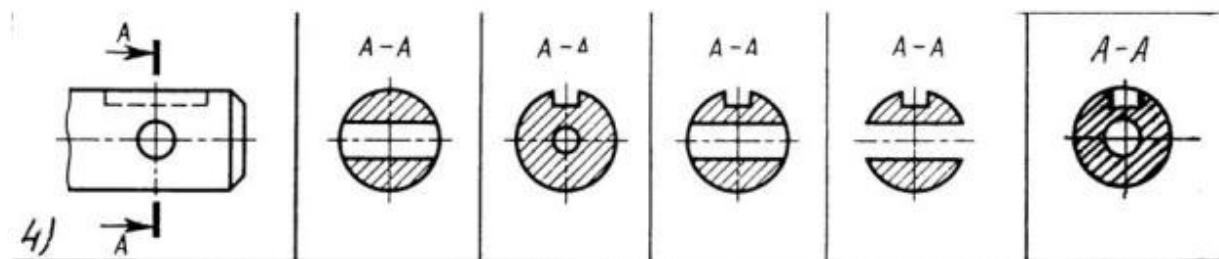
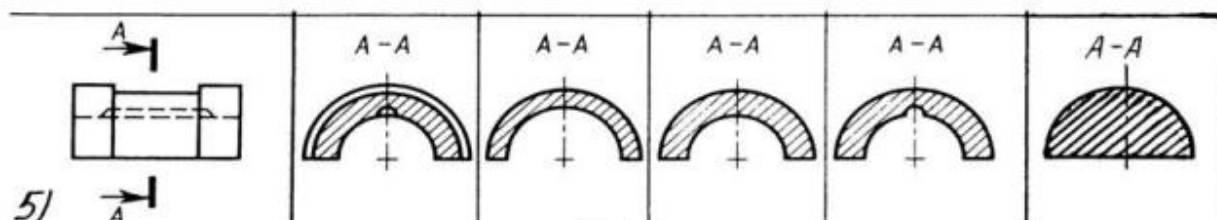


Рис.С3-17-г

- 1) Правильный вариант ответа №1;
- 2) Правильный вариант ответа №2;
- 3) Правильный вариант ответа №3;
- 4) Правильный вариант ответа №4;
- 5) Правильный вариант ответа №5;

Вопрос 5. Дана деталь и указано ее сечение А-А (рис.С3-17-д).Выбрать правильный вариант сечения.



С3-17-д

- 1) Правильный вариант ответа №1;
- 2) Правильный вариант ответа №2;
- 3) Правильный вариант ответа №3;
- 4) Правильный вариант ответа №4;
- 5) Правильный вариант ответа №5;

Задание 19.

Вопрос 1. Определите правильное сечение А-А для детали рис. С3-18.

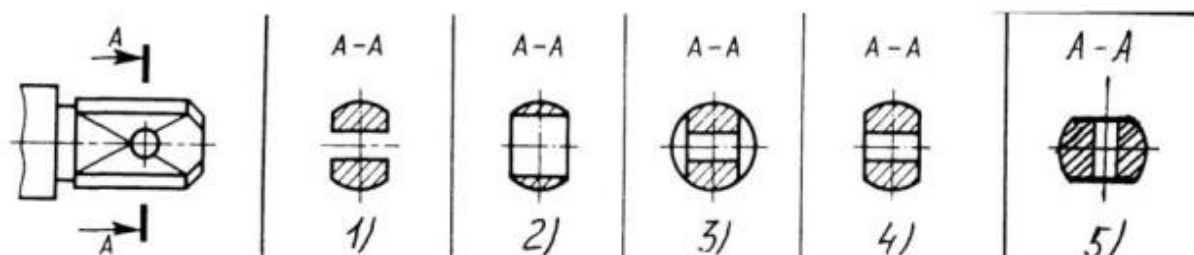
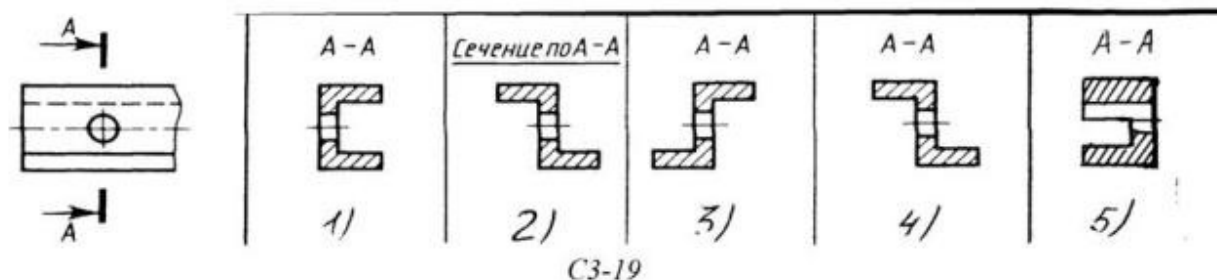


Рис. С3-18.

- 1) Правильный вариант ответа №1;
- 2) Правильный вариант ответа №2;
- 3) Правильный вариант ответа №3;
- 4) Правильный вариант ответа №4;
- 5) Правильный вариант ответа №5;

Вопрос 2. Определите правильный вариант сечения для Z-образного профиля с отверстием (рис. С3-19).



- 1) Правильный вариант ответа №1;
- 2) Правильный вариант ответа №2;
- 3) Правильный вариант ответа №3;
- 4) Правильный вариант ответа №4;
- 5) Правильный вариант ответа №5;

Вопрос 3. Как изображается резьба на цилиндрическом стержне и на его виде слева?

- 1) Наружный диаметр резьбы - сплошная основная, внутренний диаметр - сплошная тонкая, на виде слева - сплошная тонкая линия на 3/4 длины окружности для внутреннего диаметра;
- 2) Наружный диаметр резьбы - сплошная основная, внутренний диаметр - сплошная тонкая, на виде слева - тонкая линия на 360 градусов;
- 3) Наружный и внутренний диаметры резьбы - сплошная основная, на виде слева - сплошная тонкая линия на 3/4 длины окружности для внутреннего диаметра;
- 4) Наружный и внутренний диаметры - сплошная тонкая линия;
- 5) Все линии выполняются сплошной основной.

Вопрос 4. При резьбовом соединении двух деталей:

- 1) Полностью показывается деталь, в которую ввинчивается другая;
- 2) Ввинчиваемая деталь;
- 3) Нет никакого выделения;
- 4) Место соединения штрихуется полностью и для одной и для другой деталей;
- 5) Место соединения резьб не штрихуется совсем.

Вопрос 5. Какой линией показывается граница нарезанного участка резьбы?

- 1) Волнистой линией;
- 2) Сплошной тонкой линией;
- 3) Сплошной основной линией;
- 4) Штриховой линией;
- 5) Штрих-пунктирной линией.

Задание 20.

Вопрос 1. Расшифруйте условное обозначение резьбы M20*0.75LH.

- 1) Резьба метрическая, номинальный диаметр 20мм, шаг 0,75мм, левая;
- 2) Резьба упорная, номинальный диаметр 20мм, шаг 0,75, правая.
- 3) Резьба метрическая, номинальный диаметр 0,75мм, шаг 20мм, правая;
- 4) Резьба трубная, номинальный диаметр 0,75мм, шаг 20мм, левая;
- 5) Резьба метрическая, номинальный диаметр 0,75мм, шаг 20мм, левая.

Вопрос 2. Шаг резьбы - это расстояние:

- 1) Между соседними выступом и впадиной витка, измеренные вдоль оси детали;
- 2) Между двумя смежными витками;
- 3) На которое перемещается ввинчиваемая деталь за один полный оборот в неподвижную деталь;
- 4) От начала нарезания резьбы до её границы нарезания;
- 5) От выступа резьбы до её впадины, измеренное перпендикулярно оси детали.

Вопрос 3. Как понимать обозначение S40*4(p2)ЛН?

- 1) Резьба метрическая, диаметр 40мм, шаг 4мм, левая;
- 2) Резьба упорная, диаметр 40мм, шаг 4мм, левая;
- 3) Резьба трапецеидальная, диаметр 40мм, шаг 2мм, двухзаходная, левая;
- 4) Резьба упорная, диаметр 40мм, двухзаходная, шаг 2мм, правая;
- 5) Резьба упорная, диаметр 40мм, двухзаходная, шаг 2мм, левая.

Вопрос 4. От какого диаметра следует проводить выносные линии для обозначения резьбы, выполненной в отверстии?

- 1) От диаметра впадин резьбы, выполняемого сплошной основной линией;
- 2) От диаметра фаски на резьбе;
- 3) От внутреннего диаметра резьбы, выполняется сплошной тонкой линией;
- 4) От наружного диаметра резьбы, выполненного сплошной тонкой линией;
- 5) От наружного диаметра резьбы, выполненного сплошной основной линией.

Вопрос 5. Как выполняется фаска на видах, перпендикулярных оси стержня или отверстия?

- 1) Выполняется сплошной основной линией;
- 2) Не показывается совсем;
- 3) Выполняется сплошной основной линией на 3/4 окружности;
- 4) Выполняется сплошной тонкой линией;
- 5) Выполняется сплошной тонкой линией; на 3/4 окружности.

Задание 21.

Вопрос 1. Чем отличается обозначение метрической резьбы с крупным шагом от её обозначения с мелким шагом?

- 1) Не отличается ничем;
- 2) К обозначению резьбы добавляется величина крупного шага;
- 3) К обозначению резьбы добавляется величина мелкого шага;
- 4) К обозначению резьбы добавляется приписка ЛН;
- 5) Перед условным обозначением резьбы ставится величина мелкого шага.

Вопрос 2. Как наносится обозначение трубных и конических резьб?

- 1) Также как и метрическая резьба;

- 2) Также как и упорная резьба;
- 3) При помощи линии выноски со стрелкой и полкой;
- 4) Показывается внутренний диаметр резьбы;
- 5) Показывается только наружный диаметр резьбы с условным обозначением.

Вопрос 3. В каких случаях на чертежах показывают профиль резьбы?

- 1) Профиль резьбы показывают всегда;
- 2) Никогда не показывают;
- 3) Когда конструктор считает это необходимым;
- 4) Когда необходимо показать резьбу с нестандартным профилем со всеми необходимыми размерами;
- 5) Когда выполняется упорная или трапецеидальная резьба.

Вопрос 4. Как показываются крепления детали типа болтов, шпилек, гаек, шайб и винтов при попадании в продольный разрез на главном виде?

- 1) Условно показываются не рассеченными и не штрихуются;
- 2) Разрезаются и штрихуются с разным направлением штриховки;
- 3) Гайки и шайбы показываются рассечёнными, а болты, винты и шпильки - не рассечёнными;
- 4) Болты и гайки показываются рассечёнными и штрихуются;
- 5) Рассечёнными показываются только гайки, шайбы и винты.

Вопрос 5. В каком случае правильно сформулировано применение болтовых и шпилечных соединений?

- 1) Болтовое соединение применяется, когда имеется двусторонний доступ к соединяемым деталям, шпилечное - односторонний;
- 2) Болтовое соединение применяется, когда имеется односторонний доступ к соединяемым деталям, шпилечное - двусторонний;
- 3) Применение этих соединений ничем не отличается и взаимозаменяемо;
- 4) Удобнее применять всегда болтовые соединения;
- 5) Удобнее всегда применять шпилечные соединения.

Задание 22.

Вопрос 1. В каком случае правильно перечислены разъёмные и неразъёмные соединения?

- 1) Разъёмные: болтовое, шпилечное, винтовое, паяное, шпоночное. Неразъёмные: клеевое, сварное, шовное, заклёпочное.
- 2) Разъёмные: болтовое, шпилечное, винтовое, шпоночное, шлицевое. Неразъёмные: клеевое, сварное, паяное, шовное, заклёпочное.
- 3) Разъёмные: болтовое, шпилечное, винтовое, шпоночное, шовное, сварное. Неразъёмные: клеевое, паяное, шлицевое, заклёпочное.
- 4) Разъёмные: болтовое, шпилечное, винтовое, шпоночное, шовное. Неразъёмные: клеевое, паяное, шлицевое, заклёпочное.
- 5) Разъёмные: болтовое, шпилечное. Неразъёмные: винтовое, шпоночное, шлицевое.

Вопрос 2. Сварное соединение условно обозначается:

- 1) Утолщенной стрелкой;
- 2) Стрелкой с буквой «С» на 20мм от стрелки;
- 3) Стрелкой с буквой «Св.» на 25мм от стрелки;
- 4) Половиной стрелки с обозначением и расшифровкой типа сварки;
- 5) Половиной стрелки с обозначением буквой «С».

Вопрос 3. Чем отличается шлицевое соединение от шпоночного?

- 1) Только размерами деталей;
- 2) У шлицевого чередуются выступы и впадины по окружности, а у шпоночного вставляется еще одна деталь - шпонка;
- 3) Шлицы выполняются монолитно на детали, а шпонка выполняется монолитно с валом;
- 4) Ничем не отличаются;
- 5) Диаметром вала, передающего крутящий момент.

Вопрос 4. Паяное соединение условно обозначается на чертеже:

- 1) Утолщённой стрелкой;
- 2) Стрелкой с надписью «Пайка»;
- 3) Утолщённой линией, стрелкой и знаком полуокружности;
- 4) Утолщённой линией и полустрелкой;
- 5) Стрелкой и обозначением «П».

Вопрос 5. Как обозначается на чертеже клеевое соединение:

- 1) Стрелкой и надписью «Клей»;
- 2) Утолщённой линией, стрелкой и надписью «Клеевое соединение»;
- 3) Утолщённой линией, полустрелкой и знаком «К»;
- 4) Утолщённой линией, стрелкой и знаком «К»;
- 5) Сплошной основной линией, стрелкой и знаком «К».

Задание 23.

Вопрос 1. Чем отличается эскиз от рабочего чертежа детали?

- 1) Эскиз выполняется в меньшем масштабе;
- 2) Эскиз выполняется в большем масштабе, чем рабочий чертёж;
- 3) Эскиз выполняется с помощью чертёжных инструментов, а рабочий чертёж - от руки;
- 4) Эскиз ничем не отличается от рабочего чертежа;
- 5) Эскиз выполняется от руки; а рабочий чертёж - с помощью чертёжных инструментов.

Вопрос 2. В каком масштабе выполняется эскиз детали?

- 1) В глазомерном масштабе;
- 2) Обычно в масштабе 1:1;
- 3) Обычно в масштабе увеличения;
- 4) Всегда в масштабе уменьшения;
- 5) Всегда в масштабе увеличения;

Вопрос 3. Сколько видов должен содержать рабочий чертёж детали?

- 1) Всегда три вида;
- 2) Шесть видов;
- 3) Минимальное, но достаточное для представления форм детали;
- 4) Максимально возможное число видов;
- 5) Только один вид.

Вопрос 4. Нужны ли все размеры на рабочих чертежах детали?

- 1) Ставятся только габаритные размеры;
- 2) Ставятся размеры, необходимые для изготовления и контроля изготовления детали;
- 3) Ставятся только линейные размеры;
- 4) Ставятся линейные размеры и габаритные;
- 5) Ставятся размеры диаметров.

Вопрос 5. Для чего служит спецификация к сборочным чертежам?

- 1) Спецификация определяет состав сборочной единицы;
- 2) В спецификации указываются габаритные размеры деталей;
- 3) В спецификации указываются габариты сборочной единицы;
- 4) Спецификация содержит информацию о взаимодействии деталей;
- 5) В спецификации указывается вес деталей.

Задание 24.

Вопрос 1. В каком масштабе предпочтительнее делать сборочный чертёж?

- 1) 2:1;
- 2) 1:1;
- 3) 1:2;
- 4) 5:1;
- 5) 4:1.

Вопрос 2. Применяются ли упрощения на сборочных чертежах?

- 1) Нет;
- 2) Только для крепёжных деталей;
- 3) Применяются для всех деталей;
- 4) Применяются только для болтов и гаек;
- 5) Применяются только для нестандартных деталей.

Вопрос 3. Для каких деталей наносят номера позиций на сборочных чертежах?

- 1) Для всех деталей, входящих в сборочную единицу;
- 2) Только для нестандартных деталей;
- 3) Только для стандартных деталей;
- 4) Для крепёжных деталей;
- 5) Только для основных деталей.

Вопрос 4. Какие размеры наносят на сборочных чертежах?

- 1) Все размеры;
- 2) Основные размеры корпусной детали;
- 3) Габаритные, подсоединительные, установочные, крепёжные, определяющие работу устройства.
- 4) Только размеры крепёжных деталей;
- 5) Только габаритные размеры.

Вопрос 5. Как штрихуются в разрезе соприкасающиеся детали?

- 1) Одинаково;
- 2) С разной толщиной линий штриховки;
- 3) Одна деталь не штрихуется, а другая штрихуется;
- 4) С разным наклоном штриховых линий;
- 5) С разным расстоянием между штриховыми линиями, со смещением штриховых линий, с разным наклоном штриховых линий.

Задание 25.

Вопрос 1. Откуда замеряются размеры при детализации сборочного чертежа?

- 1) Замеряются со сборочного чертежа;
- 2) Определяются по спецификации;
- 3) Замеряются со сборочного чертежа и увеличиваются в три раза;
- 4) Замеряются со сборочного чертежа и уменьшаются в три раза;
- 5) Определяются произвольно, в глазомерном масштабе.

Вопрос 2. Должно ли соответствовать количество изображений детали на сборочном чертеже количеству изображений детали на рабочем чертеже?

- 1) Да, обязательно;
- 2) Нет, никогда;
- 3) Может соответствовать, может нет;
- 4) Количество изображений на рабочем чертеже должно быть в два раза меньше;
- 5) Количество изображений на рабочем чертеже должно быть на одно меньше.

Вопрос 3. На каких форматах выполняется спецификация?

- 1) На дополнительных;
- 2) На А2;
- 3) На А3;
- 4) На А5;
- 5) На А4.

Вопрос 4. Какие изображения сечений деталей зачерняют?

- 1) Детали толщиной до 1мм;
- 2) Детали толщиной или диаметром 2мм и менее;
- 3) Детали типа тонких спиц;
- 4) Маленькие шарики диаметром от 1 до 5 мм;
- 5) Детали толщиной от 1 до 4 мм.

Вопрос 5. Нужно ли соблюдать масштаб при вычерчивании элементов электрических схем?

- 1) Нет;
- 2) Нужно, но только в масштабе 2:1;
- 3) Нужно;
- 4) Нужно, но только в масштабе 1:1;
- 5) Нужно, но только в масштабе 1:2.

2.2 ПАКЕТ ЭКЗАМЕНАТОРА

Тесты по инженерной графике

Приложения 1. Тестовые задания для промежуточной аттестации

Контрольные задания составлены в виде теста. По каждому заданию предлагается выбрать верный ответ в задании 50 вопросов.

46-50 правильных ответов – оценка «5»

45- 31 правильных ответ -- оценка «4»

26- 30 правильных ответов – оценка «3»

Менее 25 правильных ответов – оценка «2»

Вариант №1

1. Какой способ проецирования используется при построении чертежа?

- 1) центральное;
- 2) параллельное;
- 3) прямоугольное.

2. Всегда ли достаточно одной проекции предмета?

- 1) всегда
- 2) иногда
- 3) не всегда

3. Где правильно обозначены плоскости проекций?

- 1) V W 2) H W
- H V

4. Какие основные три вида вы знаете?

- 1) Главный вид, фронтальный, прямоугольный;
- 2) Главный вид, вид сверху, слева;
- 3) Главный вид, слева, вид справа,

5 Изображение отдельного ограниченного места поверхности предмета называется.....

- 1) Главным видом
- 2) Местным видом
- 3) Видом

6. Как штрихуют неметаллические детали на разрезах:

- 1) широкими параллельными линиями
- 2) узкими параллельными линиями
- 3) ромбической сеткой
- 4) сплошным закрашиванием

7. Какими не бывают разрезы:

- 1) горизонтальные 2) вертикальные
- 3) наклонные 4) параллельные

8. Каков угол наклона штриховки в изометрии на сечениях, расположенных на плоскостях ZOХ, ZOУ

- 1) 30 2) 45 3) 60 4) 90

9. Толщина сплошной основной линии лежит в следующих пределах?

- 1) 0,5 2,0 мм.;
- 2) 1,0 1,5 мм.;
- 3) 0,5 1,0 мм.;
- 4) 0,5 1,5 мм.

10. На основе какого формата получают другие основные форматы

- 1) А5 2) А4 3) А3 4) А0

11. Сколько типов линий применяют при выполнении чертежей

- 1) 6 типов линий 2) 7 типов линий
- 3) 8 типов линий 4) 9 типов линий

12. В каком году принята ГОСТом конструкция последнего чертежного шрифта

- 1) 1959 г. 2) 1968
- 3) 1981 г. 4) 1988 г.

13. Сколько основных видов существует для выполнения чертежа

- 1) 6 видов 2) 5 видов
- 3) 4 вида 4) 3 вида

14. Сколько видов аксонометрических проекций применяются в графике

- 1) 2 вида
- 2) 3 вида
- 3) 4 вида
- 4) 5 видов

15. В каких случаях образуется цилиндрическая зубчатая передача

- 1) когда оси валов пересекаются
- 2) когда оси валов скрещиваются
- 3) когда оси валов параллельны друг другу
- 4) когда присутствует специальная надпись

16. Всегда ли совпадают положение детали на главном виде на рабочем чертеже с

положением детали на сборочном чертеже

- 1) всегда совпадают
- 2) никогда не совпадают
- 3) совпадают не всегда
- 4) иногда совпадают

17. Всегда ли совпадает количество изображений детали на рабочем чертеже с количеством изображений на сборочном чертеже

- 1) совпадают не всегда
- 2) зависит от мнения разработчика
- 3) совпадают всегда
- 4) зависит от пожелания заказчика

18. Для чего служит спецификация к сборочным чертежам?

- 1) Спецификация определяет состав сборочной единицы;
- 2) В спецификации указываются габаритные размеры деталей;
- 3) В спецификации указываются габариты сборочной единицы;
- 4) Спецификация содержит информацию о взаимодействии деталей;

19. Какое изображение называется «эскиз» - это:

- 1) чертеж, содержащий габаритные размеры детали
- 2) чертеж, дающий представление о габаритах детали
- 3) чертеж детали, выполненный от руки и позволяющий изготовить деталь
- 4) объемное изображение детали

20. Для чего предназначен эскиз:

- 1) для изготовления детали
- 2) для определения возможности транспортировки детали
- 3) для определения способов крепления детали в конструкции
- 4) для выявления внешней отделки детали

21. Какие условные обозначения проставляют на эскизе:

- 1) координаты центров отверстий
- 2) необходимые размеры для изготовления детали
- 3) габаритные размеры
- 4) толщины покрытий

22. Как штрихуются в разрезе соприкасающиеся детали?

- 1) Одинаково;
- 2) С разным наклоном штриховых линий;
- 3) С разным расстоянием между штриховыми линиями, со смещением штриховых линий, с разным наклоном штриховых линий.

23. Какие упрощения допускаются на эскизе:

- 1) опускание скруглений и проточек
- 2) опускание вмятин, царапин, неравномерностей стенок
- 3) опускание шпоночных отверстий
- 4) опускание ребер жесткости.

24. Каково название процесса мысленного расчленения предмета на геометрические тела, образующие его поверхность:

- 1) деление на геометрические тела
- 2) анализ геометрической формы
- 3) выделение отдельных геометрических тел
- 4) разделение детали на части

25. Каковы названия основных плоскостей проекций:

- 1) фронтальная, горизонтальная, профильная
- 2) центральная, нижняя, боковая
- 3) передняя, левая, верхняя
- 4) передняя, левая боковая, верхняя

26. С чего начинают чтение сборочного чертежа:

- 1) изучение видов соединений и креплений сборочных единиц и деталей изделия
- 2) чтение основной надписи, изучение спецификации изделия и основными составными частями изделия и принципом его работы
- 3) изучение соединений сборочных единиц изделия.

27. Что такое «Деталирование»:

- 1) процесс составления рабочих чертежей деталей по сборочным чертежам
- 2) процесс сборки изделия по отдельным чертежам деталей
- 3) процесс создания рабочих чертежей
- 4) процесс составления спецификации сборочного чертежа

28. Какой знак, позволяющий сократить число изображений, применяют на простых чертежах:

- 1) знак шероховатости поверхности;
- 2) знак осевого биения;
- 3) знак радиуса.
- 4) знак диаметра;

29. Что означает «Изометрия»

- 1) двойное измерение по осям
- 2) прямое измерение осей
- 3) равное измерение по осям
- 3) технический рисунок

30. Расшифруйте условное обозначение резьбы M20×0.75LH.

- 1) Резьба метрическая, номинальный диаметр 20мм, шаг 0,75мм, левая;
- 2) Резьба метрическая, номинальный диаметр 0,75мм, шаг 20мм, правая;
- 3) Резьба трубная, номинальный диаметр 0,75мм, шаг 20мм, левая;
- 4) Резьба метрическая, номинальный диаметр 0,75мм, шаг 20мм, левая.

31. Нужны ли все размеры на рабочих чертежах детали?

- 1) Ставятся только габаритные размеры;
- 2) Ставятся размеры, необходимые для изготовления и контроля детали;
- 3) Ставятся только линейные размеры;
- 4) Ставятся линейные размеры и габаритные;

32. Как штрихуют неметаллические детали на разрезах:

- 1) широкими параллельными линиями
- 2) узкими параллельными линиями
- 3) ромбической сеткой
- 4) сплошным закрашиванием

33. Какими не бывают разрезы:

- 1) горизонтальные
- 2) вертикальные
- 3) наклонные
- 4) параллельные

34. Какими линиями выполняют вспомогательные построения при выполнении элементов геометрических построений?

- 1) Сплошными основными;
- 2) Сплошными тонкими;
- 3) Штрих-пунктирными;
- 4) Штриховыми;

35. На каком расстоянии от контура рекомендуется проводить размерные линии?

- 1) Не более 10 мм;
- 2) От 7 до 10 мм;
- 3) Не менее 10 мм;
- 4) От 1 до 5 мм;

36. На каком расстоянии друг от друга должны быть параллельные размерные линии?

- 1) Не более 7 мм;
- 2) Не более 10 мм;
- 3) От 7 до 10 мм;
- 4) Не менее 7 мм;

37. Чему должен быть равен раствор циркуля при делении окружности на шесть равных частей?

- 1) Диаметру окружности.
- 2) Половине радиуса окружности.
- 3) Двум радиусам окружности.
- 4) Радиусу окружности.

38. В каком месте должна находиться точка сопряжения дуги с дугой?

- 1) В центре дуги окружности большего радиуса;
- 2) На линии, соединяющей центры сопряжений дуг;
- 3) В центре дуги окружности меньшего радиуса;
- 4) В любой точке дуги окружности большего радиуса;

39. Какие проставляются размеры при выполнении чертежа в масштабе, отличном от 1:1?

- 1) Те размеры, которые имеет изображение на чертеже;
- 2) Независимо от масштаба изображения ставятся реальные размеры изделия;
- 3) Размеры должны быть увеличены или уменьшены в соответствии с масштабом.

40. Какой линией показывается граница нарезанного участка резьбы?

- 1) Волнистой линией;
- 2) Сплошной тонкой линией;
- 3) Сплошной основной линией;
- 4) Штриховой линией;

41. Сколько типов линий применяют при выполнении чертежей

- 1) 6 типов линий
- 2) 7 типов линий
- 3) 8 типов линий
- 4) 9 типов линий

42. Какой ряд масштабов увеличения устанавливается ЕСКД

- 1) 2:1; 3.5:1; 10:1
- 2) 2:1; 3:1; 6:1
- 3) 2:1; 2.5:1; 4:1
- 4) 1:2; 1:3; 1:5

43. Как правильно проставить размеры 4 одинаковых отверстий?

- 1) 4_{отв} Ø10
- 2) Ø10мм – 4_{отв}
- 3) Ø10 × 4

44. Какому виду сечения отдается предпочтение

- 1) вынесенному
- 2) наложенному
- 3) комбинированному
- 4) продольному

45. Как правильно проставить размер 4 одинаковых фасок размером 3мм?

- 1) $4 \times (3 \times 45)$
- 2) 4 фаски $3 \times 45^\circ$
- 3) $3 \times 45^\circ$; $\phi=4$

46. Рамку основной надписи на чертеже выполняют

- 1) основной тонкой линией
- 2) основной толстой линией
- 3) любой линией

47. Относительно толщины какой линии задаются толщины всех других линий чертежа?

- 1) основной сплошной толстой.
- 2) основной сплошной тонкой
- 3) штриховой

48. Толщина сплошной основной линии

- 1) 0,6 мм
- 2) 0,5...1,5 мм
- 3) ,5 мм

49. Назначение штрихпунктирной линии с одной точкой

- 1) линия видимого контура
- 2) линия сгиба
- 3) осевая
- 4) выносная

50. Масштабом называется

- 1) расстояние между двумя точками на плоскости
- 2) пропорциональное уменьшение размеров предмета на чертеж
- 3) отношение линейных размеров на чертеже к действительным размерам

Вариант №2

1. Каковы названия основных плоскостей проекций:

- 1) фронтальная, горизонтальная, профильная
- 2) центральная, нижняя, боковая
- 3) передняя, левая, верхняя
- 4) передняя, левая боковая, верхняя

2. С чего начинают чтение сборочного чертежа:

- 1) изучение видов соединений и креплений сборочных единиц и деталей изделия
- 2) чтение спецификации изделия
- 3) ознакомление со спецификацией и основными составными частями изделия и принципом его работы
- 4) изучение соединений сборочных единиц изделия.

3. Что такое «Деталирование»:

- 1) процесс составления рабочих чертежей деталей по сборочным чертежам
- 2) процесс сборки изделия по отдельным чертежам деталей
- 3) процесс создания рабочих чертежей
- 4) процесс составления спецификации сборочного чертежа

4. Какой знак, позволяющий сократить число изображений, применяют на простых чертежах:

- 1) знак диаметра;
- 2) знак шероховатости поверхности;
- 3) знак осевого биения;
- 4) знак радиуса.

5. Что означает «Изометрия»

- 1) двойное измерение по осям
- 2) прямое измерение осям
- 3) равное измерение по осям
- 3) технический рисунок

6. Какого масштаба нет в стандартах ЕСКД

- 1) 2.5:1
- 2) 3: 1
- 3) 5:1

7. Как штрихуют неметаллические детали на разрезах:

- 1) широкими параллельными линиями
- 2) узкими параллельными линиями
- 3) ромбической сеткой
- 4) сплошным закрашиванием

8. Какими не бывают разрезы:

- 1) горизонтальные
- 2) вертикальные
- 3) наклонные
- 4) параллельные

9. Где проставляется размер?

- 1) над размерной линией;
- 2) под размерной линией;
- 3) на размерной линии.

10. Какой размер между штрихами штрих пунктирной линии?

- 1) 1.5- 2 мм
- 2) 3 мм

3) 1- 1.5 мм

11. Что означают эти цифры 2.5; 5; 7; 10; 14...?

- 1) масштаб
- 2) шрифт
- 3) номера формата

12. Для чего предназначена тонкая сплошная линия?

- 1) для размерных и выносных линий;
- 2) для центровых линий;
- 3) линии симметрии.

13. Как правильно проставить размеры 4 одинаковых отверстий?

- 1) 4_{отв} Ø10
- 2) Ø10мм – 4_{отв}
- 3) Ø10 × 4

14. На каком расстоянии от контура рекомендуется проводить размерные линии?

- 1) Не более 10 мм;
- 2) От 7 до 10 мм;
- 3) Не менее 10 мм;
- 4) От 1 до 5 мм;

15. На основе какого формата получаются другие основные форматы

- 1) A5
- 2) A4
- 3) A3
- 4) A0

16. Какой ряд масштабов увеличения устанавливается ЕСКД

- 1) 2:1; 3.5:1; 10:1
- 2) 2:1; 3:1; 6:1
- 2) 2:1; 2.5:1; 4:1
- 3) 1:2; 1:3; 1:5

17. Какому виду сечения отдается предпочтение

- 1) вынесенному
- 2) наложенному
- 3) комбинированному
- 4) продольному

18. Как правильно проставить размер 4 одинаковых фасок размером 3мм?

- 1) 4 × (3 × 45°)
- 2) 4 фаски 3 × 45°
- 3) 3 × 45°; ф=4

19. Рамку основной надписи на чертеже выполняют

- 1) основной тонкой линией
- 2) основной толстой линией
- 3) любой линией

- 20. Относительно толщины какой линии задаются толщину всех других линий чертежа?**
- 1) основной сплошной толстой.
 - 2) основной сплошной тонкой
 - 3) штриховой
- 21. Толщина сплошной основной линии**
- 1) 0,5 мм
 - 2) 0,5...1,5 мм
 - 3) ,5 мм
- 22. Назначение штрихпунктирной линии с одной точкой**
- 1) линия видимого контура
 - 2) линия сгиба
 - 3) осевая
 - 4) выносная
- 23. Масштабом называется**
- 1) расстояние между двумя точками на плоскости
 - 2) пропорциональное уменьшение размеров предмета на чертеж
 - 3) отношение линейных размеров на чертеже к действительным размерам
- 24. Какой способ проецирования используется при построении чертежа?**
- 1) центральное;
 - 2) параллельное;
 - 3) прямоугольное.
- 25. Всегда ли достаточно одной проекции предмета?**
- 1) всегда
 - 2) иногда
 - 3) не всегда
- 26. Где правильно обозначены плоскости проекций?**
- 1) V W
H
 - 2) H W
V
- 27. Какие основные три вида вы знаете?**
- 1) Главный вид, фронтальный, прямоугольный;
 - 2) Главный вид, вид слева, вид сверху
 - 3) Главный вид, вид слева, профильный.
- 28. Изображение отдельного ограниченного места поверхности предмета называется.....**
- 1) Главным видом
 - 2) Местным видом
 - 3) Видом
- 29. Как штрихуют неметаллические детали на разрезах:**
- 1) широкими параллельными линиями
 - 2) узкими параллельными линиями
 - 3) ромбической сеткой

4) сплошным закрашиванием

30. Какими не бывают разрезы:

- 1) горизонтальные 2) вертикальные
- 3) наклонные 4) параллельные

31. Какому виду сечения отдается предпочтение

- 1) вынесенному 2) наложенному
- 3) комбинированному 4) продольному

32. Где располагается основная надпись чертежа по форме 1 на чертежном листе?

- 1) Посередине чертежного листа;
- 2) В правом нижнем углу;
- 3) В левом нижнем углу;
- 4) В правом нижнем углу, примыкая к рамке формата.

33. По отношению к толщине основной линии толщина разомкнутой линии составляет?

- 1) (0,5 1,0) S;
- 2) (1,0 2,0) S;
- 3) (1,0 2,5) S;
- 4) (0,8 1,5) S;

34. На основе какого формата получаются другие основные форматы

- 1) A5; 2) A4; 3) A3; 4) A0

35. Сколько типов линий применяют при выполнении чертежей

- 1) 6 типов линий 2) 7 типов линий
- 3) 8 типов линий 4) 9 типов линий

36. В каком году принята ГОСТом конструкция последнего чертежного шрифта

- 1) 1959 г. 2) 1968
- 3) 1981 г. 4) 1988 г.

37. Сколько основных видов существует для выполнения чертежа

- 1) 6 видов 2) 5 видов
- 3) 4 вида 4) 3 вида

38. Сколько видов аксонометрических проекций применяются в графике

- 1) 2 вида 2) 3 вида 3) 4 вида 4) 5 видов

39. В каких случаях образуется цилиндрическая зубчатая передача

- 1) когда оси валов пересекаются
- 2) когда оси валов скрещиваются
- 3) когда оси валов параллельны друг другу

4) когда присутствует специальная надпись

40. Всегда ли совпадают положение детали на главном виде на рабочем чертеже с положением детали на сборочном чертеже

- 1) всегда совпадают
- 2) никогда не совпадают
- 3) совпадают не всегда

41. Всегда ли совпадает количество изображений детали на рабочем чертеже с количеством изображений на сборочном чертеже

- 1) совпадают не всегда
- 2) зависит от мнения разработчика
- 3) совпадают всегда

42. Простой разрез получается при числе секущих плоскостей, равных:

- 1) Одной;
- 2) Двум;
- 3) Двум и более;
- 4) Трём;

43. Какое изображение называется «эскиз» - это:

- 1) чертёж детали, выполненный от руки и позволяющий изготовить деталь
- 2) объёмное изображение детали
- 3) чертёж, содержащий габаритные размеры детали
- 4) чертёж, дающий представление о габаритах детали

44. Для чего предназначен эскиз:

- 1) для изготовления детали
- 2) для определения возможности транспортировки детали
- 3) для определения способов крепления детали в конструкции
- 4) для выявления внешней отделки детали

45. При нанесении размера дуги окружности (части окружности) используют следующий знак?

- 1) Нет специального обозначения;
- 2) Сфера.
- 3) R;

46. Размер шрифта h определяется следующими элементами?

- 1) Высотой строчных букв;
- 2) Высотой прописных букв в миллиметрах;
- 3) Толщиной линии шрифта;
- 4) Шириной прописной буквы А, в миллиметрах;

47. Масштабы изображений на чертежах должны выбираться из следующего ряда?

- 1) 1:1; 1:2; 1:2,5; 1:3; 1:4; 1:5; 2:1; 2,5:1; 3:1; 4:1; 5:1.....
- 2) 1:1; 1:2; 1:2,5; 1:4; 1:5; 2:1; 2,5:1; 4:1; 5:1.....
- 3) 1:1; 1:2; 1:4; 1:5; 2:1; 4:1; 5:1.....

4) 1:2; 1:2,5; 1:4; 1:5; 2:1; 2,5:1; 4:1; 5:1.....

48. Все ли детали на сборочных чертежах подлежат детализованию?

- 1) все;
- 2) все кроме стандартных;
- 3) основные

49. Как изображаются в разрезе детали с тонкими стенками?

- 1) тонкими стенками;
- 2) штрихуют
- 3) не штрихуют

50. Какой линией ограничивают местный разрез?

- 1) основной тонкой;
- 2) штрихпунктирной;
- 3) тонкой волнистой.

Вариант №3

1. Где располагается основная надпись чертежа по форме 1 на чертежном листе?

- 1) Посередине чертежного листа;
- 2) В правом нижнем углу;
- 3) В левом нижнем углу;
- 4) В правом нижнем углу, примыкая к рамке формата.

2. Толщина сплошной основной линии лежит в следующих пределах?

- 1) 0,5 2,0 мм.;
- 2) 1,0 1,5 мм.;
- 3) 0,5 1,0 мм.;
- 4) 0,5 1,5 мм.

3. По отношению к толщине основной линии толщина разомкнутой линии составляет?

- 1) (0,5 1,0) S;
- 2) (1,0 2,0) S;
- 3) (1,0 2,5) S;
- 4) (0,8 1,5) S;

4. Масштабы изображений на чертежах должны выбираться из следующего ряда?

- 1) 1:1; 1:2; 1:2,5; 1:3; 1:4; 1:5; 2:1; 2,5:1; 3:1; 4:1; 5:1.....
- 2) 1:1; 1:2; 1:2,5; 1:4; 1:5; 2:1; 2,5:1; 4:1; 5:1.....
- 3) 1:1; 1:2; 1:4; 1:5; 2:1; 4:1; 5:1.....

4) 1:2; 1:2,5; 1:4; 1:5; 2:1; 2,5:1; 4:1; 5:1.....

5. Размер шрифта h определяется следующими элементами?

- 1) Высотой строчных букв;
- 2) Высотой прописных букв в миллиметрах;
- 3) Толщиной линии шрифта;
- 4) Шириной прописной буквы А, в миллиметрах;

6. ГОСТ устанавливает следующие размеры шрифтов в миллиметрах?

- 1) 1; 2; 3; 4; 5; 6; 7; 8; 9; 10.....
- 2) 1,5; 2,5; 3,5; 4,5; 5,5; 6,5.....
- 3) 2; 4; 6; 8; 10; 12.....
- 4) 1,8; 2,5; 3,5; 5; 7; 10; 14; 20.....

7. Толщина линии шрифта d зависит от?

- 1) От толщины сплошной основной линии S;
- 2) От высоты строчных букв шрифта;
- 3) От типа и высоты шрифта;
- 4) От угла наклона шрифта;

8. В каких единицах измерения указываются линейные и угловые размеры на чертежах?

- 1) В сотых долях метра и градусах;
- 2) В микронах и секундах;
- 3) В метрах, минутах и секундах;
- 4) В миллиметрах, градусах минутах и секундах.

9. При нанесении размера дуги окружности (части окружности) используют следующий знак?

- 1) R;
- 2) Нет специального обозначения;
- 3) Сфера.

10. Какими линиями выполняют вспомогательные построения при выполнении элементов геометрических построений?

- 1) Сплошными основными;
- 2) Сплошными тонкими;
- 3) Штрих-пунктирными;
- 4) Штриховыми;

11. На каком расстоянии от контура рекомендуется проводить размерные линии?

- 1) Не более 10 мм;
- 2) От 7 до 10 мм;
- 3) Не менее 10 мм;
- 4) От 1 до 5 мм;

12. На каком расстоянии друг от друга должны быть параллельные размерные линии?

- 1) Не более 7 мм;
- 2) Не более 10 мм;
- 3) От 7 до 10 мм;
- 4) Не менее 7 мм;

13. Чему должен быть равен раствор циркуля при делении окружности на шесть равных частей?

- 1) Диаметру окружности.
- 2) Половине радиуса окружности.
- 3) Двум радиусам окружности.
- 4) Радиусу окружности.

14. В каком месте должна находиться точка сопряжения дуги с дугой?

- 1) В центре дуги окружности большего радиуса;
- 2) На линии, соединяющей центры сопряжений дуг;
- 3) В центре дуги окружности меньшего радиуса;
- 4) В любой точке дуги окружности большего радиуса;

15. Какие проставляются размеры при выполнении чертежа в масштабе, отличном от 1:1?

- 1) Те размеры, которые имеет изображение на чертеже;
- 2) Независимо от масштаба изображения ставятся реальные размеры изделия;
- 3) Размеры должны быть увеличены или уменьшены в соответствии с масштабом.

16. Какие виды сечения вы знаете?

- 1) вынесенные, наложенные
- 2) выносное, накладное;
- 3) центральное и параллельное.

17. Какое максимальное количество видов может быть на чертеже детали?

- 1) Четыре;
- 2) Три;
- 3) Один;
- 4) Шесть.

18. Сколько видов должно содержать изображение какой-либо конкретной детали?

- 1) Один;
- 2) Три;
- 3) Минимальное, но достаточное для однозначного уяснения конфигурации;
- 4) Максимальное число видов;

19. Какой вид называется дополнительным?

- 1) Вид снизу;
- 2) Вид сзади;
- 3) Полученный проецированием на плоскость, не параллельную ни одной из плоскостей проекций;
- 4) Полученный проецированием на плоскость W .

20. Что называется местным видом?

- 1) Изображение только ограниченного места детали;
- 2) Изображение детали на дополнительную плоскость;
- 3) Изображение детали на плоскость W ;
- 4) Вид справа детали;

21. Какой вид детали и на какую плоскость проекций называется ее главным видом?

- 1) Вид сверху, на плоскость H ;
- 2) Вид спереди, на плоскость V ;
- 3) Вид слева, на плоскость W ;
- 4) Вид сзади, на плоскость H ;

22. Возможно ли выполнение дополнительных видов повёрнутыми?

- 1) Нет, ни в коем случае;
- 2) Обязательно, всегда выполняются повёрнутыми;
- 3) Возможно, но дополнительный вид при этом никак не выделяется и не обозначается;
- 4) Возможно, но с сохранением положения, принятого для данного предмета на главном виде и с добавлением слова «Повёрнуто»;

23. Разрез получается при мысленном рассечении предмета секущей плоскостью. При этом на разрезе показывается то, что:

- 1) Получится только в секущей плоскости;
- 2) Находится перед секущей плоскостью;
- 3) Находится за секущей плоскостью;
- 4) Находится в секущей плоскости, и что расположено за ней.

24. Для какой цели применяются разрезы?

- 1) Показать внутренние очертания и форму изображаемых предметов;
- 2) Показать внешнюю конфигурацию и форму изображаемых предметов;
- 3) Применяются при выполнении чертежей любых деталей;
- 4) Применяются только по желанию конструктора;

25. Какие разрезы называются горизонтальными?

- 1) Когда секущая плоскость перпендикулярна горизонтальной плоскости проекций;
- 2) Когда секущая плоскость параллельна горизонтальной плоскости проекций;
- 3) Когда секущая плоскость перпендикулярна оси X;
- 4) Когда секущая плоскость параллельна фронтальной плоскости проекций;

26. Простой разрез получается при числе секущих плоскостей, равных:

- 1) Одной;
- 2) Двум;
- 3) Двум и более;
- 4) Трём;

27 Сложный разрез получается при сечении

- 1) Тремя секущими плоскостями;
- 2) Двумя и более секущими плоскостями;
- 3) Плоскостью, параллельной горизонтальной плоскости проекций;
- 4) Одной секущей плоскостью;

28. Всегда ли нужно обозначать простые разрезы линией сечения?

- 1) Да, обязательно;
- 2) Никогда не нужно обозначать;
- 3) Не нужно, когда секущая плоскость совпадает с плоскостью симметрии детали;
- 4) Не нужно, когда секущая плоскость параллельна горизонтальной плоскости проекций;

29. В каком случае можно соединять половину вида с половиной соответствующего разреза?

- 1) Всегда можно;
- 2) Никогда нельзя;
- 3) Если вид и разрез являются симметричными фигурами;
- 4) Если вид и разрез являются несимметричными фигурами.

30. Если вид и разрез являются симметричными фигурами, то какая линия служит осью симметрии, разделяющей их половины?

- 1) Сплошная тонкая;
- 2) Сплошная основная;
- 3) Штриховая;
- 4) Штрих-пунктирная тонкая.

31. Как изображаются на разрезе элементы тонких стенок типа рёбер жесткости.

- 1) Никак на разрезе не выделяются;
- 2) Выделяются и штрихуются полностью;
- 3) Показываются рассечёнными, но не штрихуются;
- 4) Показываются рассечёнными, но штрихуются в другом направлении по отношению к основной штриховке разреза;

32. Под каким углом осуществляется штриховка металлов (графическое изображение металлов) в разрезах?

- 1) Под углом 30 градусов к линии контура изображения, или к его оси или к линии рамки чертежа;
- 2) Под углом 60 градусов к линии контура изображения, или к его оси или к линии рамки чертежа;
- 3) Под любыми произвольными углами;
- 4) Под углом 45 градусов к линии контура изображения, или к его оси или к линии рамки чертежа;

33. Местный разрез служит для уяснения устройства предмета в отдельном узко ограниченном месте. Граница местного разреза выделяется на виде:

- 1) Сплошной волнистой линией;
- 2) Сплошной тонкой линией;
- 3) Сплошной основной линией;
- 4) Штриховой линией.

34. Всегда ли обозначается положение секущих плоскостей при сложных разрезах?

- 1) Нет, не всегда;
- 2) Да, конечно, всегда;
- 3) Лишь когда не ясно, как проходят секущие плоскости разреза;
- 4) В редких случаях;

35. В сечении показывается то, что:

- 1) Находится перед секущей плоскостью;
- 2) Находится за секущей плоскостью;
- 3) Попадает непосредственно в секущую плоскость;
- 4) Находится непосредственно в секущей плоскости и за ней⁴

36. Контур вынесенного сечения выполняется:

- 1) Сплошной тонкой линией;
- 2) Сплошной основной линией;
- 3) Штриховой линией;

37. Как изображается резьба вала на виде слева

- 1) Наружный диаметр резьбы - сплошная основная, внутренний диаметр - сплошная тонкая, на виде слева - сплошная тонкая линия на $3/4$ длины окружности;
- 2) Наружный диаметр резьбы - сплошная основная, внутренний диаметр - сплошная тонкая, на виде слева - тонкая линия на 360° градусов;
- 3) Наружный и внутренний диаметры резьбы - сплошная основная, на виде слева - сплошная тонкая
- 4) Наружный и внутренний диаметры - сплошная тонкая линия;

38. Какой линией показывается граница нарезанного участка резьбы?

- 1) Волнистой линией;
- 2) Сплошной тонкой линией;
- 3) Сплошной основной линией;
- 4) Штриховой линией;

39. Расшифруйте условное обозначение резьбы $M20 \times 0.75 LH$.

- 1) Резьба метрическая, номинальный диаметр 20мм, шаг 0,75мм, левая;
- 2) Резьба метрическая, номинальный диаметр 0,75мм, шаг 20мм, правая;
- 3) Резьба трубная, номинальный диаметр 0,75мм, шаг 20мм, левая;
- 4) Резьба метрическая, номинальный диаметр 0,75мм, шаг 20мм, левая.

40. От какого диаметра следует проводить выносные линии для обозначения резьбы, выполненной в отверстии?

- 1) От диаметра впадин резьбы, выполняемого сплошной основной линией;
- 2) От внутреннего диаметра резьбы, выполняется сплошной тонкой линией;
- 3) От наружного диаметра резьбы, выполненного сплошной тонкой линией;
- 4) От наружного диаметра резьбы, выполненного сплошной основной линией.

41. Чем отличается обозначение метрической резьбы с крупным шагом от её обозначения с мелким шагом?

- 1) Не отличается ничем;
- 2) К обозначению резьбы добавляется величина крупного шага;
- 3) К обозначению резьбы добавляется величина мелкого шага;
- 4) К обозначению резьбы добавляется приписка LH;

42. В каком случае правильно перечислены разъемные и неразъемные соединения?

- 1) Разъемные: болтовое, шпилечное, винтовое, паяное, шпоночное. Неразъемные: клеевое, сварное, шовное, заклёпочное.
- 2) Разъемные: болтовое, шпилечное, винтовое, шпоночное, шлицевое. Неразъемные: клеевое, сварное, паяное, шовное, заклёпочное.
- 3) Разъемные: болтовое, шпилечное, винтовое, шпоночное, шовное, сварное. Неразъемные: клеевое, паяное, шлицевое, заклёпочное.
- 4) Разъемные: болтовое, шпилечное, винтовое, шпоночное, шовное. Неразъемные: клеевое, паяное, шлицевое, заклёпочное.

43. Чем отличается эскиз от рабочего чертежа детали?

- 1) Эскиз выполняется в большем масштабе, чем рабочий чертёж;
- 2) Эскиз выполняется с помощью чертёжных инструментов, а рабочий чертёж - от руки;
- 3) Эскиз ничем не отличается от рабочего чертежа;
- 4) Эскиз выполняется от руки; а рабочий чертёж - с помощью чертёжных инструментов.

44. В каком масштабе выполняется эскиз детали?

- 1) В глазомерном масштабе;
- 2) Обычно в масштабе 1:1;
- 3) Обычно в масштабе увеличения;
- 4) Всегда в масштабе уменьшения;

45. Сколько видов должен содержать рабочий чертёж детали?

- 1) Всегда три вида;
- 2) Шесть видов;
- 3) Минимальное, но достаточное для представления форм детали;
- 4) Максимально возможное число видов;

46. Нужны ли все размеры на рабочих чертежах детали?

- 1) Ставятся только габаритные размеры;
- 2) Ставятся размеры, необходимые для изготовления и контроля изготовления детали;
- 3) Ставятся только линейные размеры;
- 4) Ставятся линейные размеры и габаритные;

47. Для чего служит спецификация к сборочным чертежам?

- 1) Спецификация определяет состав сборочной единицы;
- 2) В спецификации указываются габаритные размеры деталей;
- 3) В спецификации указываются габариты сборочной единицы;
- 4) Спецификация содержит информацию о взаимодействии деталей;

48. Для каких деталей наносят номера позиций на сборочных чертежах?

- 1) Для всех деталей, входящих в сборочную единицу;
- 2) Только для нестандартных деталей;
- 3) Только для стандартных деталей;
- 4) Для крепёжных деталей;

49. Какие размеры наносят на сборочных чертежах?

- 1) Все размеры;
- 2) Габаритные, присоединительные, установочные, крепёжные, определяющие работу устройства.
- 3) Только размеры крепёжных деталей;
- 4) Только габаритные размеры.

50. Как штрихуются в разрезе соприкасающиеся детали?

- 1) Одинаково;
- 2) Одна деталь не штрихуется, а другая штрихуется;
- 3) С разным наклоном штриховых линий;
- 4) С разным расстоянием между штриховыми линиями, со смещением штриховых линий, с разным наклоном штриховых линий.

ОТВЕТЫ

Вопросы	ОТВЕТЫ вариант №1	ОТВЕТЫ Вариант №2	ОТВЕТЫ Вариант №3
1	3	1	4
2	3	3	4
3	1	1	1
4	2	1	2
5	2	3	2
6	3	2	4
7	4	3	3
8	2	4	4
9	4	1	1
10	2	2	2
11	4	2	2
12	2	1	3
13	1	1	4
14	1	2	2
15	3	2	2
16	3	1	1
17	1	2	4
18	1	2	3
19	3	2	3
20	1	1	1
21	2	2	2
22	3	3	4
23	1	3	4
24	3	3	1

25	1	3	2
26	2	1	1
27	1	2	2
28	4	2	3
29	3	3	1
30	1	4	4
31	2	1	3
32	3	4	4
33	3	1	1
34	4	2	2
35	2	4	1
36	2	2	2
37	3	1	1
38	4	1	3
39	2	3	1
40	3	3	3
41	4	1	3
42	2	1	1
43	1	1	4
44	2	1	1
45	1	3	3
46	2	2	2
47	1	2	1
48	2	2	1
49	3	3	2
50	3	3	4

Приложения 2. Перечень лабораторно-практических занятий

1.	Краткая история развития чертежа. Общие сведения о стандартах в системе ЕСКД. Доведение КТП.
2.	Форматы и ГОСТы на них (ГОСТ 2.301-68) Выполнение практического задания по усвоению темы (в рабочей тетради) Масштабы и ГОСТы на них (ГОСТ 2.302-68) Правила нанесения размеров.
3.	Линии чертежа, ГОСТ 2.302-68, Задание по выполнению линий чертежа на листе формата А-4
4.	Шрифты чертежные, ГОСТ 2.304-81. Надписи на чертежах. Задание: Написание алфавита (чертежными шрифтами на листе формата А4)
5.	Основная надпись на чертежах. Чертежные форматы. Выполнение основной надписи на листе формата А4. Задание: выполнение надписи и выполнение титульного листа на формате А4;
6.	Деление отрезка прямой. Деление и построение углов. Деление окружности на равные части. Выполнение сопряжений прямых линий и окружностей и по заданным размерам.
7.	Способы и методы геометрических построений, сопряжений кривых, дуг и окружностей и делений окружностей на равные части. Пошагово на вычертить техническую деталь на листе А4.
8.	Алгоритм построения чертежа детали, представленного тремя видами. Изучить с обучающихся метод 3-х проекций и проекционных связей, а также порядок вычерчивания деталей на чертеже в 3-х проекциях и методом проекционных связей.
9.	Изучить методы проецирования в начертательной геометрии. Ортогональные проекции точки. Выполнение задания по построению проекций точки
10.	Геометрические тела. Метод прямоугольного проецирования. Прямоугольные проекции геометрических тел. Выполнение задания по построению прямоугольной проекции геометрического тела.
11.	Общие сведения о стандартах в системе ЕСКД на машиностроительное черчение. Общие правила. Выполнение индивидуальных заданий по использованию стандартов ЕСКД. Графические обозначения материалов и правила их нанесения на

	чертежах. Условности и упрощения на чертежах. Выполнение задания по обозначению материалов, условностей на чертеже.
12.	Основные виды. Классификация разрезов и сечений. Вычертить деталь на листе формата А-4 с тремя видами, разрезом и сечением.
13.	Алгоритм построения окружности в аксонометрии. Вычертить окружность в аксонометрии на листе формата А-4.
14.	Пошаговый алгоритм построения комплексного чертежа. Вычертить комплексный чертеж модели на листе формата А-4
15.	Виды технических рисунков. Алгоритм построения технического рисунка. Элементы технического рисования их использование в чертежах. Нарисовать технический рисунок на листе формата А4.
16.	Проецирование геометрических тел и точек на их поверхностях. Выполнение задания по построению проекций точек на поверхности тел .
17.	Построение развертки и аксонометрической проекции усеченного тела (призмы, цилиндра, пирамиды, конуса, тора, шара).Вычертить развертку и аксонометрическую проекцию усеченного тела (призмы) на листе формата А-4.
18.	Комплексный чертеж группы геометрических тел. Вычертить комплексный чертеж группы геометрических тел на листе А-4.
19.	Изображение группы тел в изометрии. Вычертить чертеж группы геометрических тел в изометрии на листе А-4.
20.	Алгоритм построения комплексного чертежа детали по аксонометрии. Вычертить комплексный чертеж детали по аксонометрии на листе А-4
21.	Классификация разрезов их обозначение. Вычертить деталь (в разрезе) на листе формата А-4 .
22.	Алгоритм построения чертежа детали в аксонометрии по 3-м проекциям. Вычертить чертеж детали в аксонометрии (по 3-м проекциям) на листе формата А-4.
23.	Алгоритм построения чертежа детали в аксонометрии по 3-м проекциям. Вычертить чертеж детали в аксонометрии (по 3-м проекциям) на листе формата А-4.
24.	Методика построения третьей проекции по 2-м заданным и аксонометрии. Вычертить чертеж с построением 3-й проекции по 2-м заданным и аксонометрии на листе формата А-4.
25.	Виды Аксонометрии. Алгоритм построения чертежа детали в аксонометрии. Вычертить чертеж заданной детали в аксонометрии на листе формата А-4.
26.	Алгоритм построения чертежа детали (симметричной фигуры) в аксонометрии. Алгоритм построения чертежа детали с вырезом 1/4 в аксонометрии.
27.	Понятие и предназначение эскиза. Алгоритм выполнения эскиза. Понятие и предназначение рабочего чертежа. Алгоритм выполнения рабочего чертежа. Выполнить эскиз и рабочий чертеж заданной

	детали.
28.	Понятие и предназначение сборочного чертежа. Порядок и алгоритм выполнения сборочного чертежа. Выполнить сборочный чертеж (по заданию) на листе формата А4.
29.	Спецификация на сборочном чертеже. Разрезы и детализирование на сборочных чертежах. Выполнить сборочный чертеж (по заданию) на листе формата А4.
30.	Понятие строительного чертежа, его виды и особенности. Стандарты в оформлении строительных чертежей.
31.	Модульная система построения и чтения чертежей. Условные графические обозначения. Сопровождающие тексты, таблицы, выноски, ссылки в строительных чертежах.
32.	Алгоритм выполнения плана здания. Требования к планам и специфика их вычерчивания.
33.	Понятие и предназначение спецификации. Правила их выполнения. Спецификации и экспликации в строительном черчении.
34.	Вычертить план цеха (пекарни) со спецификацией оборудования на листе А4.
35.	Назначение редактора AutoCad в построении чертежей и проектировании. Слои.
36.	Панели инструментов. Командная строка. Выполнение практического задания по усвоению темы на компьютере в программе Компас-3D .
37.	Методика и приемы работы с графической информацией. Выполнение практического задания по усвоению темы на компьютере в программе Компас-3D .
38.	Линии чертежа. Настройка слоев и типов линий. Выполнение практического задания по усвоению темы на компьютере в программе Компас-3D .
39.	Набор текста , слов в программе Компас-3D . Выбор стиля.
40.	Редактирование текста , слов в программе Компас-3D . Поворот. Вставка символов
41.	Нанесение размеров. Изменение размеров. Изменение стиля в программе Компас-3D .
42.	Настройка слоев. Приемы работы с графической информацией в программе Компас-3D .
43.	Линии чертежа. Методика настройки слоев в зависимости от типов линий. Выполнение практического задания по усвоению темы на компьютере в программе Компас-3D.
44.	Инструменты коррекции: копирование, перемещение, «зеркало», сопряжение, разрыв, масштаб, массив. Выполнение практического задания по усвоению темы на компьютере в программе Компас-3D .
45.	Алгоритм выполнения рамки и штампа чертежа на компьютере. Выполнение практического задания по усвоению темы на компьютере в программе Компас-3D.

46.	Алгоритм выполнения рамки чертежа в 3-х проекциях на компьютере. Выполнение практического задания по усвоению темы на компьютере в программе Компас-3D.
47.	Алгоритм построения вида детали в аксонометрии на компьютере. Выполнение практического задания по усвоению темы на компьютере в программе Компас-3D.
48.	Алгоритм построения разрезов детали в аксонометрических проекциях на компьютере. Выполнение практического задания по усвоению темы на компьютере в программе Компас-3D.
49.	Алгоритм вычерчивания контуров деталей с применением рациональных методов деления окружности на равные части на компьютере. Использование метода сопряжения дуг и окружностей для вычерчивания контуров деталей.
50.	Алгоритм вычерчивания плана цеха (кондитерских изделий). Алгоритм выполнения спецификации оборудования цеха . Выполнение практического задания по усвоению темы на компьютере в программе Компас-3D .
51.	Дифференцированный зачёт